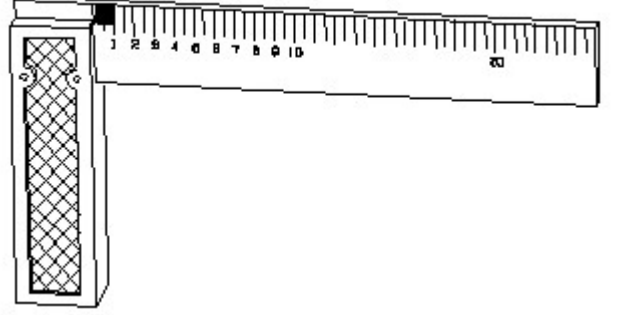


Student Name: _____ Roll No: _____

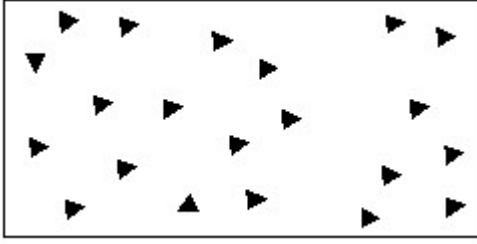
1. Identify the name of set square? | ಸೆಟ್ ಚೌಕದ ಹೆಸರನ್ನು ಗುರುತಿಸುವುದೇ?



- A) 15° set square | 15° ಸೆಟ್ ಸ್ಕ್ವೇರ್
 B) 60° set square | 60° ಸೆಟ್ ಸ್ಕ್ವೇರ್
 C) 45° set square | 45° ಸೆಟ್ ಸ್ಕ್ವೇರ್
 D) 30° set square | 30° ಸೆಟ್ ಸ್ಕ್ವೇರ್

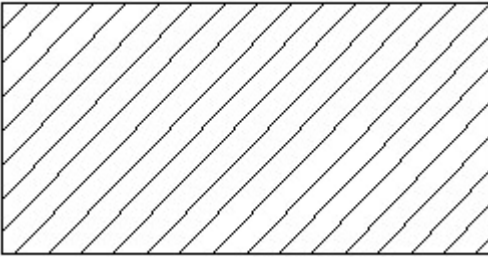


2. Identify the conventional symbol of material? | ವಸ್ತುವಿನ ಕನ್ವೆಷನಲ್ ಚಿಹ್ನೆಯನ್ನು ಗುರುತಿಸಿ?



- A) Steel | ಸ್ಟೀಲ್
 B) Glass | ಗಾಜು
 C) Wood | ಮರ
 D) Concrete | ಕಾಂಕ್ರೀಟ್

3. Identify the conventional symbol of material? | ವಸ್ತುವಿನ ಕನ್ವೆಷನಲ್ ಚಿಹ್ನೆಯನ್ನು ಗುರುತಿಸಿ?

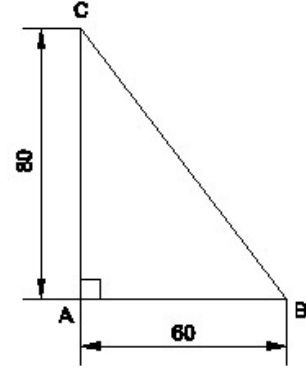


- A) Porcelain | ಪಿಂಗಾಣಿ
 B) Steel | ಸ್ಟೀಲ್
 C) Lead | ಲೀಡ್
 D) Glass | ಗಾಜು

4. 1). Identify the name of tool? | ಉಪಕರಣದ ಹೆಸರನ್ನು ಗುರುತಿಸುವುದೇ?

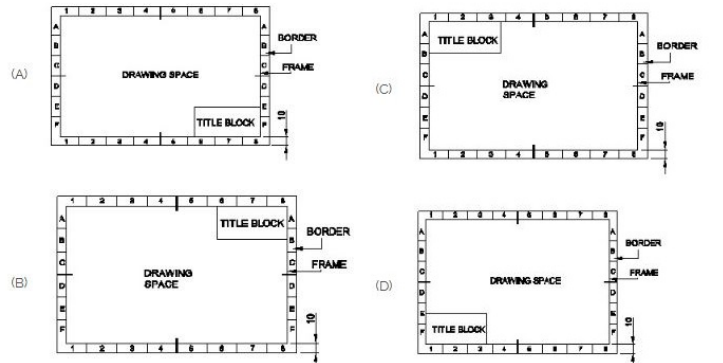
- A) Try square | ಟ್ರೈ ಸ್ಕ್ವೇರ್
 B) Feeler gauge | ಫೀಲರ್ ಗೇಜ್
 C) Surface gauge | ಮೇಲ್ಮೈ ಮಾಪಕ
 D) Steel rule | ಸ್ಟೀಲ್ ರೂಲ್

5. Identify the name of the triangle? | ತ್ರಿಕೋನದ ಹೆಸರನ್ನು ಗುರುತಿಸುವುದೇ?



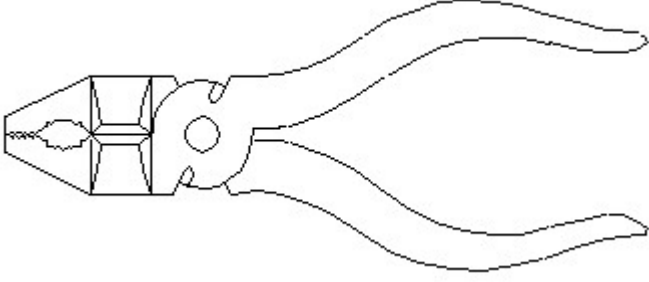
- A) Isosceles triangle | ಸಮದ್ವಿಭಾಜು ತ್ರಿಕೋನ
 B) Scalene triangle | ಸ್ಕೇಲಿನ್ ತ್ರಿಕೋನ
 C) Equilateral triangle | ಸಮಕೋನ ತ್ರಿಕೋನ
 D) Right angle triangle | ಬಲ ಕೋನ ತ್ರಿಕೋನ

6. Which title block position is correct as standard practice? | ಪ್ರಮಾಣಿತ ಅಭ್ಯಾಸದಂತೆ ಯಾವ ಶೀರ್ಷಿಕೆ ಬ್ಲಾಕ್ ಸ್ಥಾನವು ಸರಿಯಾಗಿದೆ?



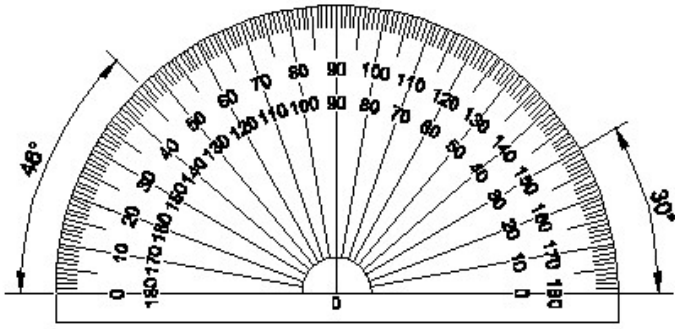
- A) B
C) A
B) C
D) D

7. Identify the name of tool? | ಉಪಕರಣದ ಹೆಸರನ್ನು ಗುರುತಿಸುವುದೇ?



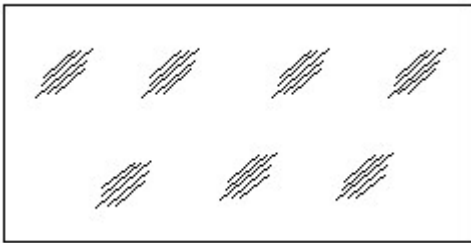
- A) Double cutting shear | ಡಬಲ್ ಕಟಿಂಗ್ ಸಿಯರ್
B) Cutting plier | ಕಟಿಂಗ್ ಪ್ಲಿಯರ್
C) Aviation shear | ಏವಿಯೇಷನ್ ಸಿಯರ್
D) Hawk-billed shear | ಹಾಕ್-ಬಿಲ್ಡ್ ಸಿಯರ್

8. Identify the name of instrument? | ಉಪಕರಣದ ಹೆಸರನ್ನು ಗುರುತಿಸುವುದೇ?



- A) Set square | ಸೆಟ್ ಸ್ಕ್ವೇರ್
B) T square | ಟಿ ಸ್ಕ್ವೇರ್
C) French curve | ಫ್ರೆಂಚ್ ಕರ್ವ್
D) Protractor | ಪ್ರೊಟ್ರಾಕ್ಟರ್

9. Identify the conventional symbol of material? | ವಸ್ತುವಿನ ಕನ್ವೆಷನಲ್ ಚಿಹ್ನೆಯನ್ನು ಗುರುತಿಸಿ?

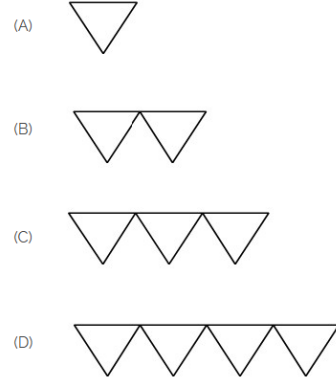


- A) Glass | ಗಾಜು
B) Wood | ಮರ
C) Concrete | ಕಾಂಕ್ರೀಟ್
D) Steel | ಸ್ಟೀಲ್

10. What is the trimmed size of A4 sheet? | A4 ಹಾಳೆಯ ಟ್ರಿಮ್ ಮಾಡಿದ ಗಾತ್ರ ಎಷ್ಟು?

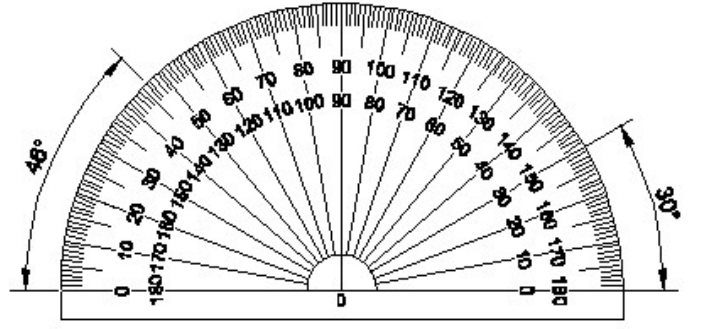
- A) 594 x 841
B) 148 x 210
C) 841 x 1189
D) 210 x 297

11. Which is roughness symbol for roughness grade N8?



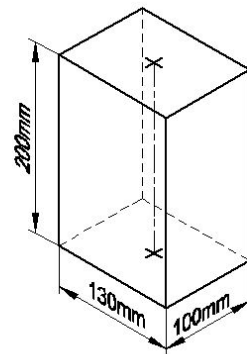
- A) D
B) C
C) A
D) B

12. Identify the name of instrument? | ಉಪಕರಣದ ಹೆಸರನ್ನು ಗುರುತಿಸುವುದೇ?



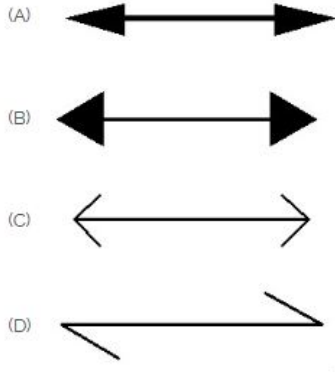
- A) Protractor | ಪ್ರೊಟ್ರಾಕ್ಟರ್
B) French curve | ಫ್ರೆಂಚ್ ಕರ್ವ್
C) T square | ಟಿ ಸ್ಕ್ವೇರ್
D) Set square | ಸೆಟ್ ಸ್ಕ್ವೇರ್

13. Identify the name of prism? | ಪ್ರಿಸ್ಮ್ ಹೆಸರನ್ನು ಗುರುತಿಸುವುದೇ?

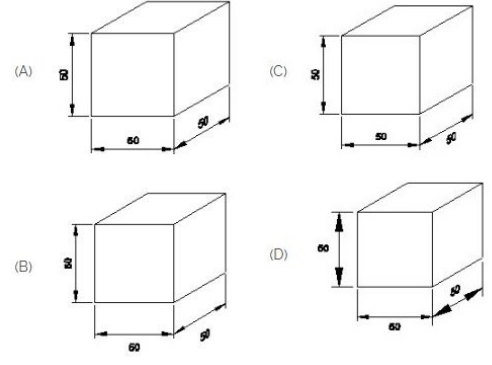


- A) Rectangle prism | ಆಯತ ಪ್ರಿಸ್ಮ್
B) Hexagonal prism | ಷಡ್ಭುಜೀಯ ಪ್ರಿಸ್ಮ್
C) Square prism | ಚದರ ಪ್ರಿಸ್ಮ್
D) Triangular prism | ತ್ರಿಕೋನ ಪ್ರಿಸ್ಮ್

14. Which arrow head is correct as per standard? | ಮಾನದಂಡದ ಪ್ರಕಾರ ಯಾವ ಬಾಣದ ಹೆಡ್ ಸರಿಯಾಗಿದೆ?

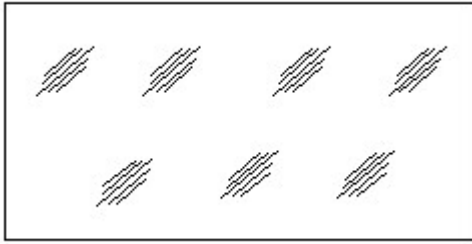


- A) B
C) C
- B) A
D) D



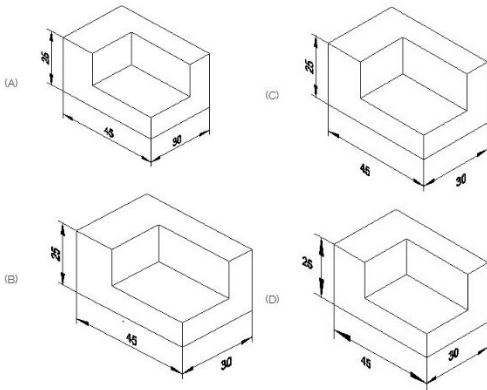
- A) C
C) D
- B) A
D) B

15. Identify the conventional symbol of material? | ವಸ್ತುವಿನ ಕನ್ವೆಷನಲ್ ಚಿಹ್ನೆಯನ್ನು ಗುರುತಿಸಿ?



- A) Concrete | ಕಾಂಕ್ರೀಟ್
C) Glass | ಗಾಜು
- B) Wood | ಮರ
D) Steel | ಸ್ಟೀಲ್

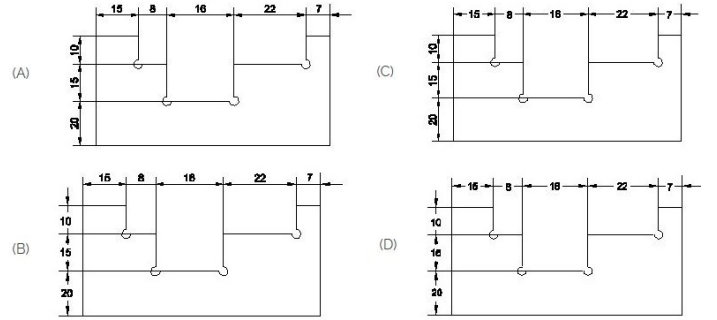
16. Which drawing dimension is correct as per standard drawing practice? | ಸ್ಟ್ಯಾಂಡರ್ಡ್ ಡ್ರಾಯಿಂಗ್ ಅಭ್ಯಾಸದ ಪ್ರಕಾರ ಯಾವ ಡ್ರಾಯಿಂಗ್ ಆಯಾಮ ಸರಿಯಾಗಿದೆ?



- A) A
C) C
- B) B
D) D

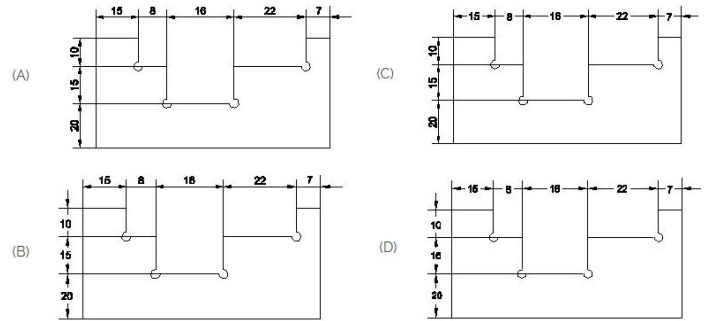
17. Which drawing dimension is correct as per IS standard? | IS ಮಾನದಂಡದ ಪ್ರಕಾರ ಯಾವ ರೇಖಾಚಿತ್ರದ ಆಯಾಮವು ಸರಿಯಾಗಿದೆ?

18. Identify the correct aligned system dimension? | ಸರಿಯಾದ ಜೋಡಿಸಲಾದ ಸಿಸ್ಟಮ್ ಆಯಾಮವನ್ನು ಗುರುತಿಸುವುದೇ?



- A) A
C) B
- B) D
D) C

19. Identify the correct aligned system dimension? | ಸರಿಯಾದ ಜೋಡಿಸಲಾದ ಸಿಸ್ಟಮ್ ಆಯಾಮವನ್ನು ಗುರುತಿಸುವುದೇ?

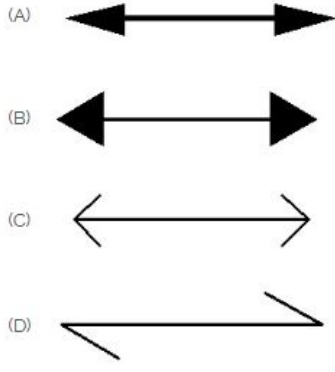


- A) C
C) A
- B) B
D) D

20. What is the trimmed size of A4 sheet? | A4 ಹಾಳೆಯ ಟ್ರಿಮ್ ಮಾಡಿದ ಗಾತ್ರ ಎಷ್ಟು?

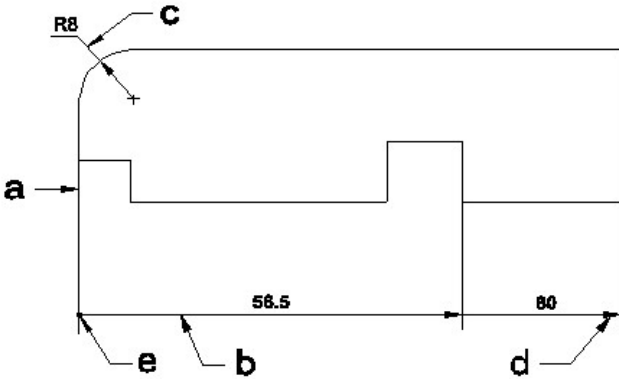
- A) 841 x 1189
C) 210 x 297
- B) 594 x 841
D) 148 x 210

21. Which arrow head is correct as per standard? | ಮಾನದಂಡದ ಪ್ರಕಾರ ಯಾವ ಬಾಣದ ಹೆಡ್ ಸರಿಯಾಗಿದೆ?



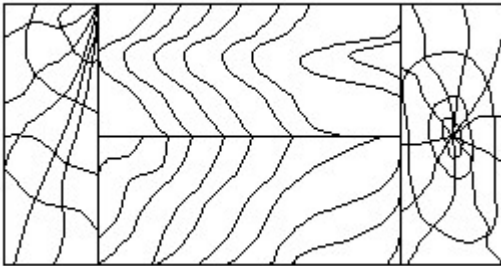
- A) C
C) B
B) A
D) D

22. Identify the line □ b □ ? | □ ಸಾಫಲನ್ನು ಗುರುತಿಸುವುದೇ?



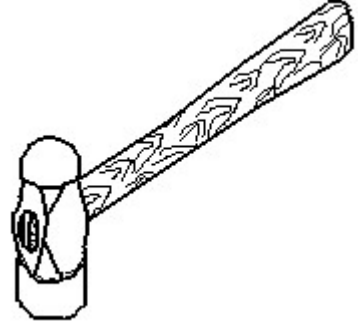
- A) Termination of dimension line | ಆಯಾಮ ರೇಖೆಯ ಮುಕ್ತಾಯ
B) Dimension line | ಡೈಮೆನ್ಷನ್ ಲೈನ್
C) Leader line | ಲೀಡರ್ ಲೈನ್
D) Extension line | ಎಕ್ಸ್ಟೆನ್ಷನ್ ಲೈನ್

23. Identify the conventional symbol of material? | ವಸ್ತುವಿನ ಕನ್ವೆಂಷನಲ್ ಚಿಹ್ನೆಯನ್ನು ಗುರುತಿಸಿ?



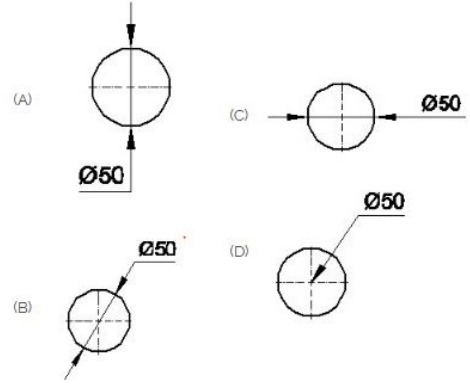
- A) Lead | ಲೀಡ್
C) Glass | ಗಾಜು
B) Paper | ಪೇಪರ್
D) Wood | ಮರ

24. Identify the name of tool? | ಉಪಕರಣದ ಹೆಸರನ್ನು ಗುರುತಿಸುವುದೇ?



- A) Sledge hammer | ಸ್ಲೆಡ್ಜ್ ಹ್ಯಾಮರ್ ಸುತ್ತಿಗೆ
C) Straight peen hammer | ನೇರ ಪೆನ್ ಸುತ್ತಿಗೆ
B) Ball peen hammer | ಬಾಲ್ ಪೆನ್ ಸುತ್ತಿಗೆ
D) Cross peen hammer | ಕ್ರಾಸ್ ಪೀನ್ ಸುತ್ತಿಗೆ

25. Which dimension correctly marked in the circle as per standard? | ಮಾನದಂಡದ ಪ್ರಕಾರ ವೃತ್ತದಲ್ಲಿ ಯಾವ ಆಯಾಮವನ್ನು ಸರಿಯಾಗಿ ಗುರುತಿಸಲಾಗಿದೆ?

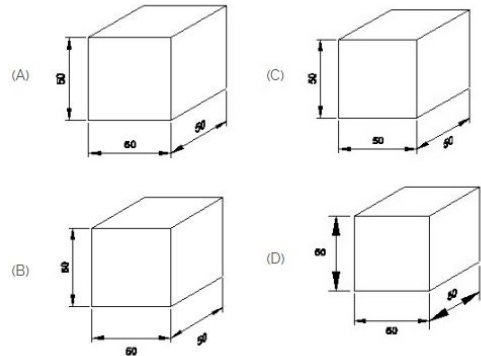


- A) D
C) A
B) B
D) C

26. Compass used to draw for ____. | ಕಂಪಾಸ್ ಅನ್ನು ____ ಗೆ ಸೆಳೆಯಲು ಬಳಸಲಾಗುತ್ತದೆ.

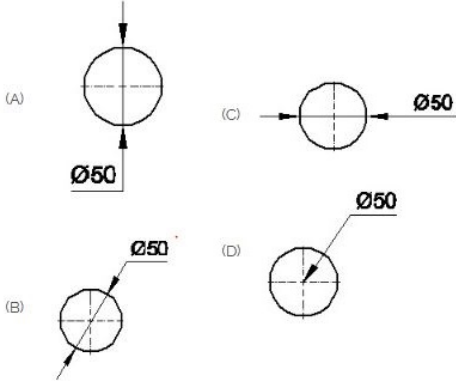
- A) triangle | ತ್ರಿಕೋನ
C) square | ಚದರ
B) rectangle | ಆಯಾತ
D) circle | ವೃತ್ತ

27. Which drawing dimension is correct as per IS standard? | IS ಮಾನದಂಡದ ಪ್ರಕಾರ ಯಾವ ರೇಖಾಚಿತ್ರದ ಆಯಾಮವು ಸರಿಯಾಗಿದೆ?



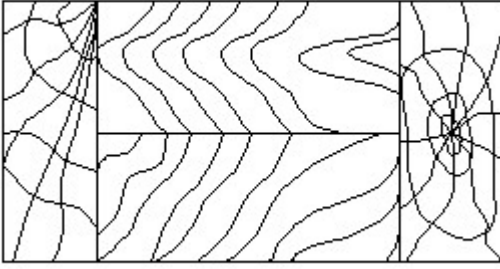
- A) B
C) A
B) C
D) D

28. Which dimension correctly marked in the circle as per standard? | ಮಾನದಂಡದ ಪ್ರಕಾರ ವೃತ್ತದಲ್ಲಿ ಯಾವ ಆಯಾಮವನ್ನು ಸರಿಯಾಗಿ ಗುರುತಿಸಲಾಗಿದೆ?



- A) B
C) D
B) C
D) A

29. Identify the conventional symbol of material? | ವಸ್ತುವಿನ ಕನ್ವೆಷನಲ್ ಚಿಹ್ನೆಯನ್ನು ಗುರುತಿಸಿ?



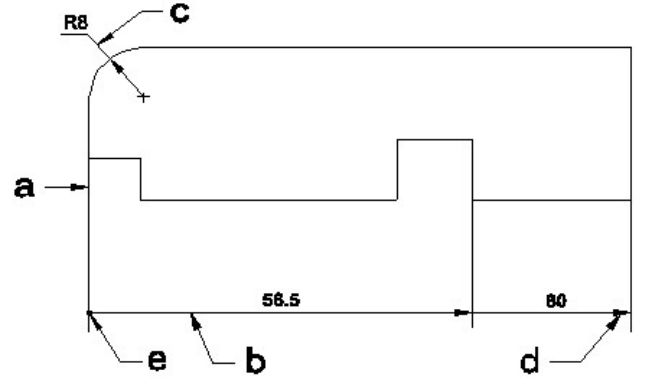
- A) Lead | ಲೀಡ್
C) Paper | ಪೇಪರ್
B) Glass | ಗಾಜು
D) Wood | ಮರ

30. Identify the name of set square? | ಸೆಟ್ ಚೌಕದ ಹೆಸರನ್ನು ಗುರುತಿಸುವುದೇ?



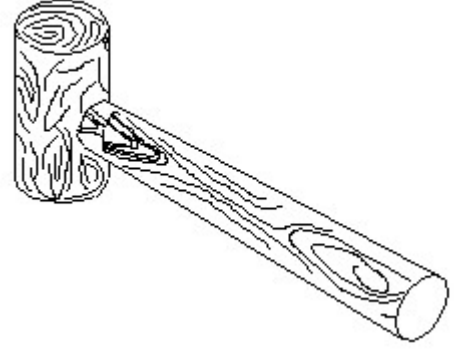
- A) 15° set square | 15° ಸೆಟ್ ಸ್ಕ್ವೇರ್
C) 60° set square | 60° ಸೆಟ್ ಸ್ಕ್ವೇರ್
B) 45° set square | 45° ಸೆಟ್ ಸ್ಕ್ವೇರ್
D) 30° set square | 30° ಸೆಟ್ ಸ್ಕ್ವೇರ್

31. Identify the line □ b□ ? | □ ಸಾಠಿನ್ನು ಗುರುತಿಸುವುದೇ?



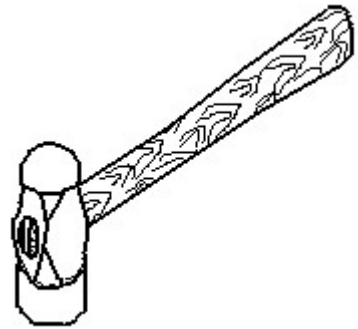
- A) Termination of dimension line | ಆಯಾಮ ರೇಖೆಯ ಮುಕ್ತಾಯ
C) Extension line | ಎಕ್ಸ್ಟೆನ್ಷನ್ ಲೈನ್
B) Leader line | ಲೀಡರ್ ಲೈನ್
D) Dimension line | ಡೈಮೆನ್ಷನ್ ಲೈನ್

32. Identify the name of tool? | ಉಪಕರಣದ ಹೆಸರನ್ನು ಗುರುತಿಸುವುದೇ?



- A) Mallet | ಮ್ಯಾಲೆಟ್
C) Ball peen hammer | ಬಾಲ್ ಪೆನ್ ಸುತ್ತಿಗೆ
B) Cross pein hammer | ಕ್ರಾಸ್ ಪೀನ್ ಸುತ್ತಿಗೆ
D) Straight pein hammer | ಸ್ಟ್ರೈಟ್ ಪೆನ್ ಸುತ್ತಿಗೆ

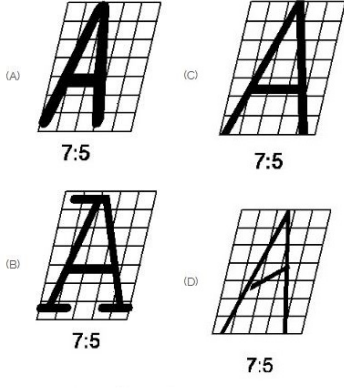
33. Identify the name of tool? | ಉಪಕರಣದ ಹೆಸರನ್ನು ಗುರುತಿಸುವುದೇ?



- A) Sledge hammer | ಸ್ಲೆಡ್ಜ್ ಸುತ್ತಿಗೆ
C) Ball peen hammer | ಬಾಲ್ ಪೆನ್ ಸುತ್ತಿಗೆ
B) Straight pein hammer | ನೇರ ಪೆನ್ ಸುತ್ತಿಗೆ
D) Cross pein hammer | ಕ್ರಾಸ್ ಪೀನ್ ಸುತ್ತಿಗೆ

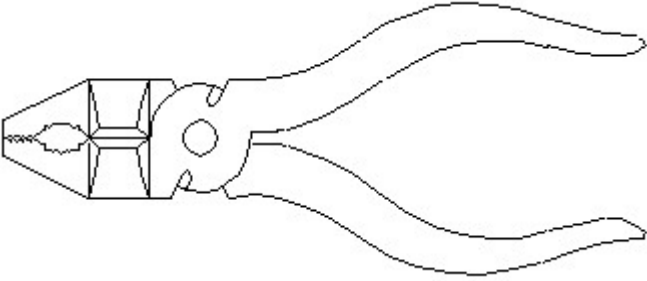
34. Which single stroke inclined letter □ A□ is correct as per IS

standard? | IS ಮಾನದಂಡದ ಪ್ರಕಾರ ಯಾವ ಏಕ ಸ್ಕೇಲ್ ಇಳಿಜಾರಿನ ಅಕ್ಷರ □ A ಡೆರಿಯಾಗಿದೆ?



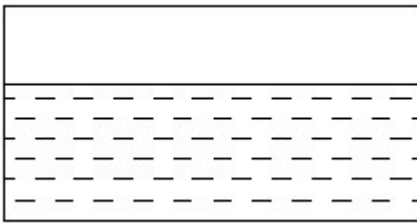
- A) D
B) A
C) B
D) C

35. Identify the name of tool? | ಉಪಕರಣದ ಹೆಸರನ್ನು ಗುರುತಿಸುವುದೇ?



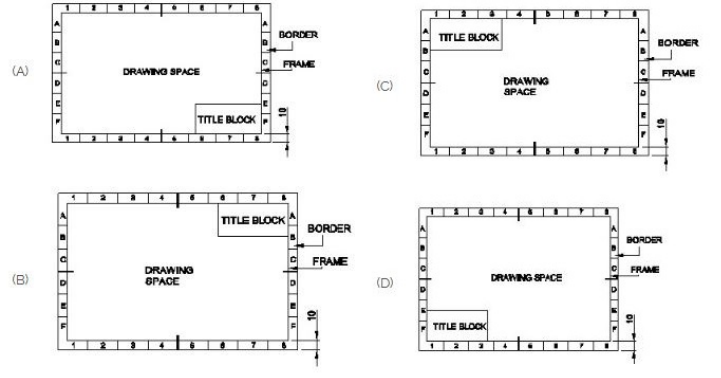
- A) Double cutting shear | ಡಬಲ್ ಕಟಿಂಗ್ ಷಿಯರ್
B) Aviation shear | ಏವಿಯೇಷನ್ ಷಿಯರ್
C) Hawk-billed shear | ಹಾಕ್-ಬಿಲ್ಡ್ ಷಿಯರ್
D) Cutting plier | ಕಟಿಂಗ್ ಪ್ಲಿಯರ್

36. Identify the conventional symbol of material? | ವಸ್ತುವಿನ ಕನ್ವೆಷನಲ್ ಚಿಹ್ನೆಯನ್ನು ಗುರುತಿಸಿ?



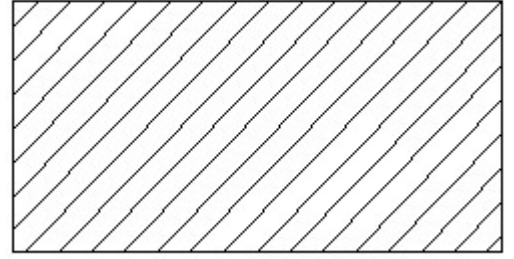
- A) Water | ನೀರು
B) Glass | ಗಾಜು
C) Asbestos | ಆಸ್ಟೆಸ್ಟೋಸ್
D) Concrete | ಕಾಂಕ್ರೀಟ್

37. Which title block position is correct as standard practice? | ಪ್ರಮಾಣಿತ ಅಭ್ಯಾಸದಂತೆ ಯಾವ ಶೀರ್ಷಿಕೆ ಬ್ಲಾಕ್ ಸ್ಥಾನವು ಸರಿಯಾಗಿದೆ?



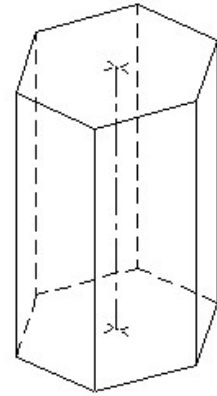
- A) B
B) C
C) A
D) D

38. Identify the conventional symbol of material? | ವಸ್ತುವಿನ ಕನ್ವೆಷನಲ್ ಚಿಹ್ನೆಯನ್ನು ಗುರುತಿಸಿ?



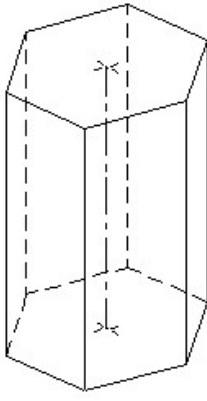
- A) Lead | ಲೀಡ್
B) Glass | ಗಾಜು
C) Steel | ಸ್ಟೀಲ್
D) Porcelain | ಪಿಂಗಾಣಿ

39. Identify the name of prism? | ಪ್ರಿಸ್ಮ್ ಹೆಸರನ್ನು ಗುರುತಿಸುವುದೇ?



- A) Triangular prism | ತ್ರಿಕೋನ ಪ್ರಿಸ್ಮ್
B) Pentagonal prism | ಪೆಂಟಾಗೋನಲ್ ಪ್ರಿಸ್ಮ್
C) Square prism | ಚದರ ಪ್ರಿಸ್ಮ್
D) Hexagonal prism | ಷಡ್ಭುಜೀಯ ಪ್ರಿಸ್ಮ್

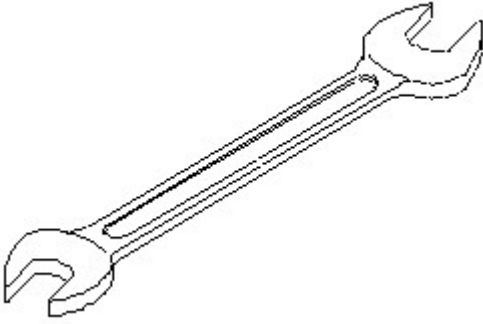
40. Identify the name of prism? | ಪ್ರಿಸ್ಮ್ ಹೆಸರನ್ನು ಗುರುತಿಸುವುದೇ?



A) Pentagonal prism | ಪೆಂಟಗೋನಲ್ ಪ್ರಿಸ್ಮ್
C) Hexagonal prism | ಷಡ್ಭುಜೀಯ ಪ್ರಿಸ್ಮ್

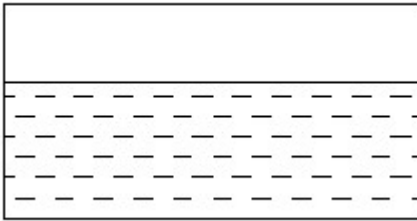
B) Triangular prism | ತ್ರಿಕೋನ ಪ್ರಿಸ್ಮ್
D) Square prism | ಚದರ ಪ್ರಿಸ್ಮ್

41. Identify the name of tool? | ಉಪಕರಣದ ಹೆಸರನ್ನು ಗುರುತಿಸುವುದೇ?



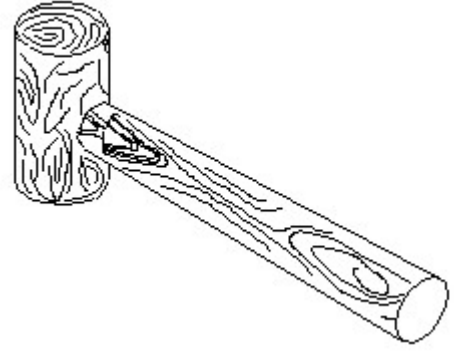
A) Open end spanner | ಓಪನ್ ಎಂಡ್ ಸ್ಪಾನರ್
B) Combination spanner | ಕಾಂಬಿನೇಶನ್ ಸ್ಪಾನರ್
C) Ring spanner | ರಿಂಗ್ ಸ್ಪಾನರ್
D) Adjustable spanner | ಹೊಂದಿಸಬಹುದಾದ ಸ್ಪಾನರ್

42. Identify the conventional symbol of material? | ವಸ್ತುವಿನ ಕನ್ವೆಷನಲ್ ಚಿಹ್ನೆಯನ್ನು ಗುರುತಿಸಿ?



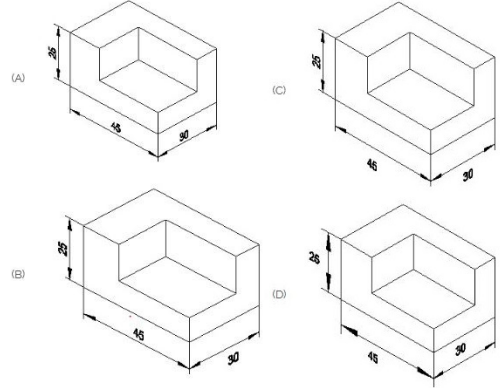
A) Asbestos | ಆಸ್ಟೆಸ್ಟೋಸ್
C) Concrete | ಕಾಂಕ್ರೀಟ್
B) Glass | ಗಾಜು
D) Water | ನೀರು

43. Identify the name of tool? | ಉಪಕರಣದ ಹೆಸರನ್ನು ಗುರುತಿಸುವುದೇ?



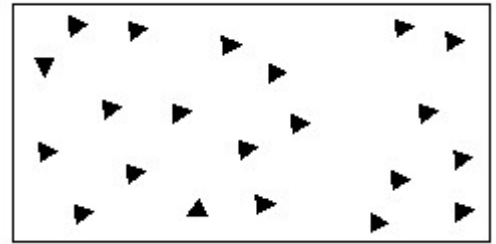
A) Cross peen hammer | ಕ್ರಾಸ್ ಪೀನ್ ಸುತ್ತಿಗೆ
C) Mallet | ಮ್ಯಾಲೆಟ್
B) Ball peen hammer | ಬಾಲ್ ಪೀನ್ ಸುತ್ತಿಗೆ
D) Straight peen hammer | ಸ್ಟ್ರೈಟ್ ಪೀನ್ ಸುತ್ತಿಗೆ

44. Which drawing dimension is correct as per standard drawing practice? | ಸ್ಟ್ಯಾಂಡರ್ಡ್ ಡ್ರಾಯಿಂಗ್ ಅಭ್ಯಾಸದ ಪ್ರಕಾರ ಯಾವ ಡ್ರಾಯಿಂಗ್ ಆಯಾಮ ಸರಿಯಾಗಿದೆ?



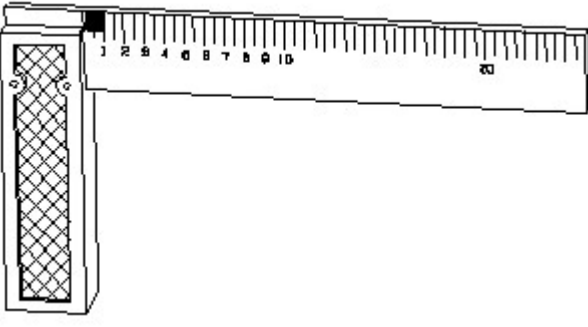
A) A
C) D
B) C
D) B

45. Identify the conventional symbol of material? | ವಸ್ತುವಿನ ಕನ್ವೆಷನಲ್ ಚಿಹ್ನೆಯನ್ನು ಗುರುತಿಸಿ?



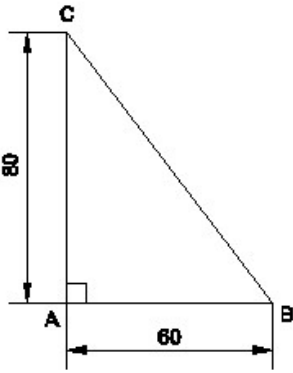
A) Steel | ಸ್ಟೀಲ್
C) Wood | ಮರ
B) Concrete | ಕಾಂಕ್ರೀಟ್
D) Glass | ಗಾಜು

46. 1). Identify the name of tool? | ಉಪಕರಣದ ಹೆಸರನ್ನು ಗುರುತಿಸುವುದೇ?



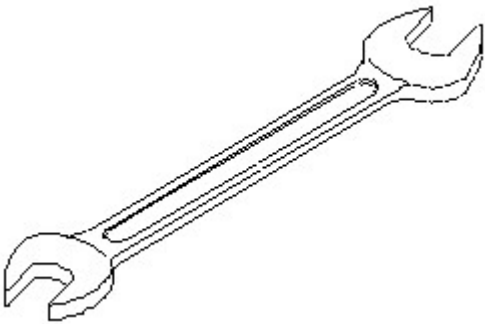
- A) Surface gauge | ಮೇಲ್ಮೈ ಮಾಪಕ
B) Try square | ಟ್ರೈ ಸ್ಕ್ವೇರ್
C) Feeler gauge | ಫೀಲರ್ ಗೇಜ್
D) Steel rule | ಸ್ಟೀಲ್ ರೂಲ್

47. Identify the name of the triangle? | ತ್ರಿಕೋನದ ಹೆಸರನ್ನು ಗುರುತಿಸುವುದೇ?



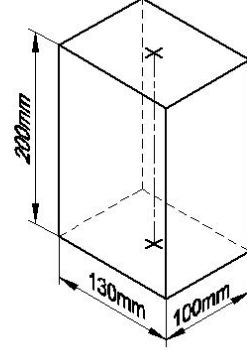
- A) Equilateral triangle | ಸಮಕೋನ ತ್ರಿಕೋನ
B) Right angle triangle | ಬಲ ಕೋನ ತ್ರಿಕೋನ
C) Scalene triangle | ಸ್ಕೇಲಿನ್ ತ್ರಿಕೋನ
D) Isosceles triangle | ಸಮದ್ವಿಭಾಹು ತ್ರಿಭುಜ

48. Identify the name of tool? | ಉಪಕರಣದ ಹೆಸರನ್ನು ಗುರುತಿಸುವುದೇ?



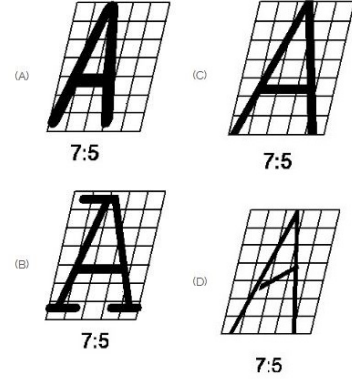
- A) Ring spanner | ರಿಂಗ್ ಸ್ಪ್ಯಾನರ್
B) Adjustable spanner | ಹೊಂದಿಸಬಹುದಾದ ಸ್ಪ್ಯಾನರ್
C) Open end spanner | ಓಪನ್ ಎಂಡ್ ಸ್ಪ್ಯಾನರ್
D) Combination spanner | ಕಾಂಬಿನೇಶನ್ ಸ್ಪ್ಯಾನರ್

49. Identify the name of prism? | ಪ್ರಿಸ್ಮ್ ಹೆಸರನ್ನು ಗುರುತಿಸುವುದೇ?



- A) Hexagonal prism | ಷಡ್ಭುಜೀಯ ಪ್ರಿಸ್ಮ್
B) Square prism | ಚದರ ಪ್ರಿಸ್ಮ್
C) Rectangle prism | ಆಯತ ಪ್ರಿಸ್ಮ್
D) Triangular prism | ತ್ರಿಕೋನ ಪ್ರಿಸ್ಮ್

50. Which single stroke inclined letter A is correct as per IS standard? | IS ಮಾನದಂಡದ ಪ್ರಕಾರ ಯಾವ ಏಕ ಸ್ಟ್ರೋಕ್ ಇಳಿಜಾರಿನ ಅಕ್ಷರ A ಠೇರಿಯಾಗಿದೆ?



- A) B
B) D
C) C
D) A

51. Compass used to draw for ____. | ಕಂಪಾಸ್ ಅನ್ನು _____ ಗೆ ಸೆಳೆಯಲು ಬಳಸಲಾಗುತ್ತದೆ.

- A) square | ಚದರ
B) rectangle | ಆಯಾತ
C) triangle | ತ್ರಿಕೋನ
D) circle | ವೃತ್ತ