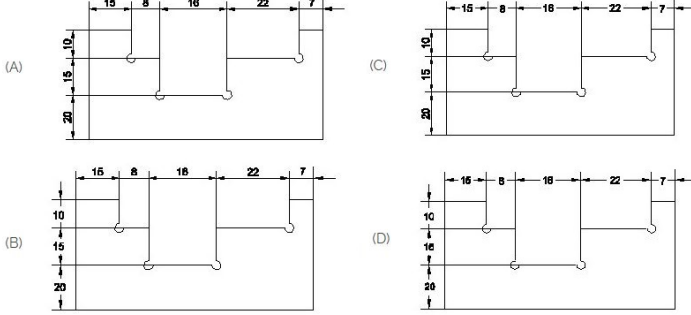


Duration: 30 Mins

Total Marks: 51

Q.ID: ITISKILL2306DI

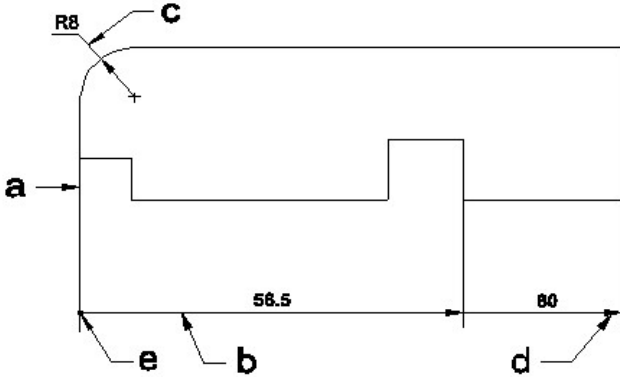
1. Identify the correct aligned system dimension? | ಸರಿಯಾದ ಜೋಡಿಸಲಾದ ಸಿಸ್ಟಮ್ ಆಯಾಮವನ್ನು ಗುರುತಿಸುವುದೇ?



- A) A                      B) C  
C) D                      D) B

Answer: A) A

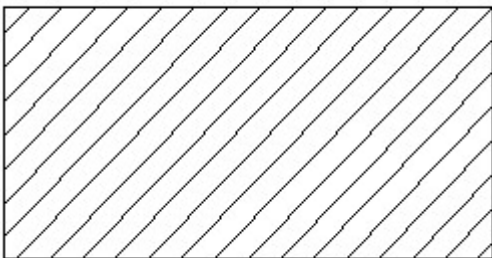
2. Identify the line  $\square$  b  $\square$  ? |  $\square$  ಸಾಲುನ್ನು ಗುರುತಿಸುವುದೇ?



- A) Extension line | ಎಕ್ಸ್ಟೆನ್ಷನ್ ಲೈನ್      B) Dimension line | ಡೈಮೆನ್ಷನ್ ಲೈನ್  
C) Termination of dimension line | ಆಯಾಮ ರೇಖೆಯ ಮುಕ್ತಾಯ      D) Leader line | ಲೀಡರ್ ಲೈನ್

Answer: B) Dimension line | ಡೈಮೆನ್ಷನ್ ಲೈನ್

3. Identify the conventional symbol of material? | ವಸ್ತುವಿನ ಕನ್ವೆಷನಲ್ ಚಿಹ್ನೆಯನ್ನು ಗುರುತಿಸಿ?

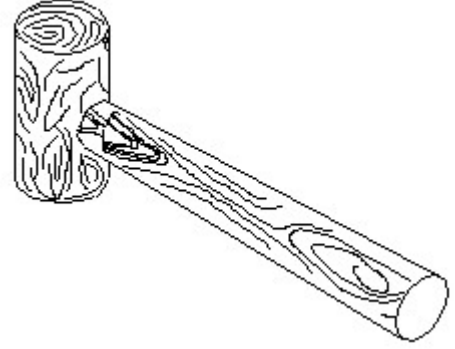


- A) Glass | ಗಾಜು                      B) Lead | ಲೀಡ್

- C) Porcelain | ಪಿಂಗಾಣಿ                      D) Steel | ಸ್ಟೀಲ್

Answer: D) Steel | ಸ್ಟೀಲ್

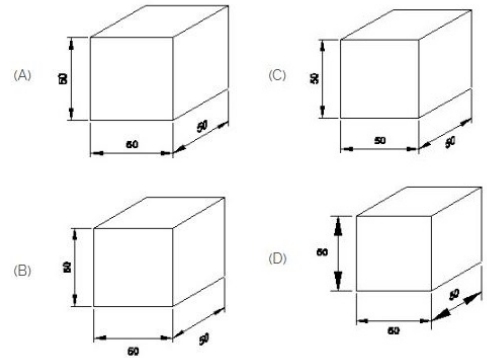
4. Identify the name of tool? | ಉಪಕರಣದ ಹೆಸರನ್ನು ಗುರುತಿಸುವುದೇ?



- A) Cross pein hammer | ಕ್ರಾಸ್ ಪೀನ್ ಸುತ್ತಿಗೆ      B) Mallet | ಮ್ಯಾಲೆಟ್  
C) Straight pein hammer | ಸ್ಟ್ರೈಟ್ ಪೀನ್ ಸುತ್ತಿಗೆ      D) Ball pein hammer | ಬಾಲ್ ಪೀನ್ ಸುತ್ತಿಗೆ

Answer: B) Mallet | ಮ್ಯಾಲೆಟ್

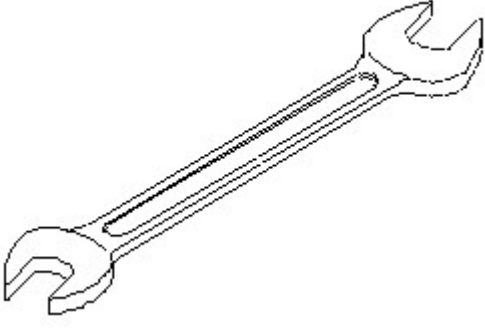
5. Which drawing dimension is correct as per IS standard? | IS ಮಾನದಂಡದ ಪ್ರಕಾರ ಯಾವ ರೇಖಾಚಿತ್ರದ ಆಯಾಮವು ಸರಿಯಾಗಿದೆ?



- A) C                      B) B  
C) A                      D) D

Answer: C) A

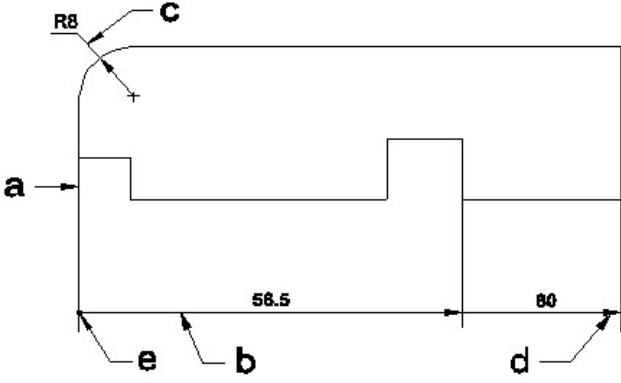
6. Identify the name of tool? | ಉಪಕರಣದ ಹೆಸರನ್ನು ಗುರುತಿಸುವುದೇ?



- A) Combination spanner | ಕಾಂಬಿನೇಶನ್ ಸ್ಪ್ಯಾನರ್  
 B) Open end spanner | ಓಪನ್ ಎಂಡ್ ಸ್ಪ್ಯಾನರ್  
 C) Ring spanner | ರಿಂಗ್ ಸ್ಪ್ಯಾನರ್  
 D) Adjustable spanner | ಹೊಂದಿಸಬಹುದಾದ ಸ್ಪ್ಯಾನರ್

Answer: B) Open end spanner | ಓಪನ್ ಎಂಡ್ ಸ್ಪ್ಯಾನರ್

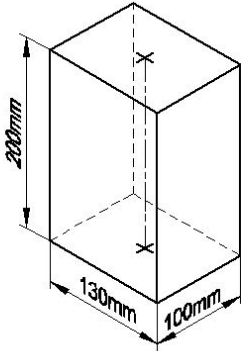
7. Identify the line  $\square$  b  $\square$  ? |  $\square$  ಸಾಲುನ್ನು ಗುರುತಿಸುವುದೇ?



- A) Termination of dimension line | ಆಯಾಮ ರೇಖೆಯ ಮುಕ್ತಾಯ  
 B) Dimension line | ಡೈಮೆನ್ಷನ್ ಲೈನ್  
 C) Extension line | ಎಕ್ಸ್ಟೆನ್ಷನ್ ಲೈನ್  
 D) Leader line | ಲೀಡರ್ ಲೈನ್

Answer: B) Dimension line | ಡೈಮೆನ್ಷನ್ ಲೈನ್

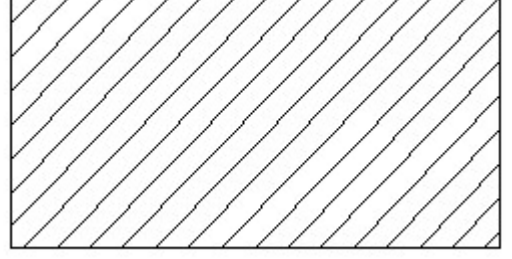
8. Identify the name of prism? | ಪ್ರಿಸ್ಮ್ ಹೆಸರನ್ನು ಗುರುತಿಸುವುದೇ?



- A) Rectangle prism | ಆಯತ ಪ್ರಿಸ್ಮ್  
 B) Square prism | ಚದರ ಪ್ರಿಸ್ಮ್  
 C) Hexagonal prism | ಷಡ್ಭುಜೀಯ ಪ್ರಿಸ್ಮ್  
 D) Triangular prism | ತ್ರಿಕೋನ ಪ್ರಿಸ್ಮ್

Answer: A) Rectangle prism | ಆಯತ ಪ್ರಿಸ್ಮ್

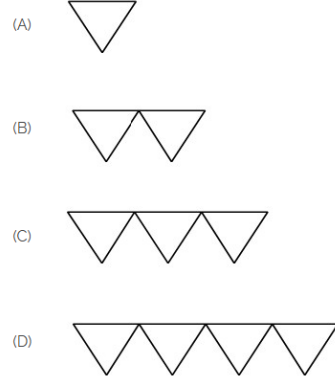
9. Identify the conventional symbol of material? | ವಸ್ತುವಿನ ಕನ್ವೆಷನಲ್ ಚಿಹ್ನೆಯನ್ನು ಗುರುತಿಸಿ?



- A) Porcelain | ಪಿಂಗಾಣಿ  
 B) Glass | ಗಾಜು  
 C) Steel | ಸ್ಟೀಲ್  
 D) Lead | ಲೀಡ್

Answer: C) Steel | ಸ್ಟೀಲ್

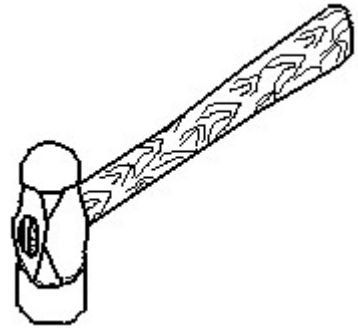
10. Which is roughness symbol for roughness grade N8?



- A) A  
 B) C  
 C) B  
 D) D

Answer: C) B

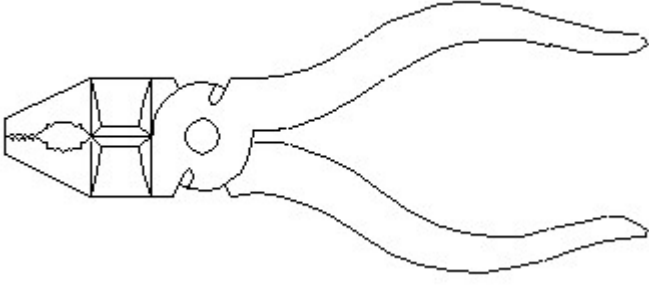
11. Identify the name of tool? | ಉಪಕರಣದ ಹೆಸರನ್ನು ಗುರುತಿಸುವುದೇ?



- A) Ball peen hammer | ಬಾಲ್ ಪೆನ್ ಸುತ್ತಿಗೆ  
 B) Sledge hammer | ಸ್ಲೆಡ್ಜ್ ಸುತ್ತಿಗೆ  
 C) Cross peen hammer | ಕ್ರಾಸ್ ಪೆನ್ ಸುತ್ತಿಗೆ  
 D) Straight peen hammer | ನೇರ ಪೆನ್ ಸುತ್ತಿಗೆ

Answer: A) Ball peen hammer | ಬಾಲ್ ಪೆನ್ ಸುತ್ತಿಗೆ

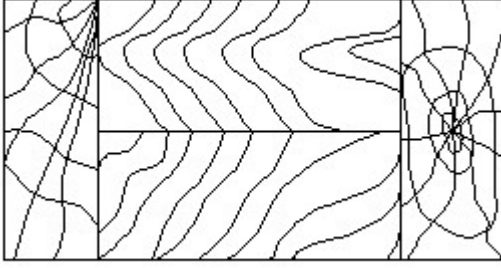
12. Identify the name of tool? | ಉಪಕರಣದ ಹೆಸರನ್ನು ಗುರುತಿಸುವುದೇ?



- A) Cutting plier | ಕಟಿಂಗ್ ಪ್ಲೈಯರ್  
 B) Aviation shear | ಏವಿಯೇಷನ್ ಸಿಯರ್  
 C) Double cutting shear | ಡಬಲ್ ಕಟಿಂಗ್ ಸಿಯರ್  
 D) Hawk-billed shear | ಹಾಕ್-ಬಿಲ್ಡ್ ಸಿಯರ್

**Answer: A) Cutting plier | ಕಟಿಂಗ್ ಪ್ಲೈಯರ್**

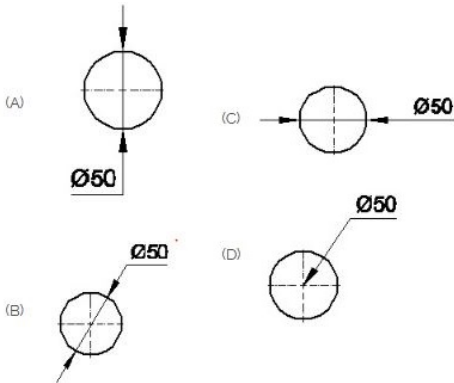
**13. Identify the conventional symbol of material? | ವಸ್ತುವಿನ ಕನ್ವೆಷನಲ್ ಚಿಹ್ನೆಯನ್ನು ಗುರುತಿಸಿ?**



- A) Paper | ಪೇಪರ್  
 B) Lead | ಲೀಡ್  
 C) Glass | ಗಾಜು  
 D) Wood | ಮರ

**Answer: D) Wood | ಮರ**

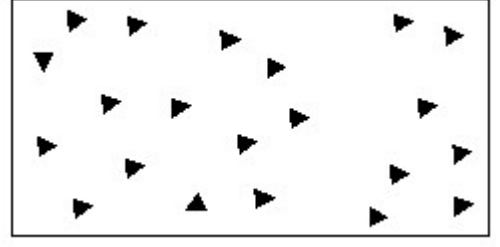
**14. Which dimension correctly marked in the circle as per standard? | ಮಾನದಂಡದ ಪ್ರಕಾರ ವೃತ್ತದಲ್ಲಿ ಯಾವ ಆಯಾಮವನ್ನು ಸರಿಯಾಗಿ ಗುರುತಿಸಲಾಗಿದೆ?**



- A) D  
 B) A  
 C) C  
 D) B

**Answer: D) B**

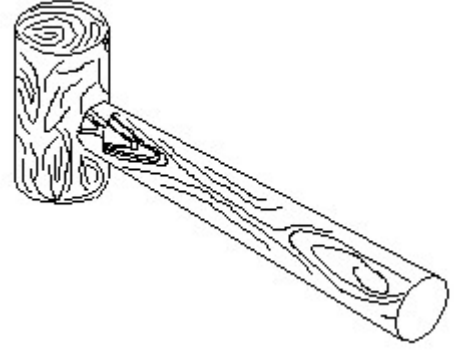
**15. Identify the conventional symbol of material? | ವಸ್ತುವಿನ ಕನ್ವೆಷನಲ್ ಚಿಹ್ನೆಯನ್ನು ಗುರುತಿಸಿ?**



- A) Glass | ಗಾಜು  
 B) Wood | ಮರ  
 C) Steel | ಸ್ಟೀಲ್  
 D) Concrete | ಕಾಂಕ್ರೀಟ್

**Answer: D) Concrete | ಕಾಂಕ್ರೀಟ್**

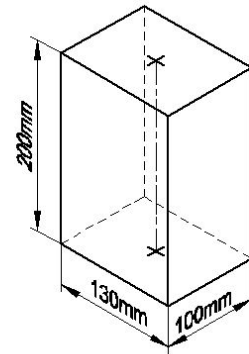
**16. Identify the name of tool? | ಉಪಕರಣದ ಹೆಸರನ್ನು ಗುರುತಿಸುವುದೇ?**



- A) Mallet | ಮ್ಯಾಲೆಟ್  
 B) Cross pein hammer | ಕ್ರಾಸ್ ಪೀನ್ ಸುತ್ತಿಗೆ  
 C) Straight pein hammer | ಸ್ಟ್ರೈಟ್ ಪೀನ್ ಸುತ್ತಿಗೆ  
 D) Ball pein hammer | ಬಾಲ್ ಪೀನ್ ಸುತ್ತಿಗೆ

**Answer: A) Mallet | ಮ್ಯಾಲೆಟ್**

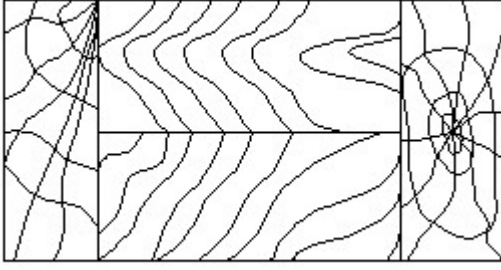
**17. Identify the name of prism? | ಪ್ರಿಸ್ಮ್ ಹೆಸರನ್ನು ಗುರುತಿಸುವುದೇ?**



- A) Hexagonal prism | ಷಡ್ಭುಜೀಯ ಪ್ರಿಸ್ಮ್  
 B) Rectangle prism | ಆಯತ ಪ್ರಿಸ್ಮ್  
 C) Square prism | ಚದರ ಪ್ರಿಸ್ಮ್  
 D) Triangular prism | ತ್ರಿಕೋನ ಪ್ರಿಸ್ಮ್

**Answer: B) Rectangle prism | ಆಯತ ಪ್ರಿಸ್ಮ್**

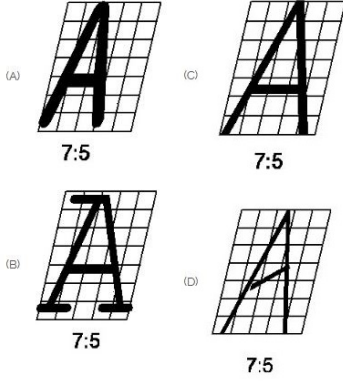
**18. Identify the conventional symbol of material? | ವಸ್ತುವಿನ ಕನ್ವೆಷನಲ್ ಚಿಹ್ನೆಯನ್ನು ಗುರುತಿಸಿ?**



- A) Wood | ಮರ  
B) Paper | ಪೇಪರ್  
C) Glass | ಗಾಜು  
D) Lead | ಲೀಡ್

Answer: A) Wood | ಮರ

19. Which single stroke inclined letter □ A□ is correct as per IS standard? | IS ಮಾನದಂಡದ ಪ್ರಕಾರ ಯಾವ ಏಕ ಸ್ಟ್ರೋಕ್ ಇಳಿಜಾರಿನ ಅಕ್ಷರ □ A□ರಿಯಾಗಿದೆ?



- A) C  
B) B  
C) A  
D) D

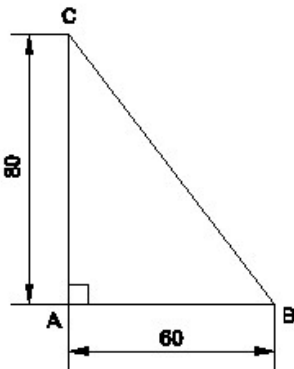
Answer: A) C

20. Compass used to draw for \_\_\_\_. | ಕಂಪಾಸ್ ಅನ್ನು \_\_\_\_ ಗೆ ಸೆಳೆಯಲು ಬಳಸಲಾಗುತ್ತದೆ.

- A) square | ಚದರ  
B) circle | ವೃತ್ತ  
C) rectangle | ಆಯಾತ  
D) triangle | ತ್ರಿಕೋನ

Answer: B) circle | ವೃತ್ತ

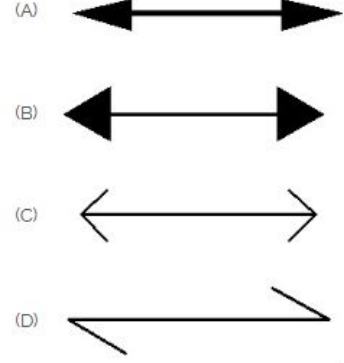
21. Identify the name of the triangle? | ತ್ರಿಕೋನದ ಹೆಸರನ್ನು ಗುರುತಿಸುವುದೇ?



- A) Scalene triangle | ಸ್ಕೇಲಿನ್ ತ್ರಿಕೋನ  
B) Isosceles triangle | ಸಮದ್ವಿಭಾಹು ತ್ರಿಕೋನ  
C) Right angle triangle | ಬಲ ಕೋನ ತ್ರಿಕೋನ  
D) Equilateral triangle | ಸಮಕೋನ ತ್ರಿಕೋನ

Answer: C) Right angle triangle | ಬಲ ಕೋನ ತ್ರಿಕೋನ

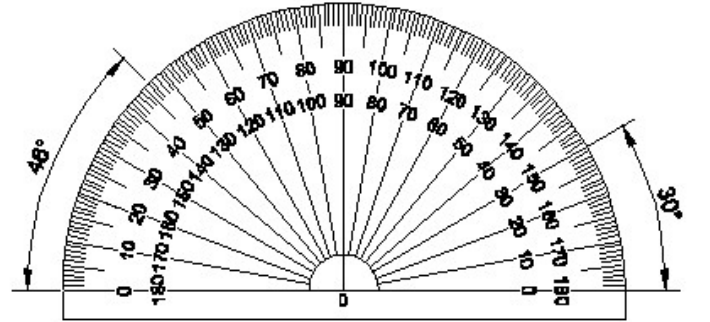
22. Which arrow head is correct as per standard? | ಮಾನದಂಡದ ಪ್ರಕಾರ ಯಾವ ಬಾಣದ ಹೆಡ್ ಸರಿಯಾಗಿದೆ?



- A) A  
B) B  
C) D  
D) C

Answer: A) A

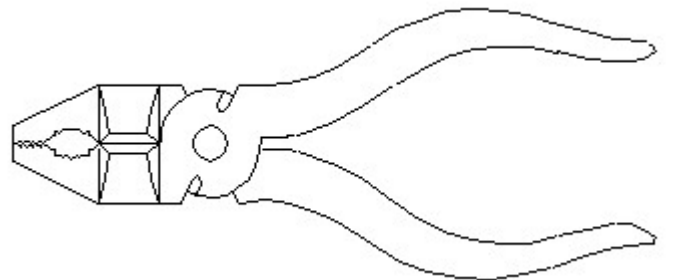
23. Identify the name of instrument? | ಉಪಕರಣದ ಹೆಸರನ್ನು ಗುರುತಿಸುವುದೇ?



- A) Protractor | ಪ್ರೊಟ್ರಾಕ್ಟರ್  
B) French curve | ಫ್ರೆಂಚ್ ಕರ್ವ್  
C) Set square | ಸೆಟ್ ಸ್ಕ್ವೇರ್  
D) T square | T ಸ್ಕ್ವೇರ್

Answer: A) Protractor | ಪ್ರೊಟ್ರಾಕ್ಟರ್

24. Identify the name of tool? | ಉಪಕರಣದ ಹೆಸರನ್ನು ಗುರುತಿಸುವುದೇ?



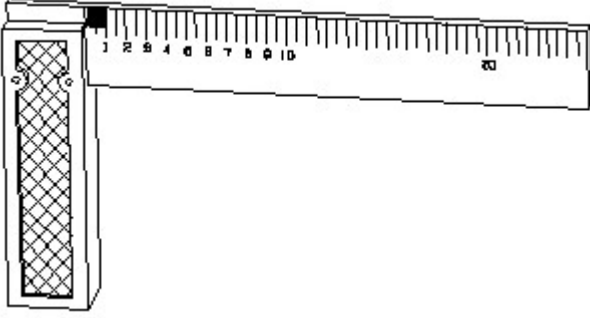
- A) Hawk-billed shear | ಹಾಕ್-ಬಿಲ್ಡ್ ಸ್ಕೇಯರ್  
B) Double cutting shear | ಡಬಲ್ ಕಟಿಂಗ್ ಸ್ಕೇಯರ್

C) Aviation shear | ಏವಿಯೇಷನ್ ಸಿಯರ್

D) Cutting plier | ಕಟಿಂಗ್ ಪ್ಲಿಯರ್

Answer: D) Cutting plier | ಕಟಿಂಗ್ ಪ್ಲಿಯರ್

25. 1). Identify the name of tool? | ಉಪಕರಣದ ಹೆಸರನ್ನು ಗುರುತಿಸುವುದೇ?



A) Steel rule | ಸ್ಟೀಲ್ ರೂಲ್

B) Feeler gauge | ಫೀಲರ್ ಗೇಜ್

C) Try square | ಟ್ರೈ ಸ್ಕ್ವೇರ್

D) Surface gauge | ಮೇಲ್ಮೈ ಮಾಪಕ

Answer: C) Try square | ಟ್ರೈ ಸ್ಕ್ವೇರ್

26. Compass used to draw for \_\_\_\_. | ಕಂಪಾಸ್ ಅನ್ನು \_\_\_\_\_ ಗೆ ಸೆಳೆಯಲು ಬಳಸಲಾಗುತ್ತದೆ.

A) square | ಚದರ

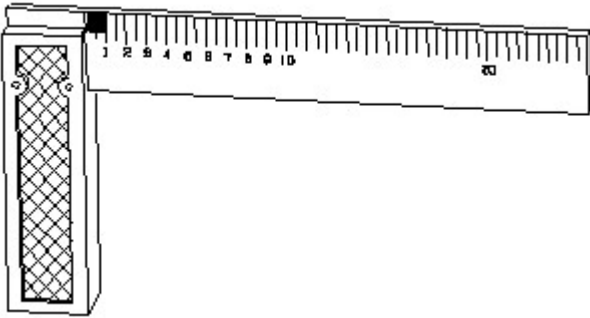
B) rectangle | ಆಯಾತ

C) triangle | ತ್ರಿಕೋನ

D) circle | ವೃತ್ತ

Answer: D) circle | ವೃತ್ತ

27. 1). Identify the name of tool? | ಉಪಕರಣದ ಹೆಸರನ್ನು ಗುರುತಿಸುವುದೇ?



A) Try square | ಟ್ರೈ ಸ್ಕ್ವೇರ್

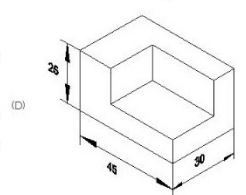
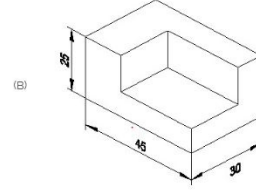
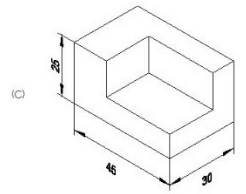
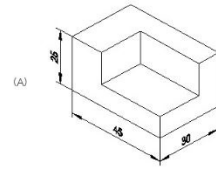
B) Surface gauge | ಮೇಲ್ಮೈ ಮಾಪಕ

C) Steel rule | ಸ್ಟೀಲ್ ರೂಲ್

D) Feeler gauge | ಫೀಲರ್ ಗೇಜ್

Answer: A) Try square | ಟ್ರೈ ಸ್ಕ್ವೇರ್

28. Which drawing dimension is correct as per standard drawing practice? | ಸ್ಟಾಂಡರ್ಡ್ ಡ್ರಾಯಿಂಗ್ ಅಭ್ಯಾಸದ ಪ್ರಕಾರ ಯಾವ ಡ್ರಾಯಿಂಗ್ ಆಯಾಮ ಸರಿಯಾಗಿದೆ?



A) D

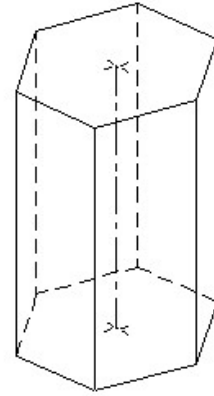
B) B

C) A

D) C

Answer: C) A

29. Identify the name of prism? | ಪ್ರಿಸ್ಮ್ ಹೆಸರನ್ನು ಗುರುತಿಸುವುದೇ?



A) Triangular prism | ತ್ರಿಕೋನ ಪ್ರಿಸ್ಮ್

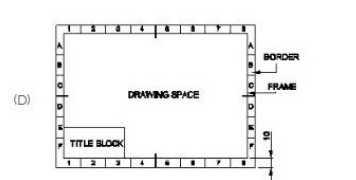
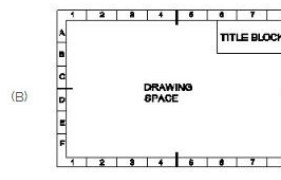
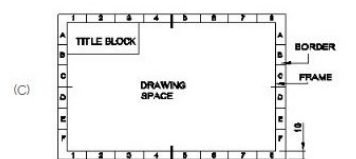
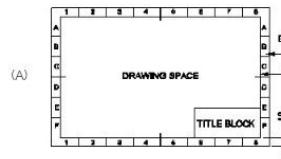
B) Square prism | ಚದರ ಪ್ರಿಸ್ಮ್

C) Pentagonal prism | ಪೆಂಟಾಗೋನಲ್ ಪ್ರಿಸ್ಮ್

D) Hexagonal prism | ಷಡ್ಭುಜೀಯ ಪ್ರಿಸ್ಮ್

Answer: D) Hexagonal prism | ಷಡ್ಭುಜೀಯ ಪ್ರಿಸ್ಮ್

30. Which title block position is correct as standard practice? | ಪ್ರಮಾಣಿತ ಅಭ್ಯಾಸದಂತೆ ಯಾವ ಶೀರ್ಷಿಕೆ ಬಾಕ್ಸ್ ಸ್ಥಾನವು ಸರಿಯಾಗಿದೆ?



A) D

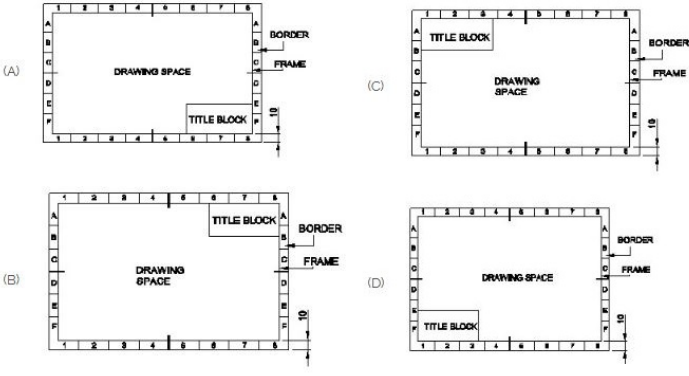
B) A

C) C

D) B

Answer: B) A

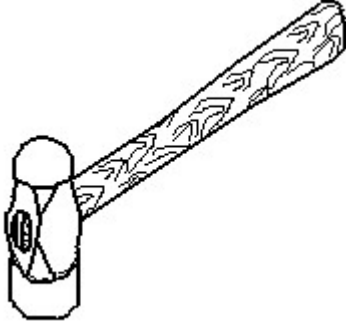
31. Which title block position is correct as standard practice? | ಪ್ರಮಾಣಿತ ಅಭ್ಯಾಸದಂತೆ ಯಾವ ಶೀರ್ಷಿಕೆ ಬಾಕ್ಸ್ ಸ್ಥಾನವು ಸರಿಯಾಗಿದೆ?



- A) C  
C) D
- B) B  
D) A

Answer: D) A

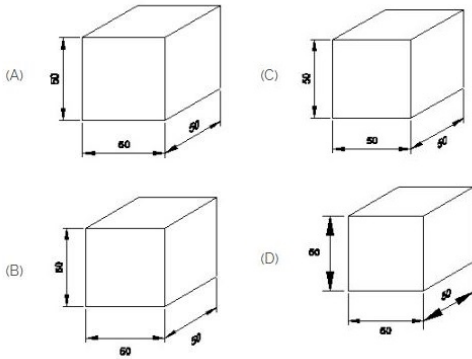
32. Identify the name of tool? | ಉಪಕರಣದ ಹೆಸರನ್ನು ಗುರುತಿಸುವುದೇ?



- A) Straight pein hammer | ನೇರ ಪೆನ್ ಸುತ್ತಿಗೆ  
B) Sledge hammer | ಸ್ಲೆಡ್ಜ್ ಸುತ್ತಿಗೆ  
C) Ball pein hammer | ಬಾಲ್ ಪೆನ್ ಸುತ್ತಿಗೆ  
D) Cross pein hammer | ಕ್ರಾಸ್ ಪೀನ್ ಸುತ್ತಿಗೆ

Answer: C) Ball pein hammer | ಬಾಲ್ ಪೆನ್ ಸುತ್ತಿಗೆ

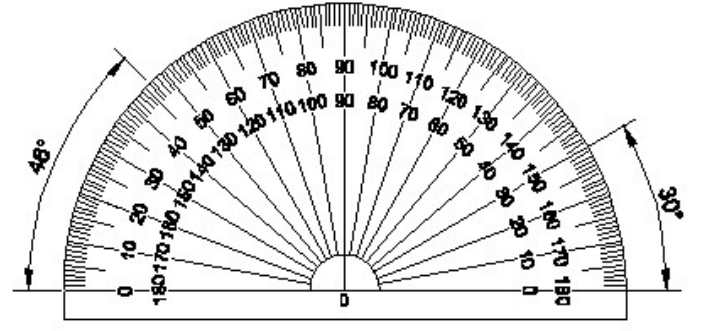
33. Which drawing dimension is correct as per IS standard? | IS ಮಾನದಂಡದ ಪ್ರಕಾರ ಯಾವ ರೇಖಾಚಿತ್ರದ ಆಯಾಮವು ಸರಿಯಾಗಿದೆ?



- A) B  
C) A
- B) C  
D) D

Answer: C) A

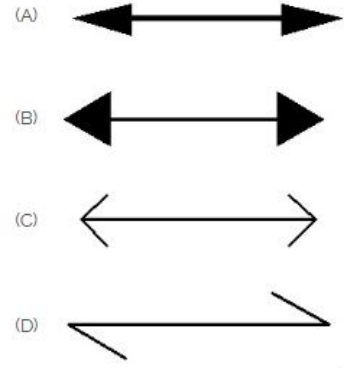
34. Identify the name of instrument? | ಉಪಕರಣದ ಹೆಸರನ್ನು ಗುರುತಿಸುವುದೇ?



- A) T square | ಟಿ ಸ್ಕ್ವೇರ್  
B) Set square | ಸೆಟ್ ಸ್ಕ್ವೇರ್  
C) Protractor | ಪ್ರೊಟ್ರಾಕ್ಟರ್  
D) French curve | ಫ್ರೆಂಚ್ ಕರ್ವ್

Answer: C) Protractor | ಪ್ರೊಟ್ರಾಕ್ಟರ್

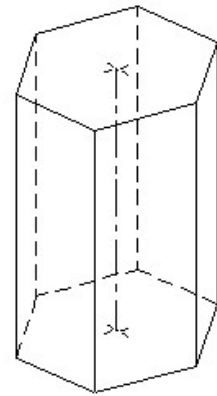
35. Which arrow head is correct as per standard? | ಮಾನದಂಡದ ಪ್ರಕಾರ ಯಾವ ಬಾಣದ ಹೆಡ್ ಸರಿಯಾಗಿದೆ?



- A) D  
C) B
- B) A  
D) C

Answer: B) A

36. Identify the name of prism? | ಪ್ರಿಸ್ಮ್ ಹೆಸರನ್ನು ಗುರುತಿಸುವುದೇ?



- A) Hexagonal prism | ಷಡ್ಭುಜೀಯ ಪ್ರಿಸ್ಮ್  
B) Pentagonal prism | ಪೆಂಟಗೋನಲ್ ಪ್ರಿಸ್ಮ್  
C) Square prism | ಚದರ ಪ್ರಿಸ್ಮ್  
D) Triangular prism | ತ್ರಿಕೋನ ಪ್ರಿಸ್ಮ್


Answer: A) Hexagonal prism | ಷಡ್ಭುಜೀಯ ಪ್ರಿಸ್ಮ್

37. Identify the name of set square? | ಸೆಟ್ ಚೌಕದ ಹೆಸರನ್ನು ಗುರುತಿಸುವುದೇ?



- A) 30° set square | 30° ಸೆಟ್ ಸ್ಕ್ವೇರ್  
 B) 15° set square | 15° ಸೆಟ್ ಸ್ಕ್ವೇರ್  
 C) 60° set square | 60° ಸೆಟ್ ಸ್ಕ್ವೇರ್  
 D) 45° set square | 45° ಸೆಟ್ ಸ್ಕ್ವೇರ್

**Answer: D) 45° set square | 45° ಸೆಟ್ ಸ್ಕ್ವೇರ್**



- A) Concrete | ಕಾಂಕ್ರೀಟ್  
 B) Steel | ಸ್ಟೀಲ್  
 C) Glass | ಗಾಜು  
 D) Wood | ಮರ

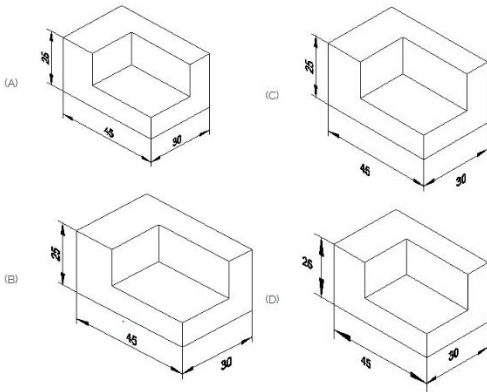
**Answer: C) Glass | ಗಾಜು**

**38.** What is the trimmed size of A4 sheet? | A4 ಹಾಳೆಯ ಟ್ರಿಮ್ ಮಾಡಿದ ಗಾತ್ರ ಎಷ್ಟು?

- A) 210 x 297  
 B) 594 x 841  
 C) 148 x 210  
 D) 841 x 1189

**Answer: A) 210 x 297**

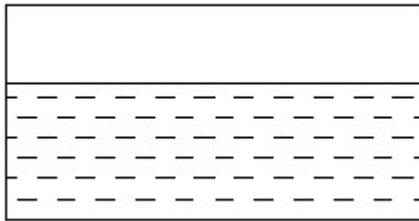
**39.** Which drawing dimension is correct as per standard drawing practice? | ಸ್ಟಾಂಡರ್ಡ್ ಡ್ರಾಯಿಂಗ್ ಅಭ್ಯಾಸದ ಪ್ರಕಾರ ಯಾವ ಡ್ರಾಯಿಂಗ್ ಆಯಾಮ ಸರಿಯಾಗಿದೆ?



- A) D  
 B) B  
 C) C  
 D) A

**Answer: D) A**

**40.** Identify the conventional symbol of material? | ವಸ್ತುವಿನ ಕನ್ವೆಷನಲ್ ಚಿಹ್ನೆಯನ್ನು ಗುರುತಿಸಿ?

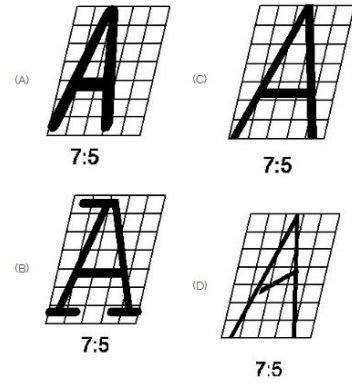


- A) Concrete | ಕಾಂಕ್ರೀಟ್  
 B) Water | ನೀರು  
 C) Glass | ಗಾಜು  
 D) Asbestos | ಆಸ್ಟೆಬ್ಲಾಸ್ಟ್

**Answer: B) Water | ನೀರು**

**41.** Identify the conventional symbol of material? | ವಸ್ತುವಿನ ಕನ್ವೆಷನಲ್ ಚಿಹ್ನೆಯನ್ನು ಗುರುತಿಸಿ?

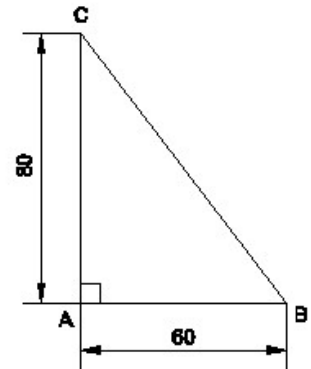
**42.** Which single stroke inclined letter A is correct as per IS standard? | IS ಮಾನದಂಡದ ಪ್ರಕಾರ ಯಾವ ಏಕ ಸ್ಟ್ರೋಕ್ ಇಳಿಜಾರಿನ ಅಕ್ಷರ A ಠರಿಯಾಗಿದೆ?



- A) A  
 B) B  
 C) C  
 D) D

**Answer: C) C**

**43.** Identify the name of the triangle? | ತ್ರಿಕೋನದ ಹೆಸರನ್ನು ಗುರುತಿಸುವುದೇ?



- A) Equilateral triangle | ಸಮಕೋನ ತ್ರಿಕೋನ  
 B) Isosceles triangle | ಸಮದ್ವಿಬಾಹು ತ್ರಿಭುಜ  
 C) Scalene triangle | ಸ್ಕೇಲಿನ್ ತ್ರಿಕೋನ  
 D) Right angle triangle | ಬಲ ಕೋನ ತ್ರಿಕೋನ

**Answer: D) Right angle triangle | ಬಲ ಕೋನ ತ್ರಿಕೋನ**

**44.** What is the trimmed size of A4 sheet? | A4 ಹಾಳೆಯ ಟ್ರಿಮ್ ಮಾಡಿದ ಗಾತ್ರ ಎಷ್ಟು?

A) 210 x 297

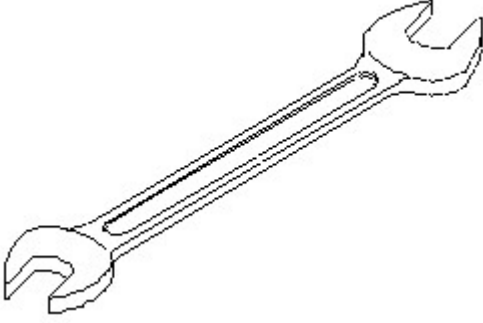
B) 841 x 1189

C) 594 x 841

D) 148 x 210

Answer: A) 210 x 297

45. Identify the name of tool? | ಉಪಕರಣದ ಹೆಸರನ್ನು ಗುರುತಿಸುವುದೇ?



A) Adjustable spanner | ಹೊಂದಿಸಬಹುದಾದ ಸ್ಪ್ಯಾನರ್

B) Combination spanner | ಕಾಂಬಿನೇಶನ್ ಸ್ಪ್ಯಾನರ್

C) Open end spanner | ಓಪನ್ ಎಂಡ್ ಸ್ಪ್ಯಾನರ್

D) Ring spanner | ರಿಂಗ್ ಸ್ಪ್ಯಾನರ್

Answer: C) Open end spanner | ಓಪನ್ ಎಂಡ್ ಸ್ಪ್ಯಾನರ್

46. Identify the name of set square? | ಸೆಟ್ ಚೌಕದ ಹೆಸರನ್ನು ಗುರುತಿಸುವುದೇ?



A) 45° set square | 45° ಸೆಟ್ ಸ್ಕ್ವೇರ್

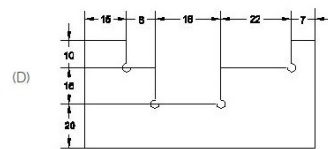
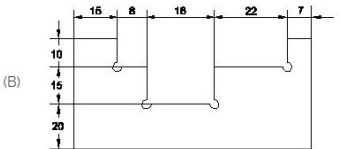
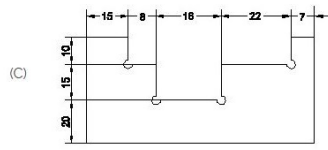
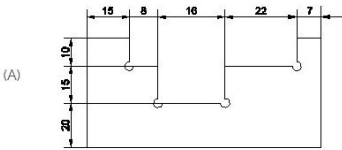
B) 15° set square | 15° ಸೆಟ್ ಸ್ಕ್ವೇರ್

C) 60° set square | 60° ಸೆಟ್ ಸ್ಕ್ವೇರ್

D) 30° set square | 30° ಸೆಟ್ ಸ್ಕ್ವೇರ್

Answer: A) 45° set square | 45° ಸೆಟ್ ಸ್ಕ್ವೇರ್

47. Identify the correct aligned system dimension? | ಸರಿಯಾದ ಜೋಡಿಸಲಾದ ಸಿಸ್ಟಮ್ ಆಯಾಮವನ್ನು ಗುರುತಿಸುವುದೇ?



A) A

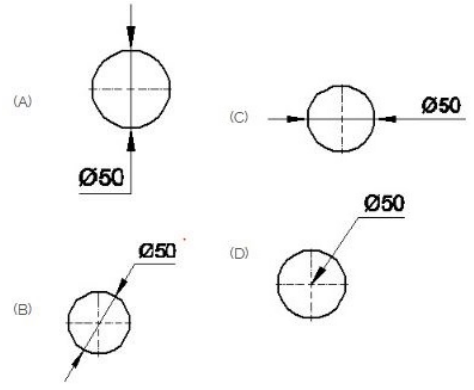
B) D

C) B

D) C

Answer: A) A

48. Which dimension correctly marked in the circle as per standard? | ಮಾನದಂಡದ ಪ್ರಕಾರ ವೃತ್ತದಲ್ಲಿ ಯಾವ ಆಯಾಮವನ್ನು ಸರಿಯಾಗಿ ಗುರುತಿಸಲಾಗಿದೆ?



A) C

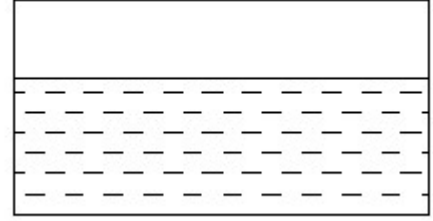
B) D

C) A

D) B

Answer: D) B

49. Identify the conventional symbol of material? | ವಸ್ತುವಿನ ಕನ್ವೆಷನಲ್ ಚಿಹ್ನೆಯನ್ನು ಗುರುತಿಸಿ?



A) Asbestos | ಆಸ್ಟೆಬ್ಲೆಸ್ಟ್

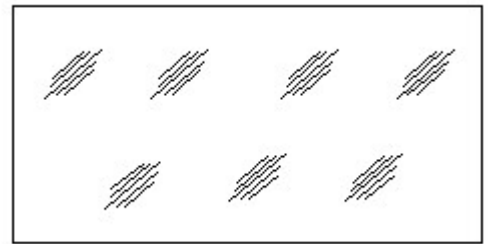
B) Concrete | ಕಾಂಕ್ರೀಟ್

C) Water | ನೀರು

D) Glass | ಗಾಜು

Answer: C) Water | ನೀರು

50. Identify the conventional symbol of material? | ವಸ್ತುವಿನ ಕನ್ವೆಷನಲ್ ಚಿಹ್ನೆಯನ್ನು ಗುರುತಿಸಿ?



A) Concrete | ಕಾಂಕ್ರೀಟ್

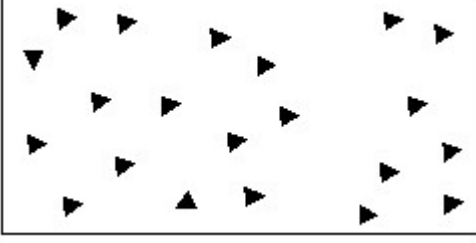
B) Glass | ಗಾಜು

C) Steel | ಸ್ಟೀಲ್

D) Wood | ಮರ

Answer: B) Glass | ಗಾಜು

51. Identify the conventional symbol of material? | ವಸ್ತುವಿನ ಕನ್ವೆಷನಲ್ ಚಿಹ್ನೆಯನ್ನು ಗುರುತಿಸಿ?



A) Wood | ಮರ

B) Concrete | ಕಾಂಕ್ರೀಟ್

C) Steel | ಸ್ಟೀಲ್

D) Glass | ಗಾಜು

**Answer: B) Concrete | ಕಾಂಕ್ರೀಟ್**

---