

FY-module 1- Safety Practice and Handtools

Q. ID: ITISKILL1806EH

Govt ITI Beerihundi

Question Paper

Duration: 29 Mins

Total Marks: 28

ID: ITISKILL1806EH

Student Name: _____

Roll No: _____

1. Which type of occupational health hazard is cause for infection due to bacteria? | ಯಾವ ರೀತಿಯ ಔದ್ಯೋಗಿಕ ಆರೋಗ್ಯದ ಅಪಾಯವು ಬ್ಯಾಕ್ಟೀರಿಯಾದ ಸೋಂಕಿನಿಂದ ಉಂಟಾಗುತ್ತದೆ?

- A) Psychological hazard | ಮಾನಸಿಕ ಅಪಾಯ
B) Electrical hazard | ವಿದ್ಯುತ್ ಅಪಾಯ
C) Biological hazard | ಜೈವಿಕ ಅಪಾಯ
D) Physiological hazard | ದೈಹಿಕ ಅಪಾಯ

2. Which step of the 5s-concept refers "Standardization"? | 5s ನೇ-ಪರಿಕಲ್ಪನೆಯ ಯಾವ ಹಂತವು ಪ್ರಮಾಣೀಕರಣ ಯನ್ನು ಸೂಚಿಸುತ್ತದೆ?

- A) Step - 4
B) Step - 3
C) Step - 1
D) Step - 2

3. What is the use of the pincer? | ಪಿನ್ಸರ್ ಬಳಕೆ ಏನು?

- A) Extracting the pin nails from the wood | ಮರದಿಂದ ಪಿನ್ ಉಗುರುಗಳನ್ನು ಹೊರತೆಗೆಯುವಿಕೆ
B) Cutting larger diameter of wires | ದೊಡ್ಡ ವ್ಯಾಸದ ತಂತಿಗಳನ್ನು ಕತ್ತರಿಸುವುದು
C) Twisting the flexible wires | ಹೊಂದಿಕೊಳ್ಳುವ ತಂತಿಗಳನ್ನು ತಿರುಗಿಸುವುದು
D) Holding small objects, where finger cannot reach | ಬೆರಳನ್ನು ತಲುಪಲು ಸಾಧ್ಯವಾಗದ ಸಣ್ಣ ವಸ್ತುಗಳನ್ನು ಹಿಡಿದಿಟ್ಟುಕೊಳ್ಳಿ

4. Which criteria must be satisfied for the quality of PPE s? | PPE ಗಳ ಗುಣಮಟ್ಟಕ್ಕಾಗಿ ಯಾವ ಮಾನದಂಡಗಳನ್ನು ಪೂರೈಸಬೇಕು?

- A) It should with stand the hazards | ಇದು ಅಪಾಯಗಳನ್ನು ತಡೆದುಕೊಳ್ಳಬೇಕು
B) It cannot be used for long period | ಇದನ್ನು ದೀರ್ಘಕಾಲದವರೆಗೆ ಬಳಸಲಾಗುವುದಿಲ್ಲ
C) Made by non standard material | ಪ್ರಮಾಣಿತವಲ್ಲದ ವಸ್ತುಗಳಿಂದ ತಯಾರಿಸಲಾಗುತ್ತದೆ
D) Low cost | ಕಡಿಮೆ ವೆಚ್ಚ

5. Which pliers is used for making the wire hooks and loops? | ವೈರ್ ಹೂಕುಗಳು ಮತ್ತು ಲೂಪ್‌ಗಳನ್ನು ತಯಾರಿಸಲು ಯಾವ ಪ್ಲಿಯರ್ ಅನ್ನು ಬಳಸಲಾಗುತ್ತದೆ?

- A) Flat nose pliers | ಫ್ಲಾಟ್ ನೋಸ್ ಪ್ಲಿಯರ್
B) Long nose pliers | ಲಾಂಗ್ ನೋಸ್ ಪ್ಲಿಯರ್
C) Round nose pliers | ರೌಂಡ್ ನೋಸ್ ಪ್ಲಿಯರ್
D) Diagonal cutting pliers | ಡಯಾಗನಲ್ ಕಟಿಂಗ್ ಪ್ಲಿಯರ್

6. Which is the golden hour for the victim injured on head

with risk of dying? | ಸಾಯುವ ಅಪಾಯದೊಂದಿಗೆ ತಲೆಯ ಮೇಲೆ ಗಾಯಗೊಂಡ ಬಲಿಷ್ಠಕ್ಕೆ ಯಾವ ಸುವರ್ಣ ಗಂಟೆಯಾಗಿದೆ?

- A) First 45 minutes
B) First 30 minutes
C) First 60 minutes
D) First 15 minutes

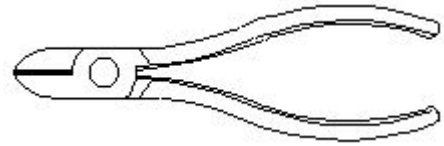
7. Which is the waste disposal method that produces the heat? | ಶಾವವನ್ನು ಉತ್ಪತ್ತಿ ಮಾಡುವ ತ್ಯಾಜ್ಯ ವಿಲೇವಾರಿ ವಿಧಾನ ಯಾವುದು?

- A) Composting | ಮಿಶ್ರಗೊಬ್ಬರ
B) Waste compaction | ತ್ಯಾಜ್ಯ ಸಂಕೋಚನ
C) Landfill | ಲ್ಯಾಂಡ್‌ಫಿಲ್
D) Incineration | ಭಸ್ಮೀಕರಣ

8. Which artificial respiration method is to be performed to the victim with injuries on the chest and belly? | ಎದೆ ಮತ್ತು ಹೊಟ್ಟೆಯ ಮೇಲೆ ಗಾಯಗಳಿಂದಾಗಿ ಬಲಿಷ್ಠಕ್ಕೆ ಯಾವ ಕೃತಕ ಉಸಿರಾಟ ವಿಧಾನವನ್ನು ನಿರ್ವಹಿಸಬೇಕು?

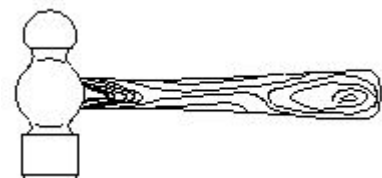
- A) Schafer's method | ಸ್ಕಾಫರ್ ವಿಧಾನ
B) Mouth to mouth method | ಬಾಯಿಯಿಂದ ಬಾಯಿಗೆ ವಿಧಾನ
C) Holger - Nelson's back pressure method | ಹೋಲ್ಗರ್ - ನೆಲ್ಸನ್ ಬೆನ್ನು ಒತ್ತಡದ ವಿಧಾನ
D) Nelson's arm-lift back pressure method | ನೆಲ್ಸನ್ ಆರ್ಮ್-ಲಿಫ್ಟ್ ಬ್ಯಾಕ್ ಒತ್ತಡದ ವಿಧಾನ

9. What is the name of the tool as shown in the figure? | ಚಿತ್ರದಲ್ಲಿ ತೋರಿಸಿರುವಂತೆ ಉಪಕರಣದ ಹೆಸರೇನು?



- A) Combination pliers | ಕಾಂಬಿನೇಷನ್ ತಂತಿಗಳು
B) Diagonal cutting pliers | ಕರ್ಣೀಯ ಕತ್ತರಿಸುವುದು ತಂತಿಗಳು
C) Nose pliers | ನೋಸ್ ಇಕ್ಯು
D) Crimping tool | ಅಪರಾಧ ಸಾಧನ

10. What is the name of the tool as shown in the figure? | ಚಿತ್ರದಲ್ಲಿ ತೋರಿಸಿರುವಂತೆ ಉಪಕರಣದ ಹೆಸರೇನು?



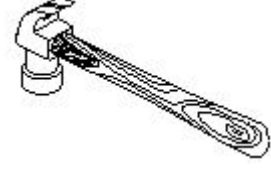
- A) Claw hammer | ಕ್ಲಾಸುತ್ತಿಗೆ
B) Ball pein hammer | ಬಾಲ್ ಪೀನ್ ಸುತ್ತಿಗೆ
C) Cross pein hammer | ಕ್ರಾಸ್ ಪೆನ್ ಸುತ್ತಿಗೆ
D) Tack hammer | ಟ್ಯಾಕ್ ಸುತ್ತಿಗೆ

- A) Push, Arrange, Sweep, Sequence | ಪುಷ್, ಹೊಂದಿಸು, ಸ್ವೀಪ್, ಸೀಕ್ವೆನ್ಸ್
B) Pull, Aim, Sweep, Squeeze | ಪುಲ್, ಏಮ್, ಸ್ವೀಪ್, ಸ್ವೀಜ್
C) Pull, Aim, Squeeze, Sweep | ಪುಲ್, ಏಮ್, ಸ್ವೀಜ್, ಸ್ವೀಪ್
D) Push, Arrange, Squeeze, Sweep | ಪುಷ್, ಜೋಡಿಸು, ಸ್ವೀಜ್, ಸ್ವೀಪ್

11. Which file is used for sharpening the blunt teeth of a tenon saw? | ಒಂದು ಹತ್ತಿಯ ಮೊಂಡಾದ ಹಲ್ಲುಗಳನ್ನು ಹರಿತಗೊಳಿಸುವ ಸಲುವಾಗಿ ಯಾವ ಫೈಲ್ ಅನ್ನು ಬಳಸಲಾಗುತ್ತದೆ?

- A) Round file | ರೌಂಡ್ ಫೈಲ್
B) Triangular file | ತ್ರಿಕೋನ ಕಡತ
C) Square file | ಸ್ಕ್ವೇರ್ ಫೈಲ್
D) Half round file | ಹಾಫ್ ಸುತ್ತಿನ ಫೈಲ್

16. What is the name of the hammer as shown in the figure? | ಚಿತ್ರದಲ್ಲಿ ತೋರಿಸಿರುವಂತೆ ಸುತ್ತಿಗೆಯ ಹೆಸರೇನು?



- A) Ball pein hammer | ಬಾಲ್ ಪೆನ್ ಸುತ್ತಿಗೆ
B) Straight pein hammer | ಸ್ಟ್ರೇಟ್ ಪೆನ್ ಸುತ್ತಿಗೆ
C) Claw hammer | ಕ್ಲಾಸುತ್ತಿಗೆ
D) Cross pein hammer | ಕ್ರಾಸ್ ಪೆನ್ ಸುತ್ತಿಗೆ

12. What immediate action should be taken to rescue the victim, if he is still in contact with the electrical power supply? | ವಿದ್ಯುತ್ ಪೂರೈಕೆಯೊಂದಿಗೆ ಸಂಪರ್ಕದಲ್ಲಿದ್ದರೆ, ಬಲಿಯಾದವರನ್ನು ರಕ್ಷಿಸಲು ತಕ್ಷಣವೇ ಯಾವ ಕ್ರಮ ಕೈಗೊಳ್ಳಬೇಕು?

- A) Inform your authority about this electric shock | ದೂರ ಇಡಿ
B) Pull or push him from the contact by hand | ಕೈಯಿಂದ ಸಂಪರ್ಕದಿಂದ ಅವನನ್ನು ಎಳೆಯಿರಿ ಅಥವಾ ತಳ್ಳಿರಿ
C) Call someone for helping to remove him from contact | ಸಂಪರ್ಕದಿಂದ ಅವರನ್ನು ತೆಗೆದುಹಾಕಲು ಸಹಾಯಕ್ಕಾಗಿ ಯಾರನ್ನಾದರೂ ಕರೆ ಮಾಡಿ
D) Break the contact by switching OFF the power supply | ವಿದ್ಯುತ್ ಸರಬರಾಜು ಅನ್ನು ಆಫ್ ಮಾಡುವುದರ ಮೂಲಕ ಸಂಪರ್ಕವನ್ನು ಮುರಿಯಿರಿ

17. What is smothering in extinguishing of fire? | ಬೆಂಕಿಯನ್ನು ಕಡಿಯುವಲ್ಲಿ ಏನಾಗುತ್ತಿದೆ?

- A) Using of water to lower the temperature | ತಾಪಮಾನವನ್ನು ಕಡಿಮೆ ಮಾಡಲು ನೀರಿನ ಬಳಕೆ
B) Removing the fuel element from the fire | ಬೆಂಕಿಯಿಂದ ಇಂಧನ ಅಂಶವನ್ನು ತೆಗೆದುಹಾಕಲಾಗುತ್ತಿದೆ
C) Adding the fuel element to the fire | ಇಂಧನ ಅಂಶವನ್ನು ಬೆಂಕಿಯಲ್ಲಿ ಸೇರಿಸುವುದು
D) Isolating the fire from the supply of oxygen | ಆಮ್ಲಜನಕದ ಪೂರೈಕೆಯಿಂದ ಬೆಂಕಿಯನ್ನು ಪ್ರತ್ಯೇಕಿಸುವುದು

13. Which Personal Protective Equipment (PPE) is used for the protection from fumes? | ಹೊಗೆಯಿಂದ ರಕ್ಷಿಸಲು ಯಾವ ವೈಯಕ್ತಿಕ ಸುರಕ್ಷಾ ಸಲಕರಣೆ (PPE) ಅನ್ನು ಬಳಸಲಾಗುತ್ತದೆ?

- A) Apron | ಅಪ್ರಾನ್
B) Goggles | ಕನ್ನಡಕಗಳು
C) Ear muff | ಇಯರ್ ಮಫ್
D) Respirator | ರೆಸ್ಪಿರೇಟರ್

18. What is the name of the drill bit as shown in the figure? | ಚಿತ್ರದಲ್ಲಿ ತೋರಿಸಿರುವಂತೆ ಡ್ರಿಲ್ ಬಿಟ್‌ನ ಹೆಸರೇನು?



- A) Taper shank bit | ಟಿಪರ್ ಶ್ಯಾಂಕ್ ಬಿಟ್
B) Countersink bit | ಕೌಂಟರ್ ಸಿಂಕ್ ಬಿಟ್
C) Flat drill bit | ಫ್ಲಾಟ್ ಡ್ರಿಲ್ ಬಿಟ್
D) Straight shank bit | ನೇರವಾಗಿ ಶ್ಯಾಂಕ್ ಬಿಟ್

14. What is the name of the tool as shown in the figure? | ಚಿತ್ರದಲ್ಲಿ ತೋರಿಸಿರುವಂತೆ ಸಾಧನದ ಹೆಸರೇನು?



- A) Pincer | ತಂತಿಗಳನ್ನು ಕತ್ತರಿಸುವುದು ಮತ್ತು ತಿರುಗಿಸುವುದು ಮರದಿಂದ ಉಗುರುಗಳನ್ನು ತೆಗೆಯುವುದು
B) Wire stripper | ಬಿಸಿ ಪದಾರ್ಥಗಳನ್ನು ಹಿಡಿದಿಟ್ಟುಕೊಳ್ಳುವುದು
C) Gimlet | ಬೋಲ್ ಮತ್ತು ಬೀಜಗಳನ್ನು ಬಿಡಿಬಿಡಿಯಾಗಿ ಬಿಗಿಗೊಳಿಸುವುದು
D) Side cutter | ತಂತಿಗಳನ್ನು ಕಡಿಯುವುದು ಮತ್ತು ತಿರುಗಿಸುವುದು

19. Which is the physical hazard? | ದೈಹಿಕ ಅಪಾಯ ಯಾವುದು?

- A) Vibration | ಕಂಪನ
B) Bacteria | ಬ್ಯಾಕ್ಟೀರಿಯಾ
C) Corrosive | ನಾಶಕಾರಿ
D) Smoking | ಧೂಮಪಾನ

15. Which is the correct sequence of operation to be performed while using the fire extinguisher? | ಅಗ್ನಿಶಾಮಕವನ್ನು ಬಳಸುವಾಗ ನಿರ್ವಹಿಸಬೇಕಾದ ಸರಿಯಾದ ಕಾರ್ಯಾಚರಣೆಯ ಅನುಕ್ರಮ ಯಾವುದು?

20. What is the name of the part marked 'X' as shown in the figure? | ಫೈಲ್‌ನ X ಒಂದು ಗುರುತಿಸಲಾದ ಭಾಗವನ್ನು ಹೆಸರಿಸಿ.



- A) Edge | ಎಡ್ಜ್
B) Heel | ಹೀಲ್
C) Tang | ಟ್ಯಾಂಗ್
D) Point | ಪಾಯಿಂಟ್

21. What is smothering in extinguishing of fire? | ಬೆಂಕಿಯನ್ನು ಕಡಿಯುವಲ್ಲಿ ಏನಾಗುತ್ತಿದೆ?

- A) Removing the fuel element from the fire | ಬೆಂಕಿಯಿಂದ ಇಂಧನ ಅಂಶವನ್ನು ತೆಗೆದುಹಾಕಲಾಗುತ್ತಿದೆ
B) Isolating the fire from the supply of oxygen | ಆಮ್ಲಜನಕದ ಪೂರೈಕೆಯಿಂದ ಬೆಂಕಿಯನ್ನು ಪ್ರತ್ಯೇಕಿಸುವುದು
C) Using of water to lower the temperature | ತಾಪಮಾನವನ್ನು ಕಡಿಮೆ ಮಾಡಲು ನೀರಿನ ಬಳಕೆ
D) Adding the fuel element to the fire | ಇಂಧನ ಅಂಶವನ್ನು ಬೆಂಕಿಯಲ್ಲಿ ಸೇರಿಸುವುದು

22. Which disposal method of waste save lot of energy? | ತ್ಯಾಜ್ಯದ ವಿಲೇವಾರಿ ವಿಧಾನವು ಬಹಳಷ್ಟು ಶಕ್ತಿಯನ್ನು ಉಳಿಸುತ್ತದೆ?

- A) Incineration | ಭಸ್ಮೀಕರಣ
B) Composting | ಸಂಯೋಜನೆ
C) Land fill | ಜಮೀನು ಭರ್ತಿ
D) Recycling | ಮರುಬಳಕೆ

23. What is starving in extinguishing of fire? | ಬೆಂಕಿಯನ್ನು ಆವರಿಸುವಲ್ಲಿ ಸ್ವಾರ್ಥಿಗದ ಏನು ಇದೆ?

- A) Removing fuel element from the fire | ಬೆಂಕಿಯಿಂದ ಇಂಧನ ಅಂಶವನ್ನು ತೆಗೆದುಹಾಕಲಾಗುತ್ತಿದೆ
B) Using water to cool the fire | ಬೆಂಕಿಯನ್ನು ತಣ್ಣಗಾಗಲು ನೀರನ್ನು ಬಳಸಿ
C) Adding fuel to the fire | ಬೆಂಕಿಗೆ ಇಂಧನವನ್ನು ಸೇರಿಸುವುದು
D) Preventing oxygen supply to the fire | ಬೆಂಕಿಗೆ ಆಮ್ಲಜನಕದ ಪೂರೈಕೆಯನ್ನು ತಡೆಗಟ್ಟುವುದು

24. What is the back ground colour of the warning signs in the safety sign category? | ಸುರಕ್ಷತಾ ಚಿಹ್ನೆಯ ವರ್ಗದಲ್ಲಿರುವ ಎಚ್ಚರಿಕೆ ಚಿಹ್ನೆಗಳ ಹಿಂದಿನ ನೆಲದ ಬಣ್ಣ ಯಾವುದು?

- A) Blue | ನೀಲಿ
B) Yellow | ಹಳದಿ
C) White | ಬಿಳಿ
D) Green | ಹಸಿರು

25. Which type of fire extinguisher is used for fire on electrical equipment? | ವಿದ್ಯುತ್ ಉಪಕರಣಗಳಲ್ಲಿ ಬೆಂಕಿಗೆ ಯಾವ ವಿಧದ


ಅಗ್ನಿಶಾಮಕವನ್ನು ಬಳಸಲಾಗುತ್ತದೆ?

- A) Foam type | ಫೋಮ್ ಪ್ರಕಾರ
B) Stored pressure water type | ಶೇಖರಿಸಲಾದ ಒತ್ತಡದ ನೀರಿನ ಪ್ರಕಾರ
C) Halon type | ಹ್ಯಾಲಾನ್ ಟೈಪ್
D) Gas cartridge water type | ಗ್ಯಾಸ್ ಕಾರ್ಟ್ರಿಡ್ಜ್ ನೀರಿನ ವಿಧ

26. Which condition of the victim is referred as COMA stage? | ಬಲಿಯಾದ ಯಾವ ಸ್ಥಿತಿಯನ್ನು ಕಾಮಾ ಹಂತ ಎಂದು ಕರೆಯಲಾಗುತ್ತದೆ?


- A) Lie totally senseless and do not respond to calls | ಸುಳ್ಳು ಸಂಪೂರ್ಣವಾಗಿ ಮೂರ್ಖತನವಿಲ್ಲ ಮತ್ತು ಕರೆಗಳಿಗೆ ಪ್ರತಿಕ್ರಿಯಿಸಬೇಡಿ
B) Conscious but cannot respond to calls | ಜಾಗೃತ ಆದರೆ ಕರೆಗಳಿಗೆ ಪ್ರತಿಕ್ರಿಯಿಸಲು ಸಾಧ್ಯವಿಲ್ಲ
C) Unconscious but can respond to calls | ಅಜ್ಞಾತ ಆದರೆ ಕರೆಗಳಿಗೆ ಪ್ರತಿಕ್ರಿಯಿಸಬಹುದು
D) Breathing and respond to calls | ಉಸಿರಾಟ ಮತ್ತು ಕರೆಗಳಿಗೆ ಪ್ರತಿಕ್ರಿಯಿಸಿ

27. What is the name of the file as shown in the figure? | ಚಿತ್ರದಲ್ಲಿ ತೋರಿಸಿರುವಂತೆ ಫೈಲ್‌ನ ಹೆಸರೇನು?



- A) Single cut file | ಒಂದೇ ಕಟ್ ಫೈಲ್
B) Rasp cut file | ರಾಸ್ಪ್ ಕಟ್ ಫೈಲ್
C) Curved cut file | ಬಾಗಿದ ಕಟ್ ಫೈಲ್
D) Double cut file | ಡಬಲ್ ಕಟ್ ಫೈಲ್

28. What is the name of the safety sign as shown in the figure? | ಚಿತ್ರದಲ್ಲಿ ತೋರಿಸಿರುವಂತೆ ಸುರಕ್ಷತಾ ಚಿಹ್ನೆಯ ಹೆಸರೇನು?



- A) Information sign | ಮಾಹಿತಿ ಚಿಹ್ನೆ
B) Warning sign | ಎಚ್ಚರಿಕೆ ಸಂಕೇತ
C) Prohibition sign | ನಿಷೇಧ ಚಿಹ್ನೆ
D) Mandatory sign | ಕಡ್ಡಾಯ ಚಿಹ್ನೆ