

Duration: 50 Mins

Total Marks: 28


ID: ITISKILL1688UR

Student Name: \_\_\_\_\_

Roll No: \_\_\_\_\_

1. Which step of the 5s-concept refers "Standardization"? | 5s ನೇ-ಪರಿಕಲ್ಪನೆಯ ಯಾವ ಹಂತವು ಪ್ರಮಾಣೀಕರಣ ಯನ್ನು ಸೂಚಿಸುತ್ತದೆ?

- A) Step - 3  
B) Step - 1  
C) Step - 2  
D) Step - 4



- A) Information sign | ಮಾಹಿತಿ ಚಿಹ್ನೆ  
B) Warning sign | ಎಚ್ಚರಿಕೆ ಸಂಕೇತ

2. Which condition of the victim is referred as COMA stage? | ಬಲಿಯಾದ ಯಾವ ಸ್ಥಿತಿಯನ್ನು ಕಾಮಾ ಹಂತ ಎಂದು ಕರೆಯಲಾಗುತ್ತದೆ?

- A) Conscious but cannot respond to calls | ಜಾಗೃತ ಆದರೆ ಕರೆಗಳಿಗೆ ಪ್ರತಿಕ್ರಿಯಿಸಲು ಸಾಧ್ಯವಿಲ್ಲ  
B) Breathing and respond to calls | ಉಸಿರಾಟ ಮತ್ತು ಕರೆಗಳಿಗೆ ಪ್ರತಿಕ್ರಿಯಿಸಿ  
C) Lie totally senseless and do not respond to calls | ಸುಳ್ಳು ಸಂಪೂರ್ಣವಾಗಿ ಮೂರ್ಖತನವಿಲ್ಲ ಮತ್ತು ಕರೆಗಳಿಗೆ ಪ್ರತಿಕ್ರಿಯಿಸಬೇಡಿ  
D) Unconscious but can respond to calls | ಅಜ್ಞಾತ ಆದರೆ ಕರೆಗಳಿಗೆ ಪ್ರತಿಕ್ರಿಯಿಸಬಹುದು

- C) Mandatory sign | ಕಡ್ಡಾಯ ಚಿಹ್ನೆ  
D) Prohibition sign | ನಿಷೇಧ ಚಿಹ್ನೆ

3. Which is the correct sequence of operation to be performed while using the fire extinguisher? | ಅಗ್ನಿಶಾಮಕವನ್ನು ಬಳಸುವಾಗ ನಿರ್ವಹಿಸಬೇಕಾದ ಸರಿಯಾದ ಕಾರ್ಯಾಚರಣೆಯ ಅನುಕ್ರಮ ಯಾವುದು?

- A) Push, Arrange, Squeeze, Sweep | ಪುಷ್, ಜೋಡಿಸು, ಸ್ವೀಪ್, ಸ್ವೀಪ್  
B) Pull, Aim, Squeeze, Sweep | ಪುಲ್, ಏಮ್, ಸ್ವೀಜ್, ಸ್ವೀಪ್  
C) Pull, Aim, Sweep, Squeeze | ಪುಲ್, ಏಮ್, ಸ್ವೀಪ್, ಸ್ವೀಪ್  
D) Push, Arrange, Sweep, Sequence | ಪುಷ್, ಹೊಂದಿಸು, ಸ್ವೀಪ್, ಸೀಕ್ವೆನ್ಸ್

6. Which artificial respiration method is to be performed to the victim with injuries on the chest and belly? | ಎದೆ ಮತ್ತು ಹೊಟ್ಟೆಯ ಮೇಲೆ ಗಾಯಗಳಿಂದಾಗಿ ಬಲಿಪಶುಕ್ಕೆ ಯಾವ ಕೃತಕ ಉಸಿರಾಟ ವಿಧಾನವನ್ನು ನಿರ್ವಹಿಸಬೇಕು?

- A) Nelson's arm-lift back pressure method | ನೆಲ್ಸನ್ ಆರ್ಮ್-ಲಿಫ್ಟ್ ಬ್ಯಾಕ್ ಒತ್ತಡದ ವಿಧಾನ  
B) Holger - Nelson's back pressure method | ಹೋಲ್ಗರ್ - ನೆಲ್ಸನ್ ಬೆನ್ನು ಒತ್ತಡದ ವಿಧಾನ  
C) Schafer's method | ಸ್ಕಾಫರ್ ವಿಧಾನ  
D) Mouth to mouth method | ಬಾಯಿಯಿಂದ ಬಾಯಿಗೆ ವಿಧಾನ

4. Which criteria must be satisfied for the quality of PPE? | PPE ಗಳ ಗುಣಮಟ್ಟಕ್ಕಾಗಿ ಯಾವ ಮಾನದಂಡಗಳನ್ನು ಪೂರೈಸಬೇಕು?

- A) It cannot be used for long period | ಇದನ್ನು ದೀರ್ಘಕಾಲದವರೆಗೆ ಬಳಸಲಾಗುವುದಿಲ್ಲ  
B) Made by non standard material | ಪ್ರಮಾಣಿತವಲ್ಲದ ವಸ್ತುಗಳಿಂದ ತಯಾರಿಸಲಾಗುತ್ತದೆ  
C) It should with stand the hazards | ಇದು ಅಪಾಯಗಳನ್ನು ತಡೆದುಕೊಳ್ಳಬೇಕು  
D) Low cost | ಕಡಿಮೆ ವೆಚ್ಚ

7. Which is the waste disposal method that produces the heat? | ಶಾವನನ್ನು ಉತ್ಪತ್ತಿ ಮಾಡುವ ತ್ಯಾಜ್ಯ ವಿಲೇವಾರಿ ವಿಧಾನ ಯಾವುದು?

- A) Composting | ಮಿಶ್ರಗೊಬ್ಬರ  
B) Incineration | ಭಸ್ಮೀಕರಣ  
C) Landfill | ಲ್ಯಾಂಡ್ಫಿಲ್ಡ್  
D) Waste compaction | ತ್ಯಾಜ್ಯ ಸಂಕೋಚನ

8. What is starving in extinguishing of fire? | ಬೆಂಕಿಯನ್ನು ಆವರಿಸುವಲ್ಲಿ ಸ್ವಾರ್ಥಿ ಎಂದೇನು ಇದೆ?

- A) Adding fuel to the fire | ಬೆಂಕಿಗೆ ಇಂಧನವನ್ನು ಸೇರಿಸುವುದು  
B) Preventing oxygen supply to the fire | ಬೆಂಕಿಗೆ ಆಮ್ಲಜನಕದ ಪೂರೈಕೆಯನ್ನು ತಡೆಗಟ್ಟುವುದು  
C) Using water to cool the fire | ಬೆಂಕಿಯನ್ನು ತಣ್ಣಗಾಗಲು ನೀರನ್ನು ಬಳಸಿ  
D) Removing fuel element from the fire | ಬೆಂಕಿಯಿಂದ ಇಂಧನ ಅಂಶವನ್ನು ತೆಗೆದುಹಾಕಲಾಗುತ್ತದೆ

5. What is the name of the safety sign as shown in the figure? | ಚಿತ್ರದಲ್ಲಿ ತೋರಿಸಿರುವಂತೆ ಸುರಕ್ಷತಾ ಚಿಹ್ನೆಯ ಹೆಸರೇನು?

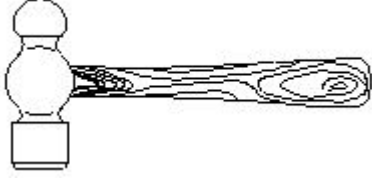
9. Which pliers is used for making the wire hooks and loops? | ವೈರ್ ಹುಕ್‌ಗಳು ಮತ್ತು ಲೂಪ್‌ಗಳನ್ನು ತಯಾರಿಸಲು ಯಾವ ಪ್ಲಿಯರ್ಸ್ ಅನ್ನು ಬಳಸಲಾಗುತ್ತದೆ?

- A) Long nose pliers | ಲಾಂಗ್ ನೋಸ್ ಪ್ಲಿಯರ್ಸ್  
B) Round nose pliers | ರೌಂಡ್ ನೋಸ್ ಪ್ಲಿಯರ್ಸ್

C) Flat nose pliers | ಫ್ಲಾಟ್ ನೋಸ್ ಪ್ಲಾಯರ್

D) Diagonal cutting pliers | ಡಯಾಗ್ನಲ್ ಕಟಿಂಗ್ ಪ್ಲಾಯರ್

10. What is the name of the tool as shown in the figure? | ಚಿತ್ರದಲ್ಲಿ ತೋರಿಸಿರುವಂತೆ ಉಪಕರಣದ ಹೆಸರೇನು?



A) Tack hammer | ಟ್ಯಾಕ್ ಸುತ್ತಿಗೆ B) Ball peen hammer | ಬಾಲ್ ಪೀನ್ ಸುತ್ತಿಗೆ

C) Cross peen hammer | ಕ್ರಾಸ್ ಪೀನ್ ಸುತ್ತಿಗೆ D) Claw hammer | ಕ್ಲಾ ಸುತ್ತಿಗೆ

11. Which Personal Protective Equipment (PPE) is used for the protection from fumes? | ಹೊಗೆಯಿಂದ ರಕ್ಷಿಸಲು ಯಾವ ವೈಯಕ್ತಿಕ ಸುರಕ್ಷಾ ಸಲಕರಣೆ (PPE) ಅನ್ನು ಬಳಸಲಾಗುತ್ತದೆ?

A) Respirator | ರೆಸ್ಪಿರೇಟರ್ B) Ear muff | ಇಯರ್ ಮಫ್  
C) Apron | ಅಪ್ರಾನ್ D) Goggles | ಕನ್ನಡಕಗಳು

12. Which is the golden hour for the victim injured on head with risk of dying? | ಸಾಯುವ ಅಪಾಯದೊಂದಿಗೆ ತಲೆಯ ಮೇಲೆ ಗಾಯಗೊಂಡ ಬಲಿಪಶುಕ್ಕೆ ಯಾವ ಸುವರ್ಣ ಗಂಟಿಯಾಗಿದೆ?

A) First 60 minutes B) First 30 minutes  
C) First 15 minutes D) First 45 minutes

13. What is the back ground colour of the warning signs in the safety sign category? | ಸುರಕ್ಷತಾ ಚಿಹ್ನೆಯ ವರ್ಗದಲ್ಲಿರುವ ಎಚ್ಚರಿಕೆ ಚಿಹ್ನೆಗಳ ಹಿಂದಿನ ನೆಲದ ಬಣ್ಣ ಯಾವುದು?

A) White | ಬಿಳಿ B) Blue | ನೀಲಿ  
C) Green | ಹಸಿರು D) Yellow | ಹಳದಿ


14. What is the name of the tool as shown in the figure? | ಚಿತ್ರದಲ್ಲಿ ತೋರಿಸಿರುವಂತೆ ಸಾಧನದ ಹೆಸರೇನು?



A) Pincer | ತಂತಿಗಳನ್ನು ಕತ್ತರಿಸುವುದು ಮತ್ತು ತಿರುಗಿಸುವುದು ಮರದಿಂದ ಉಗುರುಗಳನ್ನು ತೆಗೆಯುವುದು B) Wire stripper | ಬಿಸಿ ಪದಾರ್ಥಗಳನ್ನು ಹಿಡಿದಿಟ್ಟುಕೊಳ್ಳುವುದು

C) Gimlet | ಬೋಲ್ ಮತ್ತು ಬೀಜಗಳನ್ನು ಬಿಡಿಬಿಡಿಯಾಗಿ ಬಿಗಿಗೊಳಿಸುವುದು D) Side cutter | ತಂತಿಗಳನ್ನು ಕಡಿಯುವುದು ಮತ್ತು ತಿರುಗಿಸುವುದು

15. What is the name of the file as shown in the figure? | ಚಿತ್ರದಲ್ಲಿ ತೋರಿಸಿರುವಂತೆ ಫೈಲ್‌ನ ಹೆಸರೇನು?



A) Curved cut file | ಬಾಗಿದ ಕಟ್ B) Single cut file | ಒಂದೇ ಕಟ್ ಫೈಲ್ ಫೈಲ್

C) Double cut file | ಡಬಲ್ ಕಟ್ D) Rasp cut file | ರಾಸ್ಪ್ ಕಟ್ ಫೈಲ್ ಫೈಲ್

16. What is smothering in extinguishing of fire? | ಬೆಂಕಿಯನ್ನು ಕಡಿಯುವಲ್ಲಿ ಏನಾಗುತ್ತಿದೆ?

A) Adding the fuel element to the fire | ಇಂಧನ ಅಂಶವನ್ನು ಬೆಂಕಿಯಲ್ಲಿ ಸೇರಿಸುವುದು B) Removing the fuel element from the fire | ಬೆಂಕಿಯಿಂದ ಇಂಧನ ಅಂಶವನ್ನು ತೆಗೆದುಹಾಕಲಾಗುತ್ತಿದೆ

C) Using of water to lower the temperature | ತಾಪಮಾನವನ್ನು ಕಡಿಮೆ ಮಾಡಲು ನೀರಿನ ಬಳಕೆ D) Isolating the fire from the supply of oxygen | ಆಮ್ಲಜನಕದ ಪೂರೈಕೆಯಿಂದ ಬೆಂಕಿಯನ್ನು ಪ್ರತ್ಯೇಕಿಸುವುದು

17. What is smothering in extinguishing of fire? | ಬೆಂಕಿಯನ್ನು ಕಡಿಯುವಲ್ಲಿ ಏನಾಗುತ್ತಿದೆ?

A) Adding the fuel element to the fire | ಇಂಧನ ಅಂಶವನ್ನು ಬೆಂಕಿಯಲ್ಲಿ ಸೇರಿಸುವುದು B) Removing the fuel element from the fire | ಬೆಂಕಿಯಿಂದ ಇಂಧನ ಅಂಶವನ್ನು ತೆಗೆದುಹಾಕಲಾಗುತ್ತಿದೆ

C) Isolating the fire from the supply of oxygen | ಆಮ್ಲಜನಕದ ಪೂರೈಕೆಯಿಂದ ಬೆಂಕಿಯನ್ನು ಪ್ರತ್ಯೇಕಿಸುವುದು D) Using of water to lower the temperature | ತಾಪಮಾನವನ್ನು ಕಡಿಮೆ ಮಾಡಲು ನೀರಿನ ಬಳಕೆ

18. What is the name of the tool as shown in the figure? | ಚಿತ್ರದಲ್ಲಿ ತೋರಿಸಿರುವಂತೆ ಉಪಕರಣದ ಹೆಸರೇನು?



A) Combination pliers | ಕಾಂಬಿನೇಶನ್ ತಂತಿಗಳು B) Diagonal cutting pliers | ಕರ್ಣೀಯ ಕತ್ತರಿಸುವುದು ತಂತಿಗಳು

C) Crimping tool | ಅಪರಾಧ ಸಾಧನ D) Nose pliers | ನೋಸ್ ಇಕ್ಯುಲ್

19. Which file is used for sharpening the blunt teeth of a tenon saw? | ಒಂದು ಹತ್ತಿಯ ಮೊಂಡಾದ ಹಲ್ಲುಗಳನ್ನು ಹರಿತಗೊಳಿಸುವ ಸಲುವಾಗಿ ಯಾವ ಫೈಲ್ ಅನ್ನು ಬಳಸಲಾಗುತ್ತದೆ?

A) Triangular file | ತ್ರಿಕೋನ ಕಡತ B) Half round file | ಹಾಫ್ ಸುತ್ತಿನ ಫೈಲ್

C) Square file | ಸ್ಕ್ವೇರ್ ಫೈಲ್ D) Round file | ರೌಂಡ್ ಫೈಲ್

20. Which type of fire extinguisher is used for fire on electrical equipment? | ವಿದ್ಯುತ್ ಉಪಕರಣಗಳಲ್ಲಿ ಬೆಂಕಿಗೆ ಯಾವ ವಿಧದ

ಅಗ್ನಿಶಾಮಕವನ್ನು ಬಳಸಲಾಗುತ್ತದೆ?

- A) Foam type | ಫೋಮ್ ಪ್ರಕಾರ  
B) Gas cartridge water type | ಗ್ಯಾಸ್ ಕಾರ್ಟ್ರಿಜ್ ನೀರಿನ ವಿಧ  
C) Halon type | ಹ್ಯಾಲಾನ್ ಟೈಪ್  
D) Stored pressure water type | ಶೇಖರಿಸಲಾದ ಒತ್ತಡದ ನೀರಿನ ಪ್ರಕಾರ

21. Which type of occupational health hazard is cause for infection due to bacteria? | ಯಾವ ರೀತಿಯ ಔದ್ಯೋಗಿಕ ಆರೋಗ್ಯದ ಅಪಾಯವು ಬ್ಯಾಕ್ಟೀರಿಯಾದ ಸೋಂಕಿನಿಂದ ಉಂಟಾಗುತ್ತದೆ?

- A) Physiological hazard | ದೈಹಿಕ ಅಪಾಯ  
B) Electrical hazard | ವಿದ್ಯುತ್ ಅಪಾಯ  
C) Psychological hazard | ಮಾನಸಿಕ ಅಪಾಯ  
D) Biological hazard | ಜೈವಿಕ ಅಪಾಯ

22. Which is the physical hazard? | ದೈಹಿಕ ಅಪಾಯ ಯಾವುದು?

- A) Smoking | ಧೂಮಪಾನ  
B) Corrosive | ನಾಶಕಾರಿ  
C) Bacteria | ಬ್ಯಾಕ್ಟೀರಿಯಾ  
D) Vibration | ಕಂಪನ

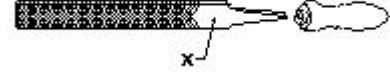
23. What is the use of the pincer? | ಪಿನ್ಸರ್ಸ್ ಬಳಕೆ ಏನು?

- A) Twisting the flexible wires | ಹೊಂದಿಕೊಳ್ಳುವ ತಂತಿಗಳನ್ನು ತಿರುಗಿಸುವುದು  
B) Holding small objects, where finger cannot reach | ಬೆರಳನ್ನು ತಲುಪಲು ಸಾಧ್ಯವಾಗದ ಸಣ್ಣ ವಸ್ತುಗಳನ್ನು ಹಿಡಿದಿಟ್ಟುಕೊಳ್ಳಿ  
C) Cutting larger diameter of wires | ದೊಡ್ಡ ವ್ಯಾಸದ ತಂತಿಗಳನ್ನು ಕತ್ತರಿಸುವುದು  
D) Extracting the pin nails from the wood | ಮರದಿಂದ ಪಿನ್ ಉಗುರುಗಳನ್ನು ಹೊರತೆಗೆಯುವಿಕೆ

24. What immediate action should be taken to rescue the victim, if he is still in contact with the electrical power supply? | ವಿದ್ಯುತ್ ಪೂರೈಕೆಯೊಂದಿಗೆ ಸಂಪರ್ಕದಲ್ಲಿದ್ದರೆ, ಬಲಿಯಾದವರನ್ನು ರಕ್ಷಿಸಲು ತಕ್ಷಣವೇ ಯಾವ ಕ್ರಮ ಕೈಗೊಳ್ಳಬೇಕು?

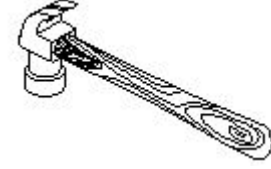
- A) Break the contact by switching OFF the power supply | ವಿದ್ಯುತ್ ಸರಬರಾಜು ಅನ್ನು ಆಫ್ ಮಾಡುವುದರ ಮೂಲಕ ಸಂಪರ್ಕವನ್ನು ಮುರಿಯಿರಿ  
B) Pull or push him from the contact by hand | ಕೈಯಿಂದ ಸಂಪರ್ಕದಿಂದ ಅವನನ್ನು ಎಳೆಯಿರಿ ಅಥವಾ ತಳ್ಳಿರಿ  
C) Inform your authority about this electric shock | ದೂರ ಇಡಿ  
D) Call someone for helping to remove him from contact | ಸಂಪರ್ಕದಿಂದ ಅವರನ್ನು ತೆಗೆದುಹಾಕಲು ಸಹಾಯಕ್ಕಾಗಿ ಯಾರನ್ನಾದರೂ ಕರೆ ಮಾಡಿ

25. What is the name of the part marked 'X' as shown in the figure? | ಫೈಲ್ನಲ್ಲಿ X ಒಂದು ಗುರುತಿಸಲಾದ ಭಾಗವನ್ನು ಹೆಸರಿಸಿ.



- A) Tang | ಟ್ಯಾಂಗ್  
B) Edge | ಎಡ್ಜ್  
C) Heel | ಹೀಲ್  
D) Point | ಪಾಯಿಂಟ್

26. What is the name of the hammer as shown in the figure? | ಚಿತ್ರದಲ್ಲಿ ತೋರಿಸಿರುವಂತೆ ಸುತ್ತಿಗೆಯ ಹೆಸರೇನು?



- A) Cross pein hammer | ಕ್ರಾಸ್ ಪೆನ್ ಸುತ್ತಿಗೆ  
B) Claw hammer | ಕ್ಲಾ ಸುತ್ತಿಗೆ  
C) Ball pein hammer | ಬಾಲ್ ಪೆನ್ ಸುತ್ತಿಗೆ  
D) Straight pein hammer | ಸ್ಟ್ರೈಟ್ ಪೆನ್ ಸುತ್ತಿಗೆ

27. What is the name of the drill bit as shown in the figure? | ಚಿತ್ರದಲ್ಲಿ ತೋರಿಸಿರುವಂತೆ ಡ್ರಿಲ್ ಬಿಟ್‌ನ ಹೆಸರೇನು?



- A) Countersink bit | ಕೌಂಟರ್ ಸಿಂಕ್ ಬಿಟ್  
B) Taper shank bit | ಟೆಪರ್ ಶಾಂಕ್ ಬಿಟ್  
C) Straight shank bit | ನೇರವಾಗಿ ಶಾಂಕ್ ಬಿಟ್  
D) Flat drill bit | ಫ್ಲಾಟ್ ಡ್ರಿಲ್ ಬಿಟ್

28. Which disposal method of waste save lot of energy? | ತ್ಯಾಜ್ಯದ ವಿಲೇವಾರಿ ವಿಧಾನವು ಬಹಳಷ್ಟು ಶಕ್ತಿಯನ್ನು ಉಳಿಸುತ್ತದೆ?

- A) Composting | ಸಂಯೋಜನೆ  
B) Incineration | ಭಸ್ಮೀಕರಣ  
C) Land fill | ಜಮೀನು ಭರ್ತಿ  
D) Recycling | ಮರುಬಳಕೆ