

Duration: 50 Mins

Total Marks: 28

Q.ID: ITISKILL1688UR

1. Which file is used for sharpening the blunt teeth of a tenon saw? | ಒಂದು ಹತ್ತಿಯ ಮೊಂಡಾದ ಹಲ್ಲುಗಳನ್ನು ಹರಿತಗೊಳಿಸುವ ಸಲುವಾಗಿ ಯಾವ ಫೈಲ್ ಅನ್ನು ಬಳಸಲಾಗುತ್ತದೆ?

- A) Triangular file | ತ್ರಿಕೋನ ಕಡತ
B) Half round file | ಹಾಫ್ ಸುತ್ತಿನ ಫೈಲ್
C) Square file | ಸ್ಕ್ವೇರ್ ಫೈಲ್
D) Round file | ರೌಂಡ್ ಫೈಲ್

Answer: A) Triangular file | ತ್ರಿಕೋನ ಕಡತ

2. Which is the golden hour for the victim injured on head with risk of dying? | ಸಾಯುವ ಅಪಾಯದೊಂದಿಗೆ ತಲೆಯ ಮೇಲೆ ಗಾಯಗೊಂಡ ಬಲಿಪಶುಕ್ಕೆ ಯಾವ ಸುವರ್ಣ ಗಂಟಿಯಾಗಿದೆ?

- A) First 15 minutes
B) First 60 minutes
C) First 45 minutes
D) First 30 minutes

Answer: D) First 30 minutes

3. What is the name of the tool as shown in the figure? | ಚಿತ್ರದಲ್ಲಿ ತೋರಿಸಿರುವಂತೆ ಉಪಕರಣದ ಹೆಸರೇನು?



- A) Nose pliers | ನೋಸ್ ಇಕ್ಲಿಪ್ಸ್
B) Crimping tool | ಅಪರಾಧ ಸಾಧನ
C) Combination pliers | ಕಾಂಬಿನೇಷನ್ ತಂತಿಗಳು
D) Diagonal cutting pliers | ಕರ್ಣೀಯ ಕತ್ತರಿಸುವುದು ತಂತಿಗಳು

Answer: D) Diagonal cutting pliers | ಕರ್ಣೀಯ ಕತ್ತರಿಸುವುದು ತಂತಿಗಳು

4. What is starving in extinguishing of fire? | ಬೆಂಕಿಯನ್ನು ಆವರಿಸುವಲ್ಲಿ ಸ್ವಾರ್ಥಿತ್ವದ ಏನು ಇದೆ?

- A) Adding fuel to the fire | ಬೆಂಕಿಗೆ ಇಂಧನವನ್ನು ಸೇರಿಸುವುದು
B) Preventing oxygen supply to the fire | ಬೆಂಕಿಗೆ ಆಮ್ಲಜನಕದ ಪೂರೈಕೆಯನ್ನು ತಡೆಗಟ್ಟುವುದು
C) Using water to cool the fire | ಬೆಂಕಿಯನ್ನು ತಣ್ಣಗಾಗಲು ನೀರನ್ನು ಬಳಸಿ
D) Removing fuel element from the fire | ಬೆಂಕಿಯಿಂದ ಇಂಧನ ಅಂಶವನ್ನು ತೆಗೆದುಹಾಕಲಾಗುತ್ತಿದೆ

Answer: D) Removing fuel element from the fire | ಬೆಂಕಿಯಿಂದ ಇಂಧನ ಅಂಶವನ್ನು ತೆಗೆದುಹಾಕಲಾಗುತ್ತಿದೆ

5. Which is the waste disposal method that produces the heat? | ಶಾಖವನ್ನು ಉತ್ಪತ್ತಿ ಮಾಡುವ ತ್ಯಾಜ್ಯ ವಿಲೇವಾರಿ ವಿಧಾನ ಯಾವುದು?

- A) Waste compaction | ತ್ಯಾಜ್ಯ ಸಂಕೋಚನ
B) Landfill | ಲ್ಯಾಂಡ್‌ಫಿಲ್

C) Composting | ಮಿಶ್ರಗೊಬ್ಬರ D) Incineration | ಭಸ್ಮೀಕರಣ

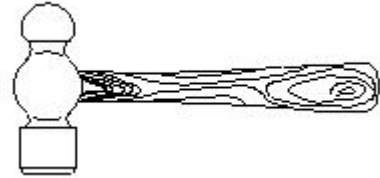
Answer: D) Incineration | ಭಸ್ಮೀಕರಣ

6. What immediate action should be taken to rescue the victim, if he is still in contact with the electrical power supply? | ವಿದ್ಯುತ್ ಪೂರೈಕೆಯೊಂದಿಗೆ ಸಂಪರ್ಕದಲ್ಲಿದ್ದರೆ, ಬಲಿಯಾದವರನ್ನು ರಕ್ಷಿಸಲು ತಕ್ಷಣವೇ ಯಾವ ಕ್ರಮ ಕೈಗೊಳ್ಳಬೇಕು?

- A) Pull or push him from the contact by hand | ಕೈಯಿಂದ ಸಂಪರ್ಕದಿಂದ ಅವನನ್ನು ಎಳೆಯಿರಿ ಅಥವಾ ತಳ್ಳಿರಿ
B) Inform your authority about this electric shock | ದೂರ ಇಡಿ
C) Break the contact by switching OFF the power supply | ವಿದ್ಯುತ್ ಸರಬರಾಜು ಅನ್ನು ಆಫ್ ಮಾಡುವುದರ ಮೂಲಕ ಸಂಪರ್ಕವನ್ನು ಮುರಿಯಿರಿ
D) Call someone for helping to remove him from contact | ಸಂಪರ್ಕದಿಂದ ಅವರನ್ನು ಯಾರನ್ನಾದರೂ ಕರೆ ಮಾಡಿ

Answer: C) Break the contact by switching OFF the power supply | ವಿದ್ಯುತ್ ಸರಬರಾಜು ಅನ್ನು ಆಫ್ ಮಾಡುವುದರ ಮೂಲಕ ಸಂಪರ್ಕವನ್ನು ಮುರಿಯಿರಿ

7. What is the name of the tool as shown in the figure? | ಚಿತ್ರದಲ್ಲಿ ತೋರಿಸಿರುವಂತೆ ಉಪಕರಣದ ಹೆಸರೇನು?



- A) Cross pein hammer | ಕ್ರಾಸ್ ಪೆನ್ ಸುತ್ತಿಗೆ
B) Tack hammer | ಟ್ಯಾಕ್ ಸುತ್ತಿಗೆ
C) Ball peen hammer | ಬಾಲ್ ಪೀನ್ ಸುತ್ತಿಗೆ
D) Claw hammer | ಕ್ಲಾ ಸುತ್ತಿಗೆ

Answer: C) Ball peen hammer | ಬಾಲ್ ಪೀನ್ ಸುತ್ತಿಗೆ

8. Which is the physical hazard? | ದೈಹಿಕ ಅಪಾಯ ಯಾವುದು?

- A) Vibration | ಕಂಪನ
B) Smoking | ಧೂಮಪಾನ
C) Bacteria | ಬ್ಯಾಕ್ಟೀರಿಯಾ
D) Corrosive | ನಾಶಕಾರಿ

Answer: A) Vibration | ಕಂಪನ

9. Which type of occupational health hazard is cause for infection due to bacteria? | ಯಾವ ರೀತಿಯ ಔದ್ಯೋಗಿಕ ಆರೋಗ್ಯದ ಅಪಾಯವು ಬ್ಯಾಕ್ಟೀರಿಯಾದ ಸೋಂಕಿನಿಂದ ಉಂಟಾಗುತ್ತದೆ?

- A) Psychological hazard | ಮಾನಸಿಕ ಅಪಾಯ
B) Electrical hazard | ವಿದ್ಯುತ್ ಅಪಾಯ

C) Biological hazard | ಜೈವಿಕ ಅಪಾಯ D) Physiological hazard | ದೈಹಿಕ ಅಪಾಯ

Answer: C) Biological hazard | ಜೈವಿಕ ಅಪಾಯ

10. What is smothering in extinguishing of fire? | ಬೆಂಕಿಯನ್ನು ಕಡಿಯುವಲ್ಲಿ ಏನಾಗುತ್ತಿದೆ?

- A) Adding the fuel element to the fire | ಇಂಧನ ಅಂಶವನ್ನು ಬೆಂಕಿಯಲ್ಲಿ ಸೇರಿಸುವುದು
B) Isolating the fire from the supply of oxygen | ಆಮ್ಲಜನಕದ ಪೂರೈಕೆಯಿಂದ ಬೆಂಕಿಯನ್ನು ಪ್ರತ್ಯೇಕಿಸುವುದು
C) Using of water to lower the temperature | ತಾಪಮಾನವನ್ನು ಕಡಿಮೆ ಮಾಡಲು ನೀರಿನ ಬಳಕೆ
D) Removing the fuel element from the fire | ಬೆಂಕಿಯಿಂದ ಇಂಧನ ಅಂಶವನ್ನು ತೆಗೆದುಹಾಕಲಾಗುತ್ತಿದೆ

Answer: B) Isolating the fire from the supply of oxygen | ಆಮ್ಲಜನಕದ ಪೂರೈಕೆಯಿಂದ ಬೆಂಕಿಯನ್ನು ಪ್ರತ್ಯೇಕಿಸುವುದು

11. Which type of fire extinguisher is used for fire on electrical equipment? | ವಿದ್ಯುತ್ ಉಪಕರಣಗಳಲ್ಲಿ ಬೆಂಕಿಗೆ ಯಾವ ವಿಧದ ಅಗ್ನಿಶಾಮಕವನ್ನು ಬಳಸಲಾಗುತ್ತದೆ?

- A) Halon type | ಹ್ಯಾಲಾನ್ ಟೈಪ್
B) Stored pressure water type | ಶೇಖರಿಸಲಾದ ಒತ್ತಡದ ನೀರಿನ ಪ್ರಕಾರ
C) Foam type | ಫೋಮ್ ಪ್ರಕಾರ
D) Gas cartridge water type | ಗ್ಯಾಸ್ ಕಾರ್ಟ್ರಿಜ್ ನೀರಿನ ವಿಧ

Answer: A) Halon type | ಹ್ಯಾಲಾನ್ ಟೈಪ್

12. Which disposal method of waste save lot of energy? | ತ್ಯಾಜ್ಯ ವಿಲೇವಾರಿ ವಿಧಾನವು ಬಹಳಷ್ಟು ಶಕ್ತಿಯನ್ನು ಉಳಿಸುತ್ತದೆ?

- A) Recycling | ಮರುಬಳಕೆ
B) Incineration | ಭಸ್ಮೀಕರಣ
C) Composting | ಸಂಯೋಜನೆ
D) Land fill | ಜಮೀನು ಭರ್ತಿ

Answer: A) Recycling | ಮರುಬಳಕೆ

13. Which Personal Protective Equipment (PPE) is used for the protection from fumes? | ಹೊಗೆಯಿಂದ ರಕ್ಷಿಸಲು ಯಾವ ವೈಯಕ್ತಿಕ ಸುರಕ್ಷಾ ಸಲಕರಣೆ (PPE) ಅನ್ನು ಬಳಸಲಾಗುತ್ತದೆ?

- A) Ear muff | ಇಯರ್ ಮಫ್
B) Goggles | ಕನ್ನಡಕಗಳು
C) Respirator | ರೆಸ್ಪಿರೇಟರ್
D) Apron | ಅಪ್ರಾನ್

Answer: C) Respirator | ರೆಸ್ಪಿರೇಟರ್

14. Which step of the 5s-concept refers "Standardization"? | 5s ನೇ-ಪರಿಕಲ್ಪನೆಯ ಯಾವ ಹಂತವು ಪ್ರಮಾಣೀಕರಣ ಯನ್ನು ಸೂಚಿಸುತ್ತದೆ?

- A) Step - 4
B) Step - 2
C) Step - 3
D) Step - 1

Answer: A) Step - 4

15. What is the back ground colour of the warning signs in the safety sign category? | ಸುರಕ್ಷತಾ ಚಿಹ್ನೆಯ ವರ್ಗದಲ್ಲಿರುವ ಎಚ್ಚರಿಕೆ ಚಿಹ್ನೆಗಳ ಹಿಂದಿನ ನೆಲದ ಬಣ್ಣ ಯಾವುದು?

- A) Green | ಹಸಿರು
B) Yellow | ಹಳದಿ

C) Blue | ನೀಲಿ
D) White | ಬಿಳಿ

Answer: B) Yellow | ಹಳದಿ

16. Which is the correct sequence of operation to be performed while using the fire extinguisher? | ಅಗ್ನಿಶಾಮಕವನ್ನು ಬಳಸುವಾಗ ನಿರ್ವಹಿಸಬೇಕಾದ ಸರಿಯಾದ ಕಾರ್ಯಾಚರಣೆಯ ಅನುಕ್ರಮ ಯಾವುದು?

- A) Push, Arrange, Sweep, Sequence | ಪುಷ್, ಹೊಂದಿಸು, ಸ್ವಿಪ್, ಸೀಕ್ವೆನ್ಸ್
B) Push, Arrange, Squeeze, Sweep | ಪುಷ್, ಜೋಡಿಸು, ಸ್ಕ್ವೀಜ್, ಸ್ವಿಪ್
C) Pull, Aim, Sweep, Squeeze | ಪುಲ್, ಏಮ್, ಸ್ವಿಪ್, ಸ್ಕ್ವೀಜ್
D) Pull, Aim, Squeeze, Sweep | ಪುಲ್, ಏಮ್, ಸ್ಕ್ವೀಜ್, ಸ್ವಿಪ್

Answer: D) Pull, Aim, Squeeze, Sweep | ಪುಲ್, ಏಮ್, ಸ್ಕ್ವೀಜ್, ಸ್ವಿಪ್

17. Which criteria must be satisfied for the quality of PPE s? | PPE ಗಳ ಗುಣಮಟ್ಟಕ್ಕಾಗಿ ಯಾವ ಮಾನದಂಡಗಳನ್ನು ಪೂರೈಸಬೇಕು?

- A) Low cost | ಕಡಿಮೆ ವೆಚ್ಚ
B) Made by non standard material | ಪ್ರಮಾಣಿತವಲ್ಲದ ವಸ್ತುಗಳಿಂದ ತಯಾರಿಸಲಾಗುತ್ತದೆ
C) It cannot be used for long period | ಇದನ್ನು ದೀರ್ಘಕಾಲದವರೆಗೆ ಬಳಸಲಾಗುವುದಿಲ್ಲ
D) It should with stand the hazards | ಇದು ಅಪಾಯಗಳನ್ನು ತಡೆದುಕೊಳ್ಳಬೇಕು

Answer: D) It should with stand the hazards | ಇದು ಅಪಾಯಗಳನ್ನು ತಡೆದುಕೊಳ್ಳಬೇಕು

18. Which condition of the victim is referred as COMA stage? | ಬಲಿಯಾದ ಯಾವ ಸ್ಥಿತಿಯನ್ನು ಕಾಮಾ ಹಂತ ಎಂದು ಕರೆಯಲಾಗುತ್ತದೆ?

- A) Breathing and respond to calls | ಉಸಿರಾಟ ಮತ್ತು ಕರೆಗಳಿಗೆ ಪ್ರತಿಕ್ರಿಯಿಸಿ
B) Lie totally senseless and do not respond to calls | ಸುಳ್ಳು ಸಂಪೂರ್ಣವಾಗಿ ಮೂರ್ಖತನವಿಲ್ಲ ಮತ್ತು ಕರೆಗಳಿಗೆ ಪ್ರತಿಕ್ರಿಯಿಸಬೇಡಿ
C) Conscious but cannot respond to calls | ಜಾಗೃತ ಆದರೆ ಕರೆಗಳಿಗೆ ಪ್ರತಿಕ್ರಿಯಿಸಲು ಸಾಧ್ಯವಿಲ್ಲ
D) Unconscious but can respond to calls | ಅಜ್ಞಾತ ಆದರೆ ಕರೆಗಳಿಗೆ ಪ್ರತಿಕ್ರಿಯಿಸಬಹುದು

Answer: B) Lie totally senseless and do not respond to calls | ಸುಳ್ಳು ಸಂಪೂರ್ಣವಾಗಿ ಮೂರ್ಖತನವಿಲ್ಲ ಮತ್ತು ಕರೆಗಳಿಗೆ ಪ್ರತಿಕ್ರಿಯಿಸಬೇಡಿ

19. What is smothering in extinguishing of fire? | ಬೆಂಕಿಯನ್ನು ಕಡಿಯುವಲ್ಲಿ ಏನಾಗುತ್ತಿದೆ?

- A) Isolating the fire from the supply of oxygen | ಆಮ್ಲಜನಕದ ಪೂರೈಕೆಯಿಂದ ಬೆಂಕಿಯನ್ನು ಪ್ರತ್ಯೇಕಿಸುವುದು
B) Using of water to lower the temperature | ತಾಪಮಾನವನ್ನು ಕಡಿಮೆ ಮಾಡಲು ನೀರಿನ ಬಳಕೆ
C) Removing the fuel element from the fire | ಬೆಂಕಿಯಿಂದ ಇಂಧನ ಅಂಶವನ್ನು ತೆಗೆದುಹಾಕಲಾಗುತ್ತಿದೆ
D) Adding the fuel element to the fire | ಇಂಧನ ಅಂಶವನ್ನು ಬೆಂಕಿಯಲ್ಲಿ ಸೇರಿಸುವುದು

Answer: A) Isolating the fire from the supply of oxygen | ಆಮ್ಲಜನಕದ ಪೂರೈಕೆಯಿಂದ ಬೆಂಕಿಯನ್ನು ಪ್ರತ್ಯೇಕಿಸುವುದು

20. What is the name of the safety sign as shown in the figure? | ಚಿತ್ರದಲ್ಲಿ ತೋರಿಸಿರುವಂತೆ ಸುರಕ್ಷತಾ ಚಿಹ್ನೆಯ ಹೆಸರೇನು?



- A) Warning sign | ಎಚ್ಚರಿಕೆ ಸಂಕೇತ
B) Mandatory sign | ಕಡ್ಡಾಯ ಚಿಹ್ನೆ
C) Information sign | ಮಾಹಿತಿ ಚಿಹ್ನೆ
D) Prohibition sign | ನಿಷೇಧ ಚಿಹ್ನೆ

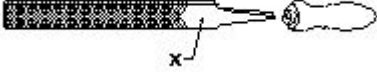
Answer: C) Information sign | ಮಾಹಿತಿ ಚಿಹ್ನೆ

21. Which pliers is used for making the wire hooks and loops? | ವೈರ್ ಹೂಕ್‌ಗಳು ಮತ್ತು ಲೂಪ್‌ಗಳನ್ನು ತಯಾರಿಸಲು ಯಾವ ಪ್ಲಿಯರ್ ಅನ್ನು ಬಳಸಲಾಗುತ್ತದೆ?

- A) Diagonal cutting pliers | ಡಯಾಗನಲ್ ಕಟಿಂಗ್ ಪ್ಲಿಯರ್
B) Flat nose pliers | ಫ್ಲಾಟ್ ನೋಸ್ ಪ್ಲಿಯರ್
C) Long nose pliers | ಲಾಂಗ್ ನೋಸ್ ಪ್ಲಿಯರ್
D) Round nose pliers | ರೌಂಡ್ ನೋಸ್ ಪ್ಲಿಯರ್

Answer: D) Round nose pliers | ರೌಂಡ್ ನೋಸ್ ಪ್ಲಿಯರ್

22. What is the name of the part marked 'X' as shown in the figure? | ಫೈಲ್‌ನಲ್ಲಿ X ಒಂದು ಗುರುತಿಸಲಾದ ಭಾಗವನ್ನು ಹೆಸರಿಸಿ.



- A) Tang | ಟ್ಯಾಂಗ್
B) Point | ಪಾಯಿಂಟ್
C) Heel | ಹೀಲ್
D) Edge | ಎಡ್ಜ್

Answer: C) Heel | ಹೀಲ್


23. What is the name of the drill bit as shown in the figure? | ಚಿತ್ರದಲ್ಲಿ ತೋರಿಸಿರುವಂತೆ ಡ್ರಿಲ್ ಬಿಟ್‌ನ ಹೆಸರೇನು?



- A) Flat drill bit | ಫ್ಲಾಟ್ ಡ್ರಿಲ್ ಬಿಟ್
B) Countersink bit | ಕೌಂಟರ್ ಸಿಂಕ್ ಬಿಟ್
C) Taper shank bit | ಟಿಪರ್ ಶ್ಯಾಂಕ್ ಬಿಟ್
D) Straight shank bit | ನೇರವಾಗಿ ಶ್ಯಾಂಕ್ ಬಿಟ್

Answer: C) Taper shank bit | ಟಿಪರ್ ಶ್ಯಾಂಕ್ ಬಿಟ್

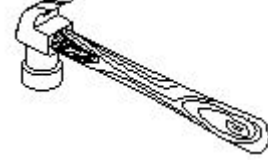
24. What is the name of the file as shown in the figure? | ಚಿತ್ರದಲ್ಲಿ ತೋರಿಸಿರುವಂತೆ ಫೈಲ್‌ನ ಹೆಸರೇನು?



- A) Curved cut file | ಬಾಗಿದ ಕಟ್‌ಫೈಲ್
B) Single cut file | ಒಂದೇ ಕಟ್‌ಫೈಲ್
C) Double cut file | ಡಬಲ್ ಕಟ್‌ಫೈಲ್
D) Rasp cut file | ರಾಸ್ಪ್ ಕಟ್‌ಫೈಲ್

Answer: D) Rasp cut file | ರಾಸ್ಪ್ ಕಟ್‌ಫೈಲ್

25. What is the name of the hammer as shown in the figure? | ಚಿತ್ರದಲ್ಲಿ ತೋರಿಸಿರುವಂತೆ ಸುತ್ತಿಗೆಯ ಹೆಸರೇನು?



- A) Ball pein hammer | ಬಾಲ್ ಪೆನ್ ಸುತ್ತಿಗೆ
B) Claw hammer | ಕ್ಲಾ ಸುತ್ತಿಗೆ
C) Cross pein hammer | ಕ್ರಾಸ್ ಪೆನ್ ಸುತ್ತಿಗೆ
D) Straight pein hammer | ಸ್ಟ್ರೈಟ್ ಪೆನ್ ಸುತ್ತಿಗೆ

Answer: B) Claw hammer | ಕ್ಲಾ ಸುತ್ತಿಗೆ

26. Which artificial respiration method is to be performed to the victim with injuries on the chest and belly? | ಎದೆ ಮತ್ತು ಹೊಟ್ಟೆಯ ಮೇಲೆ ಗಾಯಗಳಿಂದಾಗಿ ಬಲಿಪಶುಕ್ಕೆ ಯಾವ ಕೃತಕ ಉಸಿರಾಟ ವಿಧಾನವನ್ನು ನಿರ್ವಹಿಸಬೇಕು?

- A) Mouth to mouth method | ಬಾಯಿಯಿಂದ ಬಾಯಿಗೆ ವಿಧಾನ
B) Nelson's arm-lift back pressure method | ನೆಲ್ಸನ್ ಆರ್ಮ್-ಲಿಫ್ಟ್ ಬ್ಯಾಕ್ ಪ್ರೆಶರ್ ವಿಧಾನ
C) Holger - Nelson's back pressure method | ಹೋಲ್ಗರ್ - ನೆಲ್ಸನ್ ಬೆನ್ನು ಒತ್ತಡದ ವಿಧಾನ
D) Schafer's method | ಸ್ಕಾಫರ್ ವಿಧಾನ

Answer: A) Mouth to mouth method | ಬಾಯಿಯಿಂದ ಬಾಯಿಗೆ ವಿಧಾನ

27. What is the name of the tool as shown in the figure? | ಚಿತ್ರದಲ್ಲಿ ತೋರಿಸಿರುವಂತೆ ಸಾಧನದ ಹೆಸರೇನು?



- A) Gimlet | ಬೋಲ್ ಮತ್ತು ಬೀಜಗಳನ್ನು ಬಿಡಿಬಿಡಿಯಾಗಿ ಬಿಗಿಗೊಳಿಸುವುದು
B) Pincer | ತಂತಿಗಳನ್ನು ಕತ್ತರಿಸುವುದು ಮತ್ತು ತೆರಗಿಸುವುದು ಮರದಿಂದ ಉಗುರುಗಳನ್ನು ತೆಗೆಯುವುದು
C) Side cutter | ತಂತಿಗಳನ್ನು ಕಡಿಯುವುದು ಮತ್ತು ತಿರುಗಿಸುವುದು
D) Wire stripper | ಬಿಸಿ ಪದಾರ್ಥಗಳನ್ನು ಹಿಡಿದಿಟ್ಟುಕೊಳ್ಳುವುದು

Answer: B) Pincer | ತಂತಿಗಳನ್ನು ಕತ್ತರಿಸುವುದು ಮತ್ತು ತಿರುಗಿಸುವುದು ಮರದಿಂದ ಉಗುರುಗಳನ್ನು ತೆಗೆಯುವುದು

28. What is the use of the pincer? | ಪಿನ್ಸರ್ ಬಳಕೆ ಏನು?

A) Twisting the flexible wires
| ಹೊಂದಿಕೊಳ್ಳುವ ತಂತಿಗಳನ್ನು
ತಿರುಗಿಸುವುದು

B) Holding small objects,
where finger cannot reach |
ಬೆರಳನ್ನು ತಲುಪಲು ಸಾಧ್ಯವಾಗದ
ಸಣ್ಣ ವಸ್ತುಗಳನ್ನು ಹಿಡಿದಿಟ್ಟುಕೊಳ್ಳಿ

C) Extracting the pin nails
from the wood | ಮರದಿಂದ
ಪಿನ್ ಉಗುರುಗಳನ್ನು
ಹೊರತೆಗೆಯುವಿಕೆ

D) Cutting larger diameter of
wires | ದೊಡ್ಡ ವ್ಯಾಸದ ತಂತಿಗಳನ್ನು
ಕತ್ತರಿಸುವುದು

**Answer: C) Extracting the pin nails from the wood | ಮರದಿಂದ
ಪಿನ್ ಉಗುರುಗಳನ್ನು ಹೊರತೆಗೆಯುವಿಕೆ**
