

Student Name: _____ Roll No: _____

1. What is the name of the safety sign as shown in the figure?
| ಚಿತ್ರದಲ್ಲಿ ತೋರಿಸಿರುವಂತೆ ಸುರಕ್ಷತಾ ಚಿಹ್ನೆಯ ಹೆಸರೇನು?



- A) Warning sign | ಎಚ್ಚರಿಕೆ ಸಂಕೇತ
B) Mandatory sign | ಕಡ್ಡಾಯ ಚಿಹ್ನೆ
C) Prohibition sign | ನಿಷೇಧ ಚಿಹ್ನೆ
D) Information sign | ಮಾಹಿತಿ ಚಿಹ್ನೆ

2. What is the name of the tool as shown in the figure?
| ಚಿತ್ರದಲ್ಲಿ ತೋರಿಸಿರುವಂತೆ ಉಪಕರಣದ ಹೆಸರೇನು?



- A) Diagonal cutting pliers | ಕರ್ಣೀಯ ಕತ್ತರಿಸುವುದು ತಂತಿಗಳು
B) Combination pliers | ಕಾಂಬಿನೇಷನ್ ತಂತಿಗಳು
C) Nose pliers | ನೋಸ್ ಇಕ್ವಿಲ್
D) Crimping tool | ಅಪರಾಧ ಸಾಧನ


3. Which is the waste disposal method that produces the heat?
| ಶಾಖವನ್ನು ಉತ್ಪತ್ತಿ ಮಾಡುವ ತ್ಯಾಜ್ಯ ವಿಲೇವಾರಿ ವಿಧಾನ ಯಾವುದು?

- A) Waste compaction | ತ್ಯಾಜ್ಯ ಸಂಕೋಚನ
B) Incineration | ಭಸ್ಮೀಕರಣ
C) Composting | ಮಿಶ್ರಗೊಬ್ಬರ
D) Landfill | ಲ್ಯಾಂಡ್‌ಫಿಲ್

4. Which is the correct sequence of operation to be performed while using the fire extinguisher?
| ಅಗ್ನಿಶಾಮಕವನ್ನು ಬಳಸುವಾಗ ನಿರ್ವಹಿಸಬೇಕಾದ ಸರಿಯಾದ ಕಾರ್ಯಾಚರಣೆಯ ಅನುಕ್ರಮ ಯಾವುದು?

- A) Pull, Aim, Squeeze, Sweep | ಪುಲ್, ಏಮ್, ಸ್ವೀಜ್, ಸ್ವೀಪ್
B) Push, Arrange, Squeeze, Sweep | ಪುಷ್, ಆರೇಂಜ್, ಸ್ವೀಪ್, ಸ್ವೀಪ್
C) Pull, Aim, Sweep, Squeeze | ಪುಲ್, ಏಮ್, ಸ್ವೀಪ್, ಸ್ವೀಪ್
D) Push, Arrange, Sweep, Sequence | ಪುಷ್, ಹೋಂದಿಸು, ಸ್ವೀಪ್, ಸೀಕ್ವೆನ್ಸ್

5. What is the name of the hammer as shown in the figure?
| ಚಿತ್ರದಲ್ಲಿ ತೋರಿಸಿರುವಂತೆ ಸುತ್ತಿಗೆಯ ಹೆಸರೇನು?



- A) Ball pein hammer | ಬಾಲ್ ಪೆನ್ ಸುತ್ತಿಗೆ
B) Cross pein hammer | ಕ್ರಾಸ್ ಪೆನ್ ಸುತ್ತಿಗೆ
C) Straight pein hammer | ಸ್ಟ್ರೈಟ್ ಪೆನ್ ಸುತ್ತಿಗೆ
D) Claw hammer | ಕ್ಲಾ ಸುತ್ತಿಗೆ

6. What is the name of the file as shown in the figure?
| ಚಿತ್ರದಲ್ಲಿ ತೋರಿಸಿರುವಂತೆ ಫೈಲಿನ ಹೆಸರೇನು?



- A) Double cut file | ಡಬಲ್ ಕಟ್ ಫೈಲ್
B) Single cut file | ಒಂದೇ ಕಟ್ ಫೈಲ್
C) Curved cut file | ಬಾಗಿದ ಕಟ್ ಫೈಲ್
D) Rasp cut file | ರಾಸ್ಪ್ ಕಟ್ ಫೈಲ್

7. Which pliers is used for making the wire hooks and loops?
| ವೈರ್ ಹುಕ್‌ಗಳು ಮತ್ತು ಲೂಪ್‌ಗಳನ್ನು ತಯಾರಿಸಲು ಯಾವ ಪ್ಲಿಯರ್ ಅನ್ನು ಬಳಸಲಾಗುತ್ತದೆ?

- A) Diagonal cutting pliers | ಡಯಾಗನಲ್ ಕಟಿಂಗ್ ಪ್ಲಿಯರ್
B) Flat nose pliers | ಫ್ಲಾಟ್ ನೋಸ್ ಪ್ಲಿಯರ್
C) Round nose pliers | ರೌಂಡ್ ನೋಸ್ ಪ್ಲಿಯರ್
D) Long nose pliers | ಲಾಂಗ್ ನೋಸ್ ಪ್ಲಿಯರ್

8. What is smothering in extinguishing of fire?
| ಬೆಂಕಿಯನ್ನು ಕಡಿಯುವಲ್ಲಿ ಏನಾಗುತ್ತಿದೆ?

- A) Isolating the fire from the supply of oxygen | ಆಮ್ಲಜನಕದ ಪೂರೈಕೆಯಿಂದ ಬೆಂಕಿಯನ್ನು ಪ್ರತ್ಯೇಕಿಸುವುದು
B) Adding the fuel element to the fire | ಇಂಧನ ಅಂಶವನ್ನು ಬೆಂಕಿಯಲ್ಲಿ ಸೇರಿಸುವುದು
C) Using of water to lower the temperature | ತಾಪಮಾನವನ್ನು ಕಡಿಮೆ ಮಾಡಲು ನೀರಿನ ಬಳಕೆ
D) Removing the fuel element from the fire | ಬೆಂಕಿಯಿಂದ ಇಂಧನ ಅಂಶವನ್ನು ತೆಗೆದುಹಾಕಲಾಗುತ್ತಿದೆ

9. Which file is used for sharpening the blunt teeth of a tenon

saw? | ಒಂದು ಹತ್ತಿಯ ಮೊಂಡಾದ ಹಲ್ಲುಗಳನ್ನು ಹರಿತಗೊಳಿಸುವ ಸಲುವಾಗಿ ಯಾವ ಫೈಲ್ ಅನ್ನು ಬಳಸಲಾಗುತ್ತದೆ?

- A) Round file | ರೌಂಡ್ ಫೈಲ್ B) Square file | ಸ್ಕ್ವೇರ್ ಫೈಲ್
C) Triangular file | ತ್ರಿಕೋನ ಕಡತ D) Half round file | ಹಾಫ್ ಸುತ್ತಿನ ಫೈಲ್

10. Which Personal Protective Equipment (PPE) is used for the protection from fumes? | ಹೊಗೆಯಿಂದ ರಕ್ಷಿಸಲು ಯಾವ ವೈಯಕ್ತಿಕ ಸುರಕ್ಷಾ ಸಲಕರಣೆ (PPE) ಅನ್ನು ಬಳಸಲಾಗುತ್ತದೆ?

- A) Ear muff | ಇಯರ್ ಮಫ್ B) Goggles | ಕನ್ನಡಕಗಳು
C) Apron | ಅಪ್ರಾನ್ D) Respirator | ರೆಸ್ಪಿರೇಟರ್

11. What immediate action should be taken to rescue the victim, if he is still in contact with the electrical power supply? | ವಿದ್ಯುತ್ ಪೂರೈಕೆಯೊಂದಿಗೆ ಸಂಪರ್ಕದಲ್ಲಿದ್ದರೆ, ಬಲಿಯಾದವರನ್ನು ರಕ್ಷಿಸಲು ತಕ್ಷಣವೇ ಯಾವ ಕ್ರಮ ಕೈಗೊಳ್ಳಬೇಕು?

- A) Call someone for helping to remove him from contact | ಸಂಪರ್ಕದಿಂದ ಅವರನ್ನು ತೆಗೆದುಹಾಕಲು ಸಹಾಯಕ್ಕಾಗಿ ಯಾರನ್ನಾದರೂ ಕರೆ ಮಾಡಿ
B) Inform your authority about this electric shock | ದೂರ ಇಡಿ
C) Break the contact by switching OFF the power supply | ವಿದ್ಯುತ್ ಸರಬರಾಜು ಅನ್ನು ಆಫ್ ಮಾಡುವುದರ ಮೂಲಕ ಸಂಪರ್ಕವನ್ನು ಮುರಿಯಿರಿ
D) Pull or push him from the contact by hand | ಕೈಯಿಂದ ಸಂಪರ್ಕದಿಂದ ಅವನನ್ನು ಎಳೆಯಿರಿ ಅಥವಾ ತಳ್ಳಿರಿ

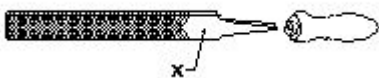
12. Which is the physical hazard? | ದೈಹಿಕ ಅಪಾಯ ಯಾವುದು?

- A) Vibration | ಕಂಪನ B) Smoking | ಧೂಮಪಾನ
C) Bacteria | ಬ್ಯಾಕ್ಟೀರಿಯಾ D) Corrosive | ನಾಶಕಾರಿ

13. What is the use of the pincer? | ಪಿನ್ಸರ್ ಬಳಕೆ ಏನು?

- A) Extracting the pin nails from the wood | ಮರದಿಂದ ಪಿನ್ ಉಗುರುಗಳನ್ನು ಹೊರತೆಗೆಯುವಿಕೆ
B) Holding small objects, where finger cannot reach | ಬೆರಳನ್ನು ತಲುಪಲು ಸಾಧ್ಯವಾಗದ ಸಣ್ಣ ವಸ್ತುಗಳನ್ನು ಹಿಡಿದಿಟ್ಟುಕೊಳ್ಳಿ
C) Cutting larger diameter of wires | ದೊಡ್ಡ ವ್ಯಾಸದ ತಂತಿಗಳನ್ನು ಕತ್ತರಿಸುವುದು
D) Twisting the flexible wires | ಹೊಂದಿಕೊಳ್ಳುವ ತಂತಿಗಳನ್ನು ತಿರುಗಿಸುವುದು

14. What is the name of the part marked 'X' as shown in the figure? | ಫೈಲ್ X ಎಂದು ಗುರುತಿಸಲಾದ ಭಾಗವನ್ನು ಹೆಸರಿಸಿ.



- A) Edge | ಎಡ್ಜ್ B) Point | ಪಾಯಿಂಟ್
C) Heel | ಹೀಲ್ D) Tang | ಟ್ಯಾಂಗ್

15. Which type of fire extinguisher is used for fire on electrical equipment? | ವಿದ್ಯುತ್ ಉಪಕರಣಗಳಲ್ಲಿ ಬೆಂಕಿಗೆ ಯಾವ ವಿಧದ

ಅಗ್ನಿಶಾಮಕವನ್ನು ಬಳಸಲಾಗುತ್ತದೆ?

- A) Gas cartridge water type | ಗ್ಯಾಸ್ ಕಾರ್ಟ್ರಿಡ್ಜ್ ನೀರಿನ ವಿಧ
B) Stored pressure water type | ಶೇಖರಿಸಲಾದ ಒತ್ತಡದ ನೀರಿನ ಪ್ರಕಾರ
C) Halon type | ಹ್ಯಾಲಾನ್ ಟೈಪ್ D) Foam type | ಫೋಮ್ ಪ್ರಕಾರ

16. Which type of occupational health hazard is cause for infection due to bacteria? | ಯಾವ ರೀತಿಯ ಔದ್ಯೋಗಿಕ ಆರೋಗ್ಯದ ಅಪಾಯವು ಬ್ಯಾಕ್ಟೀರಿಯಾದ ಸೋಂಕಿನಿಂದ ಉಂಟಾಗುತ್ತದೆ?

- A) Biological hazard | ಜೈವಿಕ ಅಪಾಯ B) Psychological hazard | ಮಾನಸಿಕ ಅಪಾಯ
C) Physiological hazard | ದೈಹಿಕ ಅಪಾಯ D) Electrical hazard | ವಿದ್ಯುತ್ ಅಪಾಯ

17. Which condition of the victim is referred as COMA stage? | ಬಲಿಯಾದ ಯಾವ ಸ್ಥಿತಿಯನ್ನು ಕಾಮಾ ಹಂತ ಎಂದು ಕರೆಯಲಾಗುತ್ತದೆ?

- A) Breathing and respond to calls | ಉಸಿರಾಟ ಮತ್ತು ಕರೆಗಳಿಗೆ ಪ್ರತಿಕ್ರಿಯಿಸಿ
B) Unconscious but can respond to calls | ಅಜ್ಞಾತ ಆದರೆ ಕರೆಗಳಿಗೆ ಪ್ರತಿಕ್ರಿಯಿಸಬಹುದು
C) Conscious but cannot respond to calls | ಜಾಗೃತ ಆದರೆ ಕರೆಗಳಿಗೆ ಪ್ರತಿಕ್ರಿಯಿಸಲು ಸಾಧ್ಯವಿಲ್ಲ
D) Lie totally senseless and do not respond to calls | ಸುಳ್ಳು ಸಂಪೂರ್ಣವಾಗಿ ಮೂರ್ಖತನವಿಲ್ಲ ಮತ್ತು ಕರೆಗಳಿಗೆ ಪ್ರತಿಕ್ರಿಯಿಸಬೇಡಿ

18. Which step of the 5s-concept refers "Standardization"? | 5s ನೇ-ಪರಿಕಲ್ಪನೆಯ ಯಾವ ಹಂತವು ಪ್ರಮಾಣೀಕರಣ ಯನ್ನು ಸೂಚಿಸುತ್ತದೆ?

- A) Step - 2 B) Step - 4
C) Step - 1 D) Step - 3

19. What is starving in extinguishing of fire? | ಬೆಂಕಿಯನ್ನು ಆವರಿಸುವಲ್ಲಿ ಸ್ವಾರ್ಥಿ ಎಂದೇ ಏನು ಇದೆ?

- A) Using water to cool the fire | ಬೆಂಕಿಯನ್ನು ತಣ್ಣಗಾಗಲು ನೀರನ್ನು ಬಳಸಿ
B) Adding fuel to the fire | ಬೆಂಕಿಗೆ ಇಂಧನವನ್ನು ಸೇರಿಸುವುದು
C) Preventing oxygen supply to the fire | ಬೆಂಕಿಗೆ ಆಮ್ಲಜನಕದ ಪೂರೈಕೆಯನ್ನು ತಡೆಗಟ್ಟುವುದು
D) Removing fuel element from the fire | ಬೆಂಕಿಯಿಂದ ಇಂಧನ ಅಂಶವನ್ನು ತೆಗೆದುಹಾಕಲಾಗುತ್ತದೆ

20. Which is the golden hour for the victim injured on head with risk of dying? | ಸಾಯುವ ಅಪಾಯದೊಂದಿಗೆ ತಲೆಯ ಮೇಲೆ ಗಾಯಗೊಂಡ ಬಲಿಷ್ಠಕ್ಕೆ ಯಾವ ಸುವರ್ಣ ಗಂಟೆಯಾಗಿದೆ?

- A) First 45 minutes B) First 15 minutes
C) First 30 minutes D) First 60 minutes

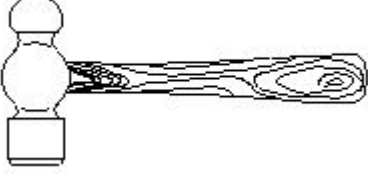
21. Which criteria must be satisfied for the quality of PPE? | PPE ಗಳ ಗುಣಮಟ್ಟಕ್ಕಾಗಿ ಯಾವ ಮಾನದಂಡಗಳನ್ನು ಪೂರೈಸಬೇಕು?

- A) Made by non standard material | ಪ್ರಮಾಣಿತವಲ್ಲದ ವಸ್ತುಗಳಿಂದ ತಯಾರಿಸಲಾಗುತ್ತದೆ
B) It should with stand the hazards | ಇದು ಅಪಾಯಗಳನ್ನು ತಡೆದುಕೊಳ್ಳಬೇಕು

C) It cannot be used for long period | ಇದನ್ನು ದೀರ್ಘಕಾಲದವರೆಗೆ ಬಳಸಲಾಗುವುದಿಲ್ಲ

D) Low cost | ಕಡಿಮೆ ವೆಚ್ಚ

22. What is the name of the tool as shown in the figure? | ಚಿತ್ರದಲ್ಲಿ ತೋರಿಸಿರುವಂತೆ ಉಪಕರಣದ ಹೆಸರೇನು?



A) Tack hammer | ಟ್ಯಾಕ್ ಸುತ್ತಿಗೆ B) Ball peen hammer | ಬಾಲ್ ಪೀನ್ ಸುತ್ತಿಗೆ

C) Claw hammer | ಕ್ಲಾ ಸುತ್ತಿಗೆ D) Cross peen hammer | ಕ್ರಾಸ್ ಪೀನ್ ಸುತ್ತಿಗೆ

23. What is the back ground colour of the warning signs in the safety sign category? | ಸುರಕ್ಷತಾ ಚಿಹ್ನೆಯ ವರ್ಗದಲ್ಲಿರುವ ಎಚ್ಚರಿಕೆ ಚಿಹ್ನೆಗಳ ಹಿಂದಿನ ನೆಲದ ಬಣ್ಣ ಯಾವುದು?

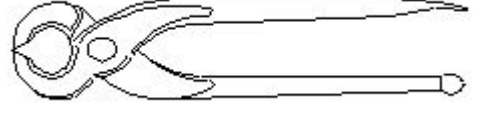
A) Green | ಹಸಿರು

B) Yellow | ಹಳದಿ

C) Blue | ನೀಲಿ

D) White | ಬಿಳಿ

24. What is the name of the tool as shown in the figure? | ಚಿತ್ರದಲ್ಲಿ ತೋರಿಸಿರುವಂತೆ ಸಾಧನದ ಹೆಸರೇನು?



A) Side cutter | ತಂತಿಗಳನ್ನು ಕಡಿಯುವುದು ಮತ್ತು ತಿರುಗಿಸುವುದು

C) Gimlet | ಬೋಲ್ ಮತ್ತು ಬೀಜಗಳನ್ನು ಬಿಡಿಬಿಡಿಯಾಗಿ ಬಿಗಿಗೊಳಿಸುವುದು

B) Pincer | ತಂತಿಗಳನ್ನು ಕತ್ತರಿಸುವುದು ಮತ್ತು ತಿರುಗಿಸುವುದು ಮರದಿಂದ ಉಗುರುಗಳನ್ನು ತೆಗೆಯುವುದು

D) Wire stripper | ಬಿಸಿ ಪದಾರ್ಥಗಳನ್ನು ಹಿಡಿದಿಟ್ಟುಕೊಳ್ಳುವುದು

25. Which disposal method of waste save lot of energy? | ತ್ಯಾಜ್ಯದ ವಿಲೇವಾರಿ ವಿಧಾನವು ಬಹಳಷ್ಟು ಶಕ್ತಿಯನ್ನು ಉಳಿಸುತ್ತದೆ?

A) Composting | ಸಂಯೋಜನೆ

B) Land fill | ಜಮೀನು ಭರ್ತಿ

C) Recycling | ಮರುಬಳಕೆ

D) Incineration | ಭಸ್ಮೀಕರಣ