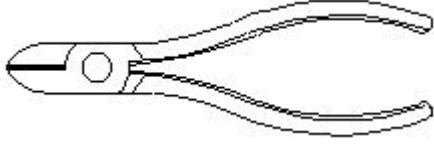


Student: ಕಿಶನ್

Score: 27/28 (96.43%)

Code: 2597

1. What is the name of the tool as shown in the figure? | ಚಿತ್ರದಲ್ಲಿ ತೋರಿಸಿರುವಂತೆ ಉಪಕರಣದ ಹೆಸರೇನು?



- A) Nose pliers | ನೋಸ್ ಇಕ್ಲಿಪ್ಸ್
B) Crimping tool | ಅಪರಾಧ ಸಾಧನ
C) Combination pliers | ಕಾಂಬಿನೇಶನ್ ತಂತಿಗಳು
D) Diagonal cutting pliers | ಕರ್ಣೀಯ ಕತ್ತರಿಸುವುದು ತಂತಿಗಳು (Correct)

2. Which is the golden hour for the victim injured on head with risk of dying? | ಸಾಯುವ ಅಪಾಯದೊಂದಿಗೆ ತಲೆಯ ಮೇಲೆ ಗಾಯಗೊಂಡ ಬಲಿಷ್ಠಕ್ಕೆ ಯಾವ ಸುವರ್ಣ ಗಂಟೆಯಾಗಿದೆ?

- A) First 15 minutes
B) First 30 minutes (Correct)
C) First 45 minutes
D) First 60 minutes

3. Which pliers is used for making the wire hooks and loops? | ವೈರ್ ಹೂಕುಗಳು ಮತ್ತು ಲೂಪ್‌ಗಳನ್ನು ತಯಾರಿಸಲು ಯಾವ ಪ್ಲಿಯರ್ ಅನ್ನು ಬಳಸಲಾಗುತ್ತದೆ?

- A) Flat nose pliers | ಫ್ಲಾಟ್ ನೋಸ್ ಪ್ಲಿಯರ್
B) Long nose pliers | ಲಾಂಗ್ ನೋಸ್ ಪ್ಲಿಯರ್
C) Round nose pliers | ರೌಂಡ್ ನೋಸ್ ಪ್ಲಿಯರ್ (Correct)
D) Diagonal cutting pliers | ಡಯಾಗ್ನಲ್ ಕಟಿಂಗ್ ಪ್ಲಿಯರ್

4. Which Personal Protective Equipment (PPE) is used for the protection from fumes? | ಹೊಗೆಯಿಂದ ರಕ್ಷಿಸಲು ಯಾವ ವೈಯಕ್ತಿಕ ಸುರಕ್ಷಾ ಸಲಕರಣೆ (PPE) ಅನ್ನು ಬಳಸಲಾಗುತ್ತದೆ?

- A) Apron | ಅಪ್ರಾನ್
B) Goggles | ಕನ್ನಡಕಗಳು
C) Ear muffle | ಇಯರ್ ಮಫ್
D) Respirator | ರೆಸ್ಪಿರೇಟರ್ (Correct)

5. What is the name of the safety sign as shown in the figure? | ಚಿತ್ರದಲ್ಲಿ ತೋರಿಸಿರುವಂತೆ ಸುರಕ್ಷತಾ ಚಿಹ್ನೆಯ ಹೆಸರೇನು?



- A) Warning sign | ಎಚ್ಚರಿಕೆ ಸಂಕೇತ
B) Mandatory sign | ಕಡ್ಡಾಯ ಚಿಹ್ನೆ

- C) Prohibition sign | ನಿಷೇಧ ಚಿಹ್ನೆ
D) Information sign | ಮಾಹಿತಿ ಚಿಹ್ನೆ (Correct)

6. Which type of occupational health hazard is cause for infection due to bacteria? | ಯಾವ ರೀತಿಯ ಔದ್ಯೋಗಿಕ ಆರೋಗ್ಯದ ಅಪಾಯವು ಬ್ಯಾಕ್ಟೀರಿಯಾದ ಸೋಂಕಿನಿಂದ ಉಂಟಾಗುತ್ತದೆ?

- A) Electrical hazard | ವಿದ್ಯುತ್ ಅಪಾಯ
B) Biological hazard | ಜೈವಿಕ ಅಪಾಯ (Correct)
C) Physiological hazard | ದೈಹಿಕ ಅಪಾಯ
D) Psychological hazard | ಮಾನಸಿಕ ಅಪಾಯ

7. What is the name of the drill bit as shown in the figure? | ಚಿತ್ರದಲ್ಲಿ ತೋರಿಸಿರುವಂತೆ ಡ್ರಿಲ್ ಬಿಟ್‌ನ ಹೆಸರೇನು?



- A) Flat drill bit | ಫ್ಲಾಟ್ ಡ್ರಿಲ್ ಬಿಟ್
B) Taper shank bit | ಟೆಪರ್ ಶ್ಯಾಂಕ್ ಬಿಟ್ (Correct)
C) Countersink bit | ಕೌಂಟರ್ ಸಿಂಕ್ ಬಿಟ್
D) Straight shank bit | ನೇರವಾಗಿ ಶ್ಯಾಂಕ್ ಬಿಟ್

8. Which step of the 5s-concept refers "Standardization"? | 5s ನೇ-ಪರಿಕಲ್ಪನೆಯ ಯಾವ ಹಂತವು ಪ್ರಮಾಣೀಕರಣ ಯನ್ನು ಸೂಚಿಸುತ್ತದೆ?

- A) Step - 1
B) Step - 2
C) Step - 3
D) Step - 4 (Correct)

9. Which is the correct sequence of operation to be performed while using the fire extinguisher? | ಅಗ್ನಿಶಾಮಕವನ್ನು ಬಳಸುವಾಗ ನಿರ್ವಹಿಸಬೇಕಾದ ಸರಿಯಾದ ಕಾರ್ಯಾಚರಣೆಯ ಅನುಕ್ರಮ ಯಾವುದು?

- A) Pull, Aim, Squeeze, Sweep | ಪುಲ್, ಏಮ್, ಸ್ಕ್ವೀಜ್, ಸ್ವೀಪ್ (Correct)
B) Pull, Aim, Sweep, Squeeze | ಪುಲ್, ಏಮ್, ಸ್ವೀಪ್, ಸ್ಕ್ವೀಜ್
C) Push, Arrange, Squeeze, Sweep | ಪುಷ್, ಆರೇಂಜಿಸು, ಸ್ಕ್ವೀಜ್, ಸ್ವೀಪ್
D) Push, Arrange, Sweep, Sequence | ಪುಷ್, ಆರೇಂಜಿಸು, ಸ್ವೀಪ್, ಸೀಕ್ವೆನ್ಸ್

10. Which type of fire extinguisher is used for fire on electrical equipment? | ವಿದ್ಯುತ್ ಉಪಕರಣಗಳಲ್ಲಿ ಬೆಂಕಿಗೆ ಯಾವ ವಿಧದ ಅಗ್ನಿಶಾಮಕವನ್ನು ಬಳಸಲಾಗುತ್ತದೆ?


A) Halon type | ಹ್ಯಾಲಾನ್
ಟೈಪ್ (Correct)

B) Foam type | ಫೋಮ್ ಪ್ರಕಾರ

C) Gas cartridge water type |
ಗ್ಯಾಸ್ ಕಾರ್ಟ್ರಿಜ್ ನೀರಿನ ವಿಧ

D) Stored pressure water
type | ಶೇಖರಿಸಲಾದ ಒತ್ತಡದ
ನೀರಿನ ಪ್ರಕಾರ

11. What is the name of the file as shown in the figure? |
ಚಿತ್ರದಲ್ಲಿ ತೋರಿಸಿರುವಂತೆ ಫೈಲ್‌ನ ಹೆಸರೇನು?




A) Rasp cut file | ರಾಸ್ಪ್ ಕಟ್
ಫೈಲ್ (Correct)

B) Single cut file | ಒಂದೇ ಕಟ್
ಫೈಲ್

C) Double cut file | ಡಬಲ್ ಕಟ್
ಫೈಲ್

D) Curved cut file | ಬಾಗಿದ
ಕಟ್ ಫೈಲ್

12. What is the name of the hammer as shown in the figure? |
ಚಿತ್ರದಲ್ಲಿ ತೋರಿಸಿರುವಂತೆ ಸುತ್ತಿಗೆಯ ಹೆಸರೇನು?



A) Claw hammer | ಕ್ಲಾ ಸುತ್ತಿಗೆ
(Correct)

B) Ball peen hammer | ಬಾಲ್
ಪೆನ್ ಸುತ್ತಿಗೆ

C) Cross peen hammer | ಕ್ರಾಸ್
ಪೆನ್ ಸುತ್ತಿಗೆ

D) Straight peen hammer |
ಸ್ಟ್ರೈಟ್ ಪೆನ್ ಸುತ್ತಿಗೆ

13. Which disposal method of waste save lot of energy? |
ತ್ಯಾಜ್ಯದ ವಿಲೇವಾರಿ ವಿಧಾನವು ಬಹಳಷ್ಟು ಶಕ್ತಿಯನ್ನು ಉಳಿಸುತ್ತದೆ?

A) Land fill | ಜಮೀನು ಭರ್ತಿ

B) Recycling | ಮರುಬಳಕೆ
(Correct)

C) Incineration | ಭಸ್ಮೀಕರಣ

D) Composting | ಸಂಯೋಜನೆ

14. What is the name of the tool as shown in the figure? |
ಚಿತ್ರದಲ್ಲಿ ತೋರಿಸಿರುವಂತೆ ಸಾಧನದ ಹೆಸರೇನು?



A) Wire stripper | ಬಿಸಿ
ಪದಾರ್ಥಗಳನ್ನು
ಹಿಡಿದಿಟ್ಟುಕೊಳ್ಳುವುದು

B) Side cutter | ತಂತಿಗಳನ್ನು
ಕಡಿಯುವುದು ಮತ್ತು
ತಿರುಗಿಸುವುದು

C) Pincer | ತಂತಿಗಳನ್ನು
ಕತ್ತರಿಸುವುದು ಮತ್ತು ತಿರುಗಿಸುವುದು
ಮರದಿಂದ ಉಗುರುಗಳನ್ನು
ತೆಗೆಯುವುದು (Correct)

D) Gimlet | ಬೋಲ್ ಮತ್ತು
ಬೀಜಗಳನ್ನು ಬಿಡಿಬಿಡಿಯಾಗಿ
ಬಿಗಿಗೊಳಿಸುವುದು

15. What immediate action should be taken to rescue the
victim, if he is still in contact with the electrical power supply?
| ವಿದ್ಯುತ್ ಪೂರೈಕೆಯೊಂದಿಗೆ ಸಂಪರ್ಕದಲ್ಲಿದ್ದರೆ, ಬಲಿಯಾದವರನ್ನು ರಕ್ಷಿಸಲು
ತಕ್ಷಣವೇ ಯಾವ ಕ್ರಮ ಕೈಗೊಳ್ಳಬೇಕು?

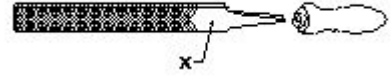
A) Pull or push him from the
contact by hand | ಕೈಯಿಂದ
ಸಂಪರ್ಕದಿಂದ ಅವನನ್ನು ಎಳೆಯಿರಿ
ಅಥವಾ ತಳ್ಳಿರಿ

B) Inform your authority
about this electric shock |
ದೂರ ಇಡಿ

C) Call someone for helping
to remove him from contact |
ಸಂಪರ್ಕದಿಂದ ಅವನನ್ನು
ತೆಗೆದುಹಾಕಲು ಸಹಾಯಕ್ಕಾಗಿ
ಯಾರನ್ನಾದರೂ ಕರೆ ಮಾಡಿ

D) Break the contact by
switching OFF the power
supply | ವಿದ್ಯುತ್ ಸರಬರಾಜು
ಅನ್ನು ಆಫ್ ಮಾಡುವುದರ ಮೂಲಕ
ಸಂಪರ್ಕವನ್ನು ಮುರಿಯಿರಿ
(Correct)

16. What is the name of the part marked 'X' as shown in the
figure? | ಫೈಲ್‌ನ X ಒಂದು ಗುರುತಿಸಲಾದ ಭಾಗವನ್ನು ಹೆಸರಿಸಿ.



A) Edge | ಎಡ್ಜ್

B) Heel | ಹೀಲ್ (Correct)

C) Tang | ಟ್ಯಾಂಗ್

D) Point | ಪಾಯಿಂಟ್

17. What is the use of the pincer? | ಪಿನ್ಸರ್ ಬಳಕೆ ಏನು?

A) Twisting the flexible wires
| ಹೊಂದಿಕೊಳ್ಳುವ ತಂತಿಗಳನ್ನು
ತಿರುಗಿಸುವುದು

B) Cutting larger diameter of
wires | ದೊಡ್ಡ ವ್ಯಾಸದ ತಂತಿಗಳನ್ನು
ಕತ್ತರಿಸುವುದು

C) Extracting the pin nails
from the wood | ಮರದಿಂದ
ಪಿನ್ ಉಗುರುಗಳನ್ನು
ಹೊರತೆಗೆಯುವಿಕೆ (Correct)

D) Holding small objects,
where finger cannot reach |
ಬೆರಳನ್ನು ತಲುಪಲು ಸಾಧ್ಯವಾಗದ
ಸಣ್ಣ ವಸ್ತುಗಳನ್ನು ಹಿಡಿದಿಟ್ಟುಕೊಳ್ಳಿ

18. What is starving in extinguishing of fire? | ಬೆಂಕಿಯನ್ನು
ಆವರಿಸುವಲ್ಲಿ ಸ್ವಾವಿಧಿಯ ಏನು ಇದೆ?

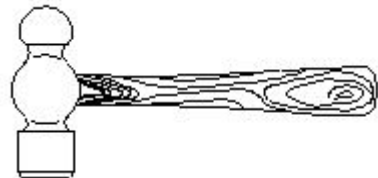
A) Adding fuel to the fire |
ಬೆಂಕಿಗೆ ಇಂಧನವನ್ನು ಸೇರಿಸುವುದು

B) Using water to cool the
fire | ಬೆಂಕಿಯನ್ನು ತಣ್ಣಗಾಗಲು
ನೀರನ್ನು ಬಳಸಿ

C) Removing fuel element
from the fire | ಬೆಂಕಿಯಿಂದ
ಇಂಧನ ಅಂಶವನ್ನು
ತೆಗೆದುಹಾಕಲಾಗುತ್ತಿದೆ (Correct)

D) Preventing oxygen supply
to the fire | ಬೆಂಕಿಗೆ ಆಮ್ಲಜನಕದ
ಪೂರೈಕೆಯನ್ನು ತಡೆಗಟ್ಟುವುದು

19. What is the name of the tool as shown in the figure? |
ಚಿತ್ರದಲ್ಲಿ ತೋರಿಸಿರುವಂತೆ ಉಪಕರಣದ ಹೆಸರೇನು?



A) Claw hammer | ಕ್ಲಾ ಸುತ್ತಿಗೆ

B) Tack hammer | ಟ್ಯಾಕ್ ಸುತ್ತಿಗೆ

C) Cross pein hammer | ಕ್ರಾಸ್ ಪೆನ್ ಸುತ್ತಿಗೆ
D) Ball pein hammer | ಬಾಲ್ ಪೀನ್ ಸುತ್ತಿಗೆ (Correct)

C) Breathing and respond to calls | ಉಸಿರಾಟ ಮತ್ತು ಕರೆಗಳಿಗೆ ಪ್ರತಿಕ್ರಿಯಿಸಿ

D) Lie totally senseless and do not respond to calls | ಸುಳ್ಳು ಸಂಪೂರ್ಣವಾಗಿ ಮೂರ್ಖತನವಿಲ್ಲ ಮತ್ತು ಕರೆಗಳಿಗೆ ಪ್ರತಿಕ್ರಿಯಿಸಬೇಡಿ (Correct)

20. What is smothering in extinguishing of fire? | ಬೆಂಕಿಯನ್ನು ಕಡಿಯುವಲ್ಲಿ ಏನಾಗುತ್ತಿದೆ?

A) Adding the fuel element to the fire | ಇಂಧನ ಅಂಶವನ್ನು ಬೆಂಕಿಯಲ್ಲಿ ಸೇರಿಸುವುದು

B) Removing the fuel element from the fire | ಬೆಂಕಿಯಿಂದ ಇಂಧನ ಅಂಶವನ್ನು ತೆಗೆದುಹಾಕಲಾಗುತ್ತಿದೆ

C) Using of water to lower the temperature | ತಾಪಮಾನವನ್ನು ಕಡಿಮೆ ಮಾಡಲು ನೀರಿನ ಬಳಕೆ

D) Isolating the fire from the supply of oxygen | ಆಮ್ಲಜನಕದ ಪೂರೈಕೆಯಿಂದ ಬೆಂಕಿಯನ್ನು ಪ್ರತ್ಯೇಕಿಸುವುದು (Correct)

21. What is smothering in extinguishing of fire? | ಬೆಂಕಿಯನ್ನು ಕಡಿಯುವಲ್ಲಿ ಏನಾಗುತ್ತಿದೆ?

A) Adding the fuel element to the fire | ಇಂಧನ ಅಂಶವನ್ನು ಬೆಂಕಿಯಲ್ಲಿ ಸೇರಿಸುವುದು

B) Removing the fuel element from the fire | ಬೆಂಕಿಯಿಂದ ಇಂಧನ ಅಂಶವನ್ನು ತೆಗೆದುಹಾಕಲಾಗುತ್ತಿದೆ

C) Using of water to lower the temperature | ತಾಪಮಾನವನ್ನು ಕಡಿಮೆ ಮಾಡಲು ನೀರಿನ ಬಳಕೆ

D) Isolating the fire from the supply of oxygen | ಆಮ್ಲಜನಕದ ಪೂರೈಕೆಯಿಂದ ಬೆಂಕಿಯನ್ನು ಪ್ರತ್ಯೇಕಿಸುವುದು (Correct)

22. Which criteria must be satisfied for the quality of PPE s? | PPE ಗಳ ಗುಣಮಟ್ಟಕ್ಕಾಗಿ ಯಾವ ಮಾನದಂಡಗಳನ್ನು ಪೂರೈಸಬೇಕು?

A) It should with stand the hazards | ಇದು ಅಪಾಯಗಳನ್ನು ತಡೆದುಕೊಳ್ಳಬೇಕು (Correct)

B) It cannot be used for long period | ಇದನ್ನು ದೀರ್ಘಕಾಲದವರೆಗೆ ಬಳಸಲಾಗುವುದಿಲ್ಲ

C) Made by non standard material | ಪ್ರಮಾಣಿತವಲ್ಲದ ವಸ್ತುಗಳಿಂದ ತಯಾರಿಸಲಾಗುತ್ತದೆ

D) Low cost | ಕಡಿಮೆ ವೆಚ್ಚ

23. Which condition of the victim is referred as COMA stage? | ಬಲಿಯಾದ ಯಾವ ಸ್ಥಿತಿಯನ್ನು ಕಾಮಾ ಹಂತ ಎಂದು ಕರೆಯಲಾಗುತ್ತದೆ?

A) Unconscious but can respond to calls | ಅಜ್ಞಾತ ಆದರೆ ಕರೆಗಳಿಗೆ ಪ್ರತಿಕ್ರಿಯಿಸಬಹುದು

B) Conscious but cannot respond to calls | ಜಾಗೃತ ಆದರೆ ಕರೆಗಳಿಗೆ ಪ್ರತಿಕ್ರಿಯಿಸಲು ಸಾಧ್ಯವಿಲ್ಲ

24. Which artificial respiration method is to be performed to the victim with injuries on the chest and belly? | ಎದೆ ಮತ್ತು ಹೊಟ್ಟೆಯ ಮೇಲೆ ಗಾಯಗಳಿಂದಾಗಿ ಬಲಿಪಶುಕ್ಕೆ ಯಾವ ಕೃತಕ ಉಸಿರಾಟ ವಿಧಾನವನ್ನು ನಿರ್ವಹಿಸಬೇಕು?

A) Schafer's method | ಸ್ಕಾಫರ್ ವಿಧಾನ

B) Mouth to mouth method | ಬಾಯಿಯಿಂದ ಬಾಯಿಗೆ ವಿಧಾನ (Correct)

C) Holger - Nelson's back pressure method | ಹೋಲ್ಗರ್ - ನೆಲ್ಸನ್ ಬೆನ್ನು ಒತ್ತಡದ ವಿಧಾನ

D) Nelson's arm-lift back pressure method | ನೆಲ್ಸನ್ ಆರ್ಮ್-ಲಿಫ್ಟ್ ಬ್ಯಾಕ್ ಒತ್ತಡದ ವಿಧಾನ

25. Which file is used for sharpening the blunt teeth of a tenon saw? | ಒಂದು ಹತ್ತಿಯ ಮೊಂಡಾದ ಹಲ್ಲುಗಳನ್ನು ಹರಿತಗೊಳಿಸುವ ಸಲುವಾಗಿ ಯಾವ ಫೈಲ್ ಅನ್ನು ಬಳಸಲಾಗುತ್ತದೆ?

A) Square file | ಸ್ಕ್ವೇರ್ ಫೈಲ್

B) Round file | ರೌಂಡ್ ಫೈಲ್

C) Triangular file | ತ್ರಿಕೋನ ಕಡತ (Correct)

D) Half round file | ಹಾಫ್ ಸುತ್ತಿನ ಫೈಲ್

26. Which is the waste disposal method that produces the heat? | ಶಾವವನ್ನು ಉತ್ಪತ್ತಿ ಮಾಡುವ ತ್ಯಾಜ್ಯ ವಿಲೇವಾರಿ ವಿಧಾನ ಯಾವುದು?

A) Landfill | ಲ್ಯಾಂಡ್ಫಿಲ್

B) Composting | ಮಿಶ್ರಗೊಬ್ಬರ

C) Incineration | ಭಸ್ಮೀಕರಣ (Correct)

D) Waste compaction | ತ್ಯಾಜ್ಯ ಸಂಕೋಚನ

27. Which is the physical hazard? | ದೈಹಿಕ ಅಪಾಯ ಯಾವುದು?

A) Smoking | ಧೂಮಪಾನ

B) Vibration | ಕಂಪನ (Correct)

C) Corrosive | ನಾಶಕಾರಿ

D) Bacteria | ಬ್ಯಾಕ್ಟೀರಿಯಾ

28. What is the back ground colour of the warning signs in the safety sign category? | ಸುರಕ್ಷತಾ ಚಿಹ್ನೆಯ ವರ್ಗದಲ್ಲಿರುವ ಎಚ್ಚರಿಕೆ ಚಿಹ್ನೆಗಳ ಹಿಂದಿನ ನೆಲದ ಬಣ್ಣ ಯಾವುದು?

A) Blue | ನೀಲಿ

B) White | ಬಿಳಿ

C) Yellow | ಹಳದಿ

D) Green | ಹಸಿರು (Incorrect)