

January 2026

Electrician - First Year

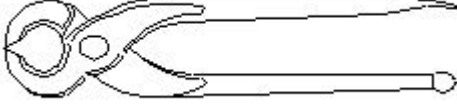
Answer Key

Duration: 30 Mins

Total Marks: 28

Q.ID: ITISKILL1194UE

1. What is the name of the tool as shown in the figure? | ಚಿತ್ರದಲ್ಲಿ ತೋರಿಸಿರುವಂತೆ ಸಾಧನದ ಹೆಸರೇನು?



A) Gimlet | ಬೋಲ್ ಮತ್ತು ಬೀಜಗಳನ್ನು ಬಿಡಿಬಿಡಿಯಾಗಿ ಬಿಗಿಗೊಳಿಸುವುದು

B) Side cutter | ತಂತಿಗಳನ್ನು ಕಡಿಯುವುದು ಮತ್ತು ತಿರುಗಿಸುವುದು

C) Wire stripper | ಬಿಸಿ ಪದಾರ್ಥಗಳನ್ನು ಹಿಡಿದಿಟ್ಟುಕೊಳ್ಳುವುದು

D) Pincer | ತಂತಿಗಳನ್ನು ಕತ್ತರಿಸುವುದು ಮತ್ತು ತಿರುಗಿಸುವುದು ಮರದಿಂದ ಉಗುರುಗಳನ್ನು ತೆಗೆಯುವುದು

Answer: D) Pincer | ತಂತಿಗಳನ್ನು ಕತ್ತರಿಸುವುದು ಮತ್ತು ತಿರುಗಿಸುವುದು ಮರದಿಂದ ಉಗುರುಗಳನ್ನು ತೆಗೆಯುವುದು

2. Which type of fire extinguisher is used for fire on electrical equipment? | ವಿದ್ಯುತ್ ಉಪಕರಣಗಳಲ್ಲಿ ಬೆಂಕಿಗೆ ಯಾವ ವಿಧದ ಅಗ್ನಿಶಾಮಕವನ್ನು ಬಳಸಲಾಗುತ್ತದೆ?

A) Halon type | ಹ್ಯಾಲಾನ್ ಟೈಪ್ type | ಶೇಖರಿಸಲಾದ ಒತ್ತಡದ ನೀರಿನ ಪ್ರಕಾರ

B) Stored pressure water type | ಶೇಖರಿಸಲಾದ ಒತ್ತಡದ ನೀರಿನ ಪ್ರಕಾರ

C) Foam type | ಫೋಮ್ ಪ್ರಕಾರ

D) Gas cartridge water type | ಗ್ಯಾಸ್ ಕಾರ್ಟ್ರಿಜ್ ನೀರಿನ ವಿಧ

Answer: A) Halon type | ಹ್ಯಾಲಾನ್ ಟೈಪ್

3. What immediate action should be taken to rescue the victim, if he is still in contact with the electrical power supply? | ವಿದ್ಯುತ್ ಪೂರೈಕೆಯೊಂದಿಗೆ ಸಂಪರ್ಕದಲ್ಲಿದ್ದರೆ, ಬಲಿಯಾದವರನ್ನು ರಕ್ಷಿಸಲು ತಕ್ಷಣವೇ ಯಾವ ಕ್ರಮ ಕೈಗೊಳ್ಳಬೇಕು?

A) Break the contact by switching OFF the power supply | ವಿದ್ಯುತ್ ಸರಬರಾಜು ಅನ್ನು ಆಫ್ ಮಾಡುವುದರ ಮೂಲಕ ಸಂಪರ್ಕವನ್ನು ಮುರಿಯಿರಿ

B) Call someone for helping to remove him from contact | ಸಂಪರ್ಕದಿಂದ ಅವರನ್ನು ತೆಗೆದುಹಾಕಲು ಸಹಾಯಕ್ಕಾಗಿ ಯಾರನ್ನಾದರೂ ಕರೆ ಮಾಡಿ

C) Inform your authority about this electric shock | ದೂರ ಇಡಿ

D) Pull or push him from the contact by hand | ಕೈಯಿಂದ ಸಂಪರ್ಕದಿಂದ ಅವನನ್ನು ಎಳೆಯಿರಿ ಅಥವಾ ತಳ್ಳಿರಿ

Answer: A) Break the contact by switching OFF the power supply | ವಿದ್ಯುತ್ ಸರಬರಾಜು ಅನ್ನು ಆಫ್ ಮಾಡುವುದರ ಮೂಲಕ ಸಂಪರ್ಕವನ್ನು ಮುರಿಯಿರಿ

4. What is the name of the tool as shown in the figure? | ಚಿತ್ರದಲ್ಲಿ ತೋರಿಸಿರುವಂತೆ ಉಪಕರಣದ ಹೆಸರೇನು?



A) Crimping tool | ಅಪರಾಧ ಸಾಧನ

B) Combination pliers | ಕಾಂಬಿನೇಷನ್ ತಂತಿಗಳು

C) Nose pliers | ನೋಸ್ ಇಕ್ಳಳ

D) Diagonal cutting pliers | ಕರ್ಣೀಯ ಕತ್ತರಿಸುವುದು ತಂತಿಗಳು

Answer: D) Diagonal cutting pliers | ಕರ್ಣೀಯ ಕತ್ತರಿಸುವುದು ತಂತಿಗಳು

5. Which type of occupational health hazard is cause for infection due to bacteria? | ಯಾವ ರೀತಿಯ ಔದ್ಯೋಗಿಕ ಆರೋಗ್ಯದ ಅಪಾಯವು ಬ್ಯಾಕ್ಟೀರಿಯಾದ ಸೋಂಕಿನಿಂದ ಉಂಟಾಗುತ್ತದೆ?

A) Physiological hazard | ದೈಹಿಕ ಅಪಾಯ

B) Psychological hazard | ಮಾನಸಿಕ ಅಪಾಯ

C) Biological hazard | ಜೈವಿಕ ಅಪಾಯ

D) Electrical hazard | ವಿದ್ಯುತ್ ಅಪಾಯ

Answer: C) Biological hazard | ಜೈವಿಕ ಅಪಾಯ

6. Which pliers is used for making the wire hooks and loops? | ವೈರ್ ಹೂಕುಗಳು ಮತ್ತು ಲೂಪ್‌ಗಳನ್ನು ತಯಾರಿಸಲು ಯಾವ ಪ್ಲಿಯರ್ಸ್ ಅನ್ನು ಬಳಸಲಾಗುತ್ತದೆ?

A) Flat nose pliers | ಫ್ಲಾಟ್ ನೋಸ್ ಪ್ಲಿಯರ್ಸ್

B) Long nose pliers | ಲಾಂಗ್ ನೋಸ್ ಪ್ಲಿಯರ್ಸ್

C) Diagonal cutting pliers | ಡಯಾಗನಲ್ ಕಟಿಂಗ್ ಪ್ಲಿಯರ್ಸ್

D) Round nose pliers | ರೌಂಡ್ ನೋಸ್ ಪ್ಲಿಯರ್ಸ್

Answer: D) Round nose pliers | ರೌಂಡ್ ನೋಸ್ ಪ್ಲಿಯರ್ಸ್

7. Which Personal Protective Equipment (PPE) is used for the protection from fumes? | ಹೊಗೆಯಿಂದ ರಕ್ಷಿಸಲು ಯಾವ ವೈಯಕ್ತಿಕ ಸುರಕ್ಷಾ ಸಲಕರಣೆ (PPE) ಅನ್ನು ಬಳಸಲಾಗುತ್ತದೆ?

A) Ear muff | ಇಯರ್ ಮಫ್

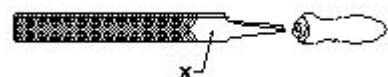
B) Goggles | ಕನ್ನಡಕಗಳು

C) Apron | ಅಪ್ರಾನ್

D) Respirator | ರೆಸ್ಪಿರೇಟರ್

Answer: D) Respirator | ರೆಸ್ಪಿರೇಟರ್

8. What is the name of the part marked 'X' as shown in the figure? | ಫೈಲ್ X ಒಂದು ಗುರುತಿಸಲಾದ ಭಾಗವನ್ನು ಹೆಸರಿಸಿ.



A) Tang | ಟ್ಯಾಂಗ್

B) Edge | ಎಡ್ಜ್

C) Heel | ಹೀಲ್

D) Point | ಪಾಯಿಂಟ್

Answer: C) Heel | ಹೀಲ್

9. What is starving in extinguishing of fire? | ಬೆಂಕಿಯನ್ನು ಆವರಿಸುವಲ್ಲಿ ಸಾವ್ವಿಫಿಯದ ಏನು ಇದೆ?

A) Using water to cool the fire | ಬೆಂಕಿಯನ್ನು ತಣ್ಣಗಾಗಲು ನೀರನ್ನು ಬಳಸಿ

B) Adding fuel to the fire | ಬೆಂಕಿಗೆ ಇಂಧನವನ್ನು ಸೇರಿಸುವುದು

C) Removing fuel element from the fire | ಬೆಂಕಿಯಿಂದ ಇಂಧನ ಅಂಶವನ್ನು ತೆಗೆದುಹಾಕಲಾಗುತ್ತಿದೆ

D) Preventing oxygen supply to the fire | ಬೆಂಕಿಗೆ ಆಮ್ಲಜನಕದ ಪೂರೈಕೆಯನ್ನು ತಡೆಗಟ್ಟುವುದು

Answer: C) Removing fuel element from the fire | ಬೆಂಕಿಯಿಂದ ಇಂಧನ ಅಂಶವನ್ನು ತೆಗೆದುಹಾಕಲಾಗುತ್ತಿದೆ

10. Which step of the 5s-concept refers "Standardization"? | 5s ನೇ-ಪರಿಕಲ್ಪನೆಯ ಯಾವ ಹಂತವು ಪ್ರಮಾಣೀಕರಣ ಯನ್ನು ಸೂಚಿಸುತ್ತದೆ?

A) Step - 3

B) Step - 4

C) Step - 1

D) Step - 2

Answer: B) Step - 4

11. What is smothering in extinguishing of fire? | ಬೆಂಕಿಯನ್ನು ಕಡಿಯುವಲ್ಲಿ ಏನಾಗುತ್ತಿದೆ?

A) Adding the fuel element to the fire | ಇಂಧನ ಅಂಶವನ್ನು ಬೆಂಕಿಯಲ್ಲಿ ಸೇರಿಸುವುದು

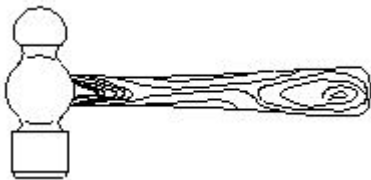
B) Removing the fuel element from the fire | ಬೆಂಕಿಯಿಂದ ಇಂಧನ ಅಂಶವನ್ನು ತೆಗೆದುಹಾಕಲಾಗುತ್ತಿದೆ

C) Isolating the fire from the supply of oxygen | ಆಮ್ಲಜನಕದ ಪೂರೈಕೆಯಿಂದ ಬೆಂಕಿಯನ್ನು ಪ್ರತ್ಯೇಕಿಸುವುದು

D) Using of water to lower the temperature | ತಾಪಮಾನವನ್ನು ಕಡಿಮೆ ಮಾಡಲು ನೀರಿನ ಬಳಕೆ

Answer: C) Isolating the fire from the supply of oxygen | ಆಮ್ಲಜನಕದ ಪೂರೈಕೆಯಿಂದ ಬೆಂಕಿಯನ್ನು ಪ್ರತ್ಯೇಕಿಸುವುದು

12. What is the name of the tool as shown in the figure? | ಚಿತ್ರದಲ್ಲಿ ತೋರಿಸಿರುವಂತೆ ಉಪಕರಣದ ಹೆಸರೇನು?



A) Ball peen hammer | ಬಾಲ್ ಪೀನ್ ಸುತ್ತಿಗೆ

B) Tack hammer | ಟ್ಯಾಕ್ ಸುತ್ತಿಗೆ

C) Claw hammer | ಕ್ಲಾ ಸುತ್ತಿಗೆ

D) Cross peen hammer | ಕ್ರಾಸ್ ಪೀನ್ ಸುತ್ತಿಗೆ

Answer: A) Ball peen hammer | ಬಾಲ್ ಪೀನ್ ಸುತ್ತಿಗೆ

13. What is the name of the file as shown in the figure? | ಚಿತ್ರದಲ್ಲಿ ತೋರಿಸಿರುವಂತೆ ಫೈಲ್‌ನ ಹೆಸರೇನು?



A) Double cut file | ಡಬಲ್ ಕಟ್ ಫೈಲ್

B) Single cut file | ಒಂದೇ ಕಟ್ ಫೈಲ್

C) Curved cut file | ಬಾಗಿದ ಕಟ್ ಫೈಲ್

D) Rasp cut file | ರಾಸ್ಪ್ ಕಟ್ ಫೈಲ್

Answer: D) Rasp cut file | ರಾಸ್ಪ್ ಕಟ್ ಫೈಲ್

14. Which is the waste disposal method that produces the heat? | ಶಾಖವನ್ನು ಉತ್ಪತ್ತಿ ಮಾಡುವ ತ್ಯಾಜ್ಯ ವಿಲೇವಾರಿ ವಿಧಾನ ಯಾವುದು?

A) Waste compaction | ತ್ಯಾಜ್ಯ ಸಂಕೋಚನ

B) Composting | ಮಿಶ್ರಗೊಬ್ಬರ

C) Incineration | ಭಸ್ಮೀಕರಣ

D) Landfill | ಲ್ಯಾಂಡ್‌ಫಿಲ್

Answer: C) Incineration | ಭಸ್ಮೀಕರಣ

15. What is the back ground colour of the warning signs in the safety sign category? | ಸುರಕ್ಷತಾ ಚಿಹ್ನೆಯ ವರ್ಗದಲ್ಲಿರುವ ಎಚ್ಚರಿಕೆ ಚಿಹ್ನೆಗಳ ಹಿಂದಿನ ನೆಲದ ಬಣ್ಣ ಯಾವುದು?

A) Yellow | ಹಳದಿ

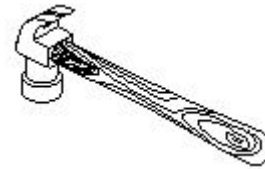
B) White | ಬಿಳಿ

C) Blue | ನೀಲಿ

D) Green | ಹಸಿರು

Answer: A) Yellow | ಹಳದಿ

16. What is the name of the hammer as shown in the figure? | ಚಿತ್ರದಲ್ಲಿ ತೋರಿಸಿರುವಂತೆ ಸುತ್ತಿಗೆಯ ಹೆಸರೇನು?



A) Ball peen hammer | ಬಾಲ್ ಪೀನ್ ಸುತ್ತಿಗೆ

B) Claw hammer | ಕ್ಲಾ ಸುತ್ತಿಗೆ

C) Cross peen hammer | ಕ್ರಾಸ್ ಪೀನ್ ಸುತ್ತಿಗೆ

D) Straight peen hammer | ಸ್ಟ್ರೈಟ್ ಪೀನ್ ಸುತ್ತಿಗೆ

Answer: B) Claw hammer | ಕ್ಲಾ ಸುತ್ತಿಗೆ

17. What is the name of the safety sign as shown in the figure? | ಚಿತ್ರದಲ್ಲಿ ತೋರಿಸಿರುವಂತೆ ಸುರಕ್ಷತಾ ಚಿಹ್ನೆಯ ಹೆಸರೇನು?



A) Information sign | ಮಾಹಿತಿ ಚಿಹ್ನೆ

B) Mandatory sign | ಕಡ್ಡಾಯ ಚಿಹ್ನೆ

C) Prohibition sign | ನಿಷೇಧ ಚಿಹ್ನೆ

D) Warning sign | ಎಚ್ಚರಿಕೆ ಸಂಕೇತ

Answer: B) Mandatory sign | ಕಡ್ಡಾಯ ಚಿಹ್ನೆ

18. Which is the physical hazard? | ದೈಹಿಕ ಅಪಾಯ ಯಾವುದು?

- A) Vibration | ಕಂಪನ
B) Bacteria | ಬ್ಯಾಕ್ಟೀರಿಯಾ
C) Smoking | ಧೂಮಪಾನ
D) Corrosive | ನಾಶಕಾರಿ

Answer: A) Vibration | ಕಂಪನ

19. Which condition of the victim is referred as COMA stage? | ಬಲಿಯಾದ ಯಾವ ಸ್ಥಿತಿಯನ್ನು ಕಾಮಾ ಹಂತ ಎಂದು ಕರೆಯಲಾಗುತ್ತದೆ?

- A) Breathing and respond to calls | ಉಸಿರಾಟ ಮತ್ತು ಕರೆಗಳಿಗೆ ಪ್ರತಿಕ್ರಿಯಿಸಿ
B) Conscious but cannot respond to calls | ಜಾಗೃತ ಆದರೆ ಕರೆಗಳಿಗೆ ಪ್ರತಿಕ್ರಿಯಿಸಲು ಸಾಧ್ಯವಿಲ್ಲ
C) Unconscious but can respond to calls | ಅಜ್ಞಾತ ಆದರೆ ಕರೆಗಳಿಗೆ ಪ್ರತಿಕ್ರಿಯಿಸಬಹುದು
D) Lie totally senseless and do not respond to calls | ಸುಳ್ಳು ಸಂಪೂರ್ಣವಾಗಿ ಮೂರ್ಛಿತನವಿಲ್ಲ ಮತ್ತು ಕರೆಗಳಿಗೆ ಪ್ರತಿಕ್ರಿಯಿಸಬೇಡಿ

Answer: D) Lie totally senseless and do not respond to calls | ಸುಳ್ಳು ಸಂಪೂರ್ಣವಾಗಿ ಮೂರ್ಛಿತನವಿಲ್ಲ ಮತ್ತು ಕರೆಗಳಿಗೆ ಪ್ರತಿಕ್ರಿಯಿಸಬೇಡಿ

20. What is smothering in extinguishing of fire? | ಬೆಂಕಿಯನ್ನು ಕಡಿಯುವಲ್ಲಿ ಏನಾಗುತ್ತಿದೆ?

- A) Using of water to lower the temperature | ತಾಪಮಾನವನ್ನು ಕಡಿಮೆ ಮಾಡಲು ನೀರಿನ ಬಳಕೆ
B) Adding the fuel element to the fire | ಇಂಧನ ಅಂಶವನ್ನು ಬೆಂಕಿಯಲ್ಲಿ ಸೇರಿಸುವುದು
C) Removing the fuel element from the fire | ಬೆಂಕಿಯಿಂದ ಇಂಧನ ಅಂಶವನ್ನು ತೆಗೆದುಹಾಕಲಾಗುತ್ತಿದೆ
D) Isolating the fire from the supply of oxygen | ಆಮ್ಲಜನಕದ ಪೂರೈಕೆಯಿಂದ ಬೆಂಕಿಯನ್ನು ಪ್ರತ್ಯೇಕಿಸುವುದು

Answer: D) Isolating the fire from the supply of oxygen | ಆಮ್ಲಜನಕದ ಪೂರೈಕೆಯಿಂದ ಬೆಂಕಿಯನ್ನು ಪ್ರತ್ಯೇಕಿಸುವುದು

21. Which disposal method of waste save lot of energy? | ತ್ಯಾಜ್ಯದ ವಿಲೇವಾರಿ ವಿಧಾನವು ಬಹಳಷ್ಟು ಶಕ್ತಿಯನ್ನು ಉಳಿಸುತ್ತದೆ?

- A) Incineration | ಭಸ್ಮೀಕರಣ
B) Recycling | ಮರುಬಳಕೆ
C) Land fill | ಜಮೀನು ಭರ್ತಿ
D) Composting | ಸಂಯೋಜನೆ

Answer: B) Recycling | ಮರುಬಳಕೆ

22. Which criteria must be satisfied for the quality of PPE s? | PPE ಗಳ ಗುಣಮಟ್ಟಕ್ಕಾಗಿ ಯಾವ ಮಾನದಂಡಗಳನ್ನು ಪೂರೈಸಬೇಕು?

- A) Low cost | ಕಡಿಮೆ ವೆಚ್ಚ
B) Made by non standard material | ಪ್ರಮಾಣಿತವಲ್ಲದ ವಸ್ತುಗಳಿಂದ ತಯಾರಿಸಲಾಗುತ್ತದೆ
C) It cannot be used for long period | ಇದನ್ನು ದೀರ್ಘಕಾಲದವರೆಗೆ ಬಳಸಲಾಗುವುದಿಲ್ಲ
D) It should with stand the hazards | ಇದು ಅಪಾಯಗಳನ್ನು ತಡೆದುಕೊಳ್ಳಬೇಕು

Answer: D) It should with stand the hazards | ಇದು ಅಪಾಯಗಳನ್ನು ತಡೆದುಕೊಳ್ಳಬೇಕು

23. Which file is used for sharpening the blunt teeth of a tenon saw? | ಒಂದು ಹತ್ತಿಯ ಮೊಂಡಾದ ಹಲ್ಲುಗಳನ್ನು ಹರಿತಗೊಳಿಸುವ ಸಲುವಾಗಿ ಯಾವ ಫೈಲ್ ಅನ್ನು ಬಳಸಲಾಗುತ್ತದೆ?

- A) Triangular file | ತ್ರಿಕೋನ ಕಡತ
B) Round file | ರೌಂಡ್ ಫೈಲ್
C) Square file | ಸ್ಕ್ವೇರ್ ಫೈಲ್
D) Half round file | ಹಾಫ್ ಸುತ್ತಿನ ಫೈಲ್

Answer: A) Triangular file | ತ್ರಿಕೋನ ಕಡತ

24. What is the name of the drill bit as shown in the figure? | ಚಿತ್ರದಲ್ಲಿ ತೋರಿಸಿರುವಂತೆ ಡ್ರಿಲ್ ಬಿಟ್‌ನ ಹೆಸರೇನು?



- A) Straight shank bit | ನೇರವಾಗಿ ಶ್ಯಾಂಕ್ ಬಿಟ್
B) Flat drill bit | ಫ್ಲಾಟ್ ಡ್ರಿಲ್ ಬಿಟ್
C) Countersink bit | ಕೌಂಟರ್ ಸಿಂಕ್ ಬಿಟ್
D) Taper shank bit | ಟಿಪರ್ ಶ್ಯಾಂಕ್ ಬಿಟ್

Answer: D) Taper shank bit | ಟಿಪರ್ ಶ್ಯಾಂಕ್ ಬಿಟ್

25. Which artificial respiration method is to be performed to the victim with injuries on the chest and belly? | ಎದೆ ಮತ್ತು ಹೊಟ್ಟೆಯ ಮೇಲೆ ಗಾಯಗಳಿಂದಾಗಿ ಬಲಿಪಶುಕ್ಕೆ ಯಾವ ಕೃತಕ ಉಸಿರಾಟ ವಿಧಾನವನ್ನು ನಿರ್ವಹಿಸಬೇಕು?

- A) Mouth to mouth method | ಬಾಯಿಯಿಂದ ಬಾಯಿಗೆ ವಿಧಾನ
B) Nelson's arm-lift back pressure method | ನೆಲ್ಸನ್ ಆರ್ಮ್-ಲಿಫ್ಟ್ ಬ್ಯಾಕ್ ಒತ್ತಡದ ವಿಧಾನ
C) Holger - Nelson's back pressure method | ಹೋಲ್ಗರ್ - ನೆಲ್ಸನ್ ಬೆನ್ನು ಒತ್ತಡದ ವಿಧಾನ
D) Schafer's method | ಸ್ಕಾಫರ್ ವಿಧಾನ

Answer: A) Mouth to mouth method | ಬಾಯಿಯಿಂದ ಬಾಯಿಗೆ ವಿಧಾನ

26. What is the use of the pincer? | ಪಿನ್ಸರ್ ಬಳಕೆ ಏನು?

- A) Holding small objects, where finger cannot reach | ಬೆರಳನ್ನು ತಲುಪಲು ಸಾಧ್ಯವಾಗದ ಸಣ್ಣ ವಸ್ತುಗಳನ್ನು ಹಿಡಿದಿಟ್ಟುಕೊಳ್ಳಿ
B) Cutting larger diameter of wires | ದೊಡ್ಡ ವ್ಯಾಸದ ತಂತಿಗಳನ್ನು ಕತ್ತರಿಸುವುದು
C) Twisting the flexible wires | ಹೊಂದಿಕೊಳ್ಳುವ ತಂತಿಗಳನ್ನು ತಿರುಗಿಸುವುದು
D) Extracting the pin nails from the wood | ಮರದಿಂದ ಪಿನ್ ಉಗುರುಗಳನ್ನು ಹೊರತೆಗೆಯುವಿಕೆ

Answer: D) Extracting the pin nails from the wood | ಮರದಿಂದ ಪಿನ್ ಉಗುರುಗಳನ್ನು ಹೊರತೆಗೆಯುವಿಕೆ

27. Which is the correct sequence of operation to be performed while using the fire extinguisher? | ಅಗ್ನಿಶಾಮಕವನ್ನು ಬಳಸುವಾಗ ನಿರ್ವಹಿಸಬೇಕಾದ ಸರಿಯಾದ ಕಾರ್ಯಾಚರಣೆಯ ಅನುಕ್ರಮ ಯಾವುದು?

- A) Pull, Aim, Squeeze, Sweep | ಪುಲ್, ಏಮ್, ಸ್ಕ್ವೀಜ್, ಸ್ವೀಪ್
B) Push, Arrange, Squeeze, Sweep | ಪುಷ್, ಆರೇಂಜ್, ಸ್ಕ್ವೀಜ್, ಸ್ವೀಪ್

C) Pull, Aim, Sweep, Squeeze
| ಪುಲ್, ಏಮ್, ಸ್ವೀಪ್, ಸ್ಕ್ವೀಜ್

D) Push, Arrange, Sweep,
Sequence | ಪುಷ್, ಹೊಂದಿಸು,
ಸ್ವೀಪ್, ಸೀಕ್ವೆನ್ಸ್

Answer: A) Pull, Aim, Squeeze, Sweep | ಪುಲ್, ಏಮ್, ಸ್ವೀಜ್, ಸ್ವೀಪ್

28. Which is the golden hour for the victim injured on head

with risk of dying? | ಸಾಯುವ ಅಪಾಯದೊಂದಿಗೆ ತಲೆಯ ಮೇಲೆ
ಗಾಯಗೊಂಡ ಬಲಿಷ್ಠಕ್ಕೆ ಯಾವ ಸುವರ್ಣ ಗಂಟೆಯಾಗಿದೆ?

A) First 15 minutes

B) First 45 minutes

C) First 30 minutes

D) First 60 minutes

Answer: C) First 30 minutes