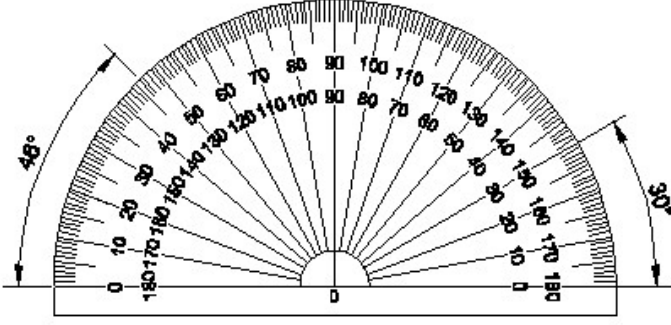


Duration: 30 Mins

Total Marks: 6

Q.ID: ITISKILL1050RS

1. Identify the name of instrument? | ಉಪಕರಣದ ಹೆಸರನ್ನು ಗುರುತಿಸುವುದೇ?



- A) Set square | ಸೆಟ್ ಸ್ಕ್ವೇರ್ B) T square | ಟಿ ಸ್ಕ್ವೇರ್
C) French curve | ಫ್ರೆಂಚ್ ಕರ್ವ್ D) Protractor | ಪ್ರೊಟ್ರಾಕ್ಟರ್

Answer: D) Protractor | ಪ್ರೊಟ್ರಾಕ್ಟರ್

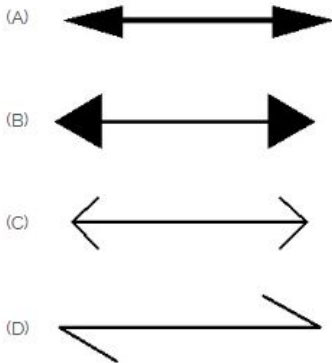
2. Identify the name of set square? | ಸೆಟ್ ಚೌಕದ ಹೆಸರನ್ನು ಗುರುತಿಸುವುದೇ?



- A) 30° set square | 30° ಸೆಟ್ ಸ್ಕ್ವೇರ್ B) 45° set square | 45° ಸೆಟ್ ಸ್ಕ್ವೇರ್
C) 15° set square | 15° ಸೆಟ್ ಸ್ಕ್ವೇರ್ D) 60° set square | 60° ಸೆಟ್ ಸ್ಕ್ವೇರ್

Answer: B) 45° set square | 45° ಸೆಟ್ ಸ್ಕ್ವೇರ್

3. Which arrow head is correct as per standard? | ಮಾನದಂಡದ ಪ್ರಕಾರ ಯಾವ ಬಾಣದ ಹೆಡ್ ಸರಿಯಾಗಿದೆ?



- A) C B) D
C) B D) A

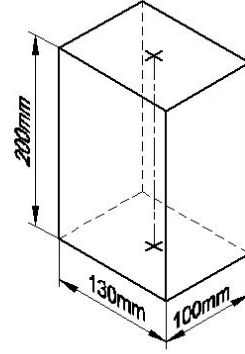
Answer: D) A

4. What is the trimmed size of A4 sheet? | A4 ಹಾಳೆಯ ಟ್ರಿಮ್ ಮಾಡಿದ ಗಾತ್ರ ಎಷ್ಟು?

- A) 148 x 210 B) 841 x 1189
C) 594 x 841 D) 210 x 297

Answer: D) 210 x 297

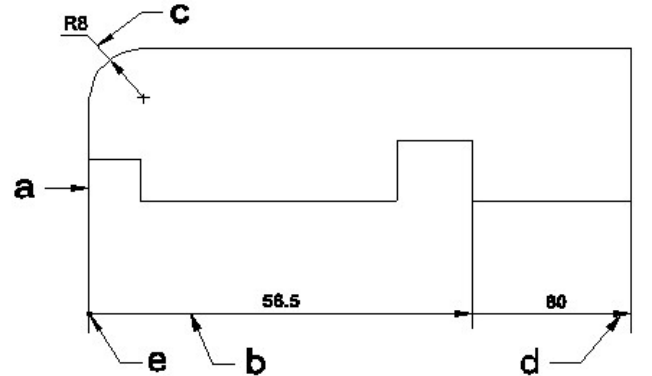
5. Identify the name of prism? | ಪ್ರಿಸ್ಮ್ ಹೆಸರನ್ನು ಗುರುತಿಸುವುದೇ?



- A) Triangular prism | ತ್ರಿಕೋನ ಪ್ರಿಸ್ಮ್ B) Square prism | ಚದರ ಪ್ರಿಸ್ಮ್
C) Hexagonal prism | ಷಡ್ಭುಜೀಯ ಪ್ರಿಸ್ಮ್ D) Rectangle prism | ಆಯತ ಪ್ರಿಸ್ಮ್

Answer: D) Rectangle prism | ಆಯತ ಪ್ರಿಸ್ಮ್

6. Identify the line 'a' or 'b'? | 'a' ಸಾಲುನ್ನು ಗುರುತಿಸುವುದೇ?



- A) Termination of dimension line | ಆಯಾಮ ರೇಖೆಯ ಮುಕ್ತಾಯ B) Leader line | ಲೀಡರ್ ಲೈನ್
C) Extension line | ಎಕ್ಸ್ಟೆನ್ಷನ್ ಲೈನ್ D) Dimension line | ಡೈಮೆನ್ಷನ್ ಲೈನ್

Answer: D) Dimension line | ಡೈಮೆನ್ಷನ್ ಲೈನ್