

Student: Preetham M K

Score: 46/46 (100.00%)

Code: 5469

1. Which type of soldering method is used for servicing and repairing of electronics items? | ಎಲೆಕ್ಟ್ರಾನಿಕ್ಸ್ ವಸ್ತುಗಳ ಸರ್ವಿಸಿಂಗ್ ಮತ್ತು ರಿಪೇರಿಂಗ್ ಯಾವ ರೀತಿಯ ಬೆಸುಗೆ ಹಾಕುವ ವಿಧಾನವನ್ನು ಬಳಸಲಾಗುತ್ತದೆ?

- A) Dip soldering | ಬೆಸುಗೆ ಬೆರೆಸುವುದು  
B) Soldering with a flame | ಲೇಪಿಯೊಂದಿಗೆ ಬೆಸುಗೆ ಹಾಕುವುದು

**C) Soldering with soldering gun | ಬೆಸುಗೆ ಹಾಕುವ ಗನ್ ಜೊತೆ ಬೆಸುಗೆ ಹಾಕುವುದು (Correct)**  
D) Machine soldering | ಮೆಷಿನ್ ಬೆಸುಗೆ ಹಾಕುವಿಕೆ

2. Which layer is provided above the metallic sheath in UG cable? | UG ಕೇಬಲ್‌ನಲ್ಲಿ ಮೆಟಾಲಿಕ್ ಕವಚದ ಮೇಲೆ ಯಾವ ಲೇಯರ್ ಅನ್ನು ಒದಗಿಸಲಾಗಿದೆ?

- A) Armouring | ಆರ್ಮೋರಿಂಗ್  
B) Bedding | ಬೆಡ್ಡಿಂಗ್ (Correct)  
C) Serving | ಸರ್ವಿಂಗ್  
D) Paper insulation | ಪೇಪರ್ ನಿರೋಧನ

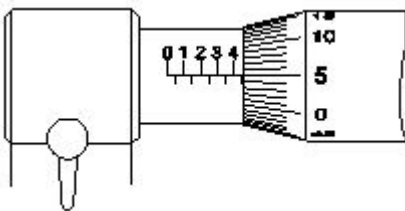
3. What is the purpose of 'serving' layer in underground cable? | ಭೂಗತ ಕೇಬಲ್‌ನಲ್ಲಿ ಸರ್ವಿಂಗ್ ಪದರದ ಉದ್ದೇಶವೇನು?

- A) Protect the cable from mechanical vibration | ಕೇಬಲ್ ಮೆಕ್ಯಾನಿಕಲ್ ವೈಬ್ರೇಷನ್ ಅನ್ನು ಯಾಂತ್ರಿಕ ಕಂಪನದಿಂದ ರಕ್ಷಿಸಿ  
B) Protect the cable from mechanical injury | ಯಾಂತ್ರಿಕ ಗಾಯದಿಂದ ಕೇಬಲ್ ರಕ್ಷಿಸಿ  
C) Protect metallic sheath against corrosion | ತುಕ್ಕು ವಿರುದ್ಧ ಲೋಹೀಯ ಪೊರೆ ರಕ್ಷಿಸಿ  
D) Protect armouring from atmospheric condition | ವಾತಾವರಣದ ಸ್ಥಿತಿಯಿಂದ ರಕ್ಷಿಸುವುದು (Correct)

4. Which material is used as conductors for wiring? | ವೈರಿಂಗ್ಗಾಗಿ ಯಾವ ಮೆಟೀರಿಯಲ್ ಅನ್ನು ಕಂಡಕ್ಟರ್‌ಗಳಾಗಿ ಬಳಸಲಾಗುತ್ತದೆ?

- A) Mild steel | ಮೃದು ಉಕ್ಕು  
B) Copper | ತಾಮ್ರ (Correct)  
C) Silver | ಬೆಳ್ಳಿ  
D) Galvanized iron | ಕಲಾಯಿ ಕಬ್ಬಿಣ

5. What is the reading of the micrometer as shown in the figure? | ಚಿತ್ರದಲ್ಲಿ ತೋರಿಸಿರುವಂತೆ ಮೈಕ್ರೋಮೀಟರ್ ರೀಡಿಂಗ್ ಏನು?



- A) 5.05 mm  
B) 5.00 mm  
C) 4.55 mm (Correct)  
D) 4.05 mm

6. What will happen to PVC insulation in cable carries excess current continuously for long period? | ಕೇಬಲ್‌ನಲ್ಲಿ ವಿವಿಧ ನಿರೋಧನಕ್ಕೆ ಏನಾಗುವುದು ದೀರ್ಘಾವಧಿಯವರೆಗೆ ನಿರಂತರ ಪ್ರವಾಹವನ್ನು ಸಾಗಿಸುತ್ತದೆ?

- A) Voltage drop increases | ವೋಲ್ಟೇಜ್ ಡ್ರಾಪ್ ಹೆಚ್ಚಾಗುತ್ತದೆ  
B) Voltage drop decreases | ವೋಲ್ಟೇಜ್ ಡ್ರಾಪ್ ಕಡಿಮೆಯಾಗುತ್ತದೆ  
C) Insulation resistance increases | ನಿರೋಧನ ಪ್ರತಿರೋಧ ಹೆಚ್ಚಾಗುತ್ತದೆ  
D) Insulation resistance decreases | ನಿರೋಧನ ಪ್ರತಿರೋಧ ಕಡಿಮೆಯಾಗುತ್ತದೆ (Correct)

7. What is the effect on molten solder due to repeated melting? | ಪುನರಾವರ್ತಿತ ಕರಗುವಿಕೆಯಿಂದ ಕರಗಿದ ಬೆಸುಗೆಯ ಮೇಲೆ ಪರಿಣಾಮ ಏನು?

- A) Tin content reduced | ಟಿನ್ ವಿಷಯ ಕಡಿಮೆಯಾಗಿದೆ (Correct)  
B) Lead content reduced | ಪ್ರಮುಖ ವಿಷಯ ಕಡಿಮೆಯಾಗಿದೆ  
C) Prevent slug formation | ಸ್ಲಗ್ ರಚನೆಯನ್ನು ತಡೆಯಿರಿ  
D) Even solder flowing in joints | ಕೀಲುಗಳಲ್ಲಿ ಹರಿಯುವ ಬೆಸುಗೆ ಕೂಡ

8. Which method of soldering is used for repairing the vehicle body? | ವಾಹನವನ್ನು ದುರಸ್ತಿ ಮಾಡಲು ಯಾವ ವಿಧಾನವನ್ನು ಬೆಸುಗೆ ಹಾಕುವ ವಿಧಾನವನ್ನು ಬಳಸಲಾಗುತ್ತದೆ?

- A) Dip soldering | ಬೆಸುಗೆ ಬೆರೆಸುವುದು  
B) Soldering with flame | ಜ್ವಾಲೆಯೊಂದಿಗೆ ಬೆಸುಗೆ ಹಾಕುವುದು (Correct)  
C) Soldering with soldering iron | ಬೆಸುಗೆ ಹಾಕುವ ಕಬ್ಬಿಣದೊಂದಿಗೆ ಬೆಸುಗೆ ಹಾಕುವುದು  
D) Machine soldering | ಮೆಷಿನ್ ಬೆಸುಗೆ ಹಾಕುವಿಕೆ

9. Which test is conducted to locate the faults in U.G. cables? | UG ನಲ್ಲಿನ ದೋಷಗಳನ್ನು ಕಂಡುಹಿಡಿಯಲು ಯಾವ ಪರೀಕ್ಷೆ ನಡೆಸಲಾಗುತ್ತದೆ ಕೇಬಲ್‌ಗಳು?

- A) Loop test | ಲೂಪ್ ಪರೀಕ್ಷೆ (Correct)  
B) External growler test | ಬಾಹ್ಯ ಬೆಳೆಗಾರ ಪರೀಕ್ಷೆ  
C) Break down voltage test | ವೋಲ್ಟೇಜ್ ಪರೀಕ್ಷೆಯನ್ನು ಮುರಿದುಬಿಡು  
D) Insulation resistance test | ನಿರೋಧಕ ನಿರೋಧಕ ಪರೀಕ್ಷೆ

10. Which formula is used to calculate the power of a DC circuit? | ಡಿಸಿ ಸರ್ಕ್ಯೂಟ್ ವಿಧ್ಯುತ್ ಅನ್ನು ಲೆಕ್ಕಾಚಾರ ಮಾಡಲು ಯಾವ ಸೂತ್ರವನ್ನು ಬಳಸಲಾಗುತ್ತದೆ?

- A) Voltage x time  
B) Current x voltage (Correct)  
C) Current x resistance  
D) Voltage x resistance

11. What is the use of dipsoldering method? | ಡಿಪ್‌ಸೋಲ್ಡಿಂಗ್ ವಿಧಾನದ ಬಳಕೆ ಏನು?

A) Hard soldering | ಹಾರ್ಡ್ ಸೋಲರೇರಿಂಗ್

B) Piping and cable soldering work | ಕೊಳವೆ ಮತ್ತು ಕೇಬಲ್ ಬೆಸುಗೆ ಹಾಕುವ ಕೆಲಸ

**C) Soldering miniature components on PCB | ಪಿಸಿಬಿನ್‌ನಲ್ಲಿ ಬೆಸುಗೆ ಹಾಕುವ ಚಿಕ್ಕ ಘಟಕಗಳು (Correct)**

D) Soldering of tin sheets | ತವರ ಹಾಳೆಗಳ ಬೆಸುಗೆ

12. Which is the semiconductor material? | ಅರೆವಾಹಕ ವಸ್ತು ಯಾವುದು?

A) Eureka | ಯುರೇಕಾ

B) Ebonite | ಎಬೋನೈಟ್

C) Manganin | ಮಂಗನಿನ್

**D) Germanium | ಜರ್ಮನಿಯಮ್ (Correct)**

13. What is the advantage of the stranded conductor over the solid conductor? | ಘನ ಕಂಡಕ್ಟರ್‌ಗಿಂತ ಸ್ಟ್ರಾಂಡೆಡ್ ಕಂಡಕ್ಟರ್‌ನ ಪ್ರಯೋಜನವೇನು?

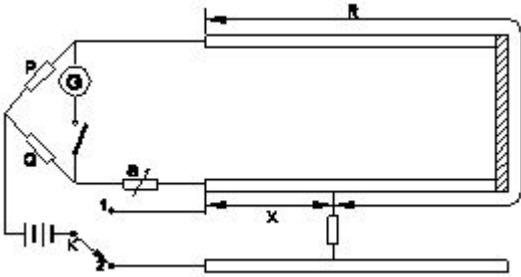
A) Cost is less | ವೆಚ್ಚ ಕಡಿಮೆಯಾಗಿದೆ

**B) More flexible | ಹೆಚ್ಚು ಹೊಂದಿಕೊಳ್ಳುವ (Correct)**

C) Less voltage drop | ಕಡಿಮೆ ವೋಲ್ಟೇಜ್ ಡ್ರಾಪ್

D) More insulation resistance | ಹೆಚ್ಚು ನಿರೋಧನ ಪ್ರತಿರೋಧ

14. What is the fault of U.G cable identified in the circuit? | ಸರ್ಕ್ಯೂಟ್‌ನಲ್ಲಿ ಗುರುತಿಸಲಾದ U.G ಕೇಬಲ್ ದೋಷ ಯಾವುದು?



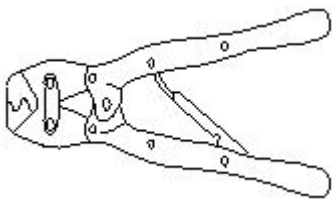
A) Ground fault | ಗ್ರೌಂಡ್ ತಪ್ಪು

**B) Short circuit fault | ಅರ್ಟ್ ಸರ್ಕ್ಯೂಟ್ ದೋಷ (Correct)**

C) Open circuit fault | ಓಪನ್ ಸರ್ಕ್ಯೂಟ್ ದೋಷ

D) Over voltage fault | ಓವರ್ ವೋಲ್ಟೇಜ್ ದೋಷ

15. What is the name of the tool as shown in the figure? | ಚಿತ್ರದಲ್ಲಿ ತೋರಿಸಿರುವಂತೆ ಉಪಕರಣದ ಹೆಸರೇನು?



A) Cutting plier | ಕ್ರಿಪಿಂಗ್ ಪ್ಲಿಯರ್

B) Wire stripper | ವೈರ್ ಸ್ಟ್ರಿಪ್ಪರ್

**C) Crimping tool | ಕ್ರಿಪಿಂಗ್ ಸಾಧನ (Correct)**

D) Side cutting plier | ಸೈಡ್ ಕಟ್‌ಟಿಂಗ್ ಪ್ಲಿಯರ್

16. What is the formula for the Quantity of electricity (Q)? | ಕ್ವಾಂಟಿಟಿ ಆಫ್ ಎಲೆಕ್ಟ್ರಿಸಿಟಿ (Q) ಗಾಗಿ ಸೂತ್ರ ಯಾವುದು?

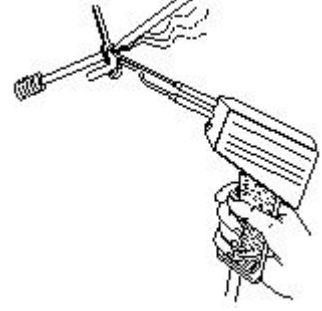
**A) Current x Time (Correct)**

B) Voltage x Current

C) Current x Resistance

D) Voltage x Resistance

17. What is the name of the soldering method as shown in the figure? | ಚಿತ್ರದಲ್ಲಿ ತೋರಿಸಿರುವಂತೆ ಬೆಸುಗೆ ಹಾಕುವ ವಿಧಾನದ ಹೆಸರೇನು?




A) Dip soldering | ಬೆಸುಗೆ ಬೆರೆಸುವುದು

B) Soldering iron | ಬೆಸುಗೆ ಹಾಕುವ ಕಬ್ಬಿಣ

**C) Soldering gun | ಬೆಸುಗೆ ಹಾಕುವ ಗನ್ (Correct)**

D) Soldering with flame | ಜ್ವಾಲೆಯೊಂದಿಗೆ ಬೆಸುಗೆ ಹಾಕುವುದು

18. What is the name of the part marked 'X' of the belted U.G cable as shown in the figure? | ಚಿತ್ರದಲ್ಲಿ ತೋರಿಸಿರುವಂತೆ ಬೆಲ್ಟೆಡ್ U.G ಕೇಬಲ್‌ನ X ಒಂದು ಗುರುತಿಸಲಾದ ಭಾಗದ ಹೆಸರೇನು?



A) Jute filling | ಸೆಣಬಿನ ಭರ್ತಿ

B) Armouring | ಆರ್ಮರಿಂಗ್

**C) Lead sheath | ಲೀಡ್ ಶೀತ್ (Correct)**

D) Paper insulation | ಪೇಪರ್ ನಿರೋಧನ

19. Why the soldering iron must be kept into a stand that not in use while soldering? | ಏಕೆ ಬೆಸುಗೆ ಹಾಕುವ ಕಬ್ಬಿಣವನ್ನು ಬೆಸುಗೆ ಹಾಕುವ ಸಮಯದಲ್ಲಿ ಬಳಸದೆ ಇರುವ ಸ್ಥಿತಿಯಲ್ಲಿ ಇಡಬೇಕು?

**A) It prevents burns and fire | ಇದು ಬರ್ನ್ ಮತ್ತು ಬೆಂಕಿಯನ್ನು ತಡೆಯುತ್ತದೆ (Correct)**

B) To control the excessive heat | ವಿಪರೀತ ಶಾಖವನ್ನು ನಿಯಂತ್ರಿಸಲು

C) To save the time of soldering process | ಬೆಸುಗೆ ಹಾಕುವ ಪ್ರಕ್ರಿಯೆಯ ಸಮಯವನ್ನು ಒಣ ಬೆಸುಗೆಯನ್ನು ತಪ್ಪಿಸಲು ಉಳಿಸಲು

D) To avoid dry soldering | ಒಣ ಬೆಸುಗೆಯನ್ನು ತಪ್ಪಿಸಲು ಉಳಿಸಲು

20. What is the purpose of the bedding insulation in the U.G. cable? | U.G ಕೇಬಲ್‌ನಲ್ಲಿ ಬೆಡ್ಡಿಂಗ್ ನಿರೋಧನದ ಉದ್ದೇಶವೇನು?

- A) Protect the cable from mechanical injury | ಯಾಂತ್ರಿಕ ಗಾಯದಿಂದ ಕೇಬಲ್ ರಕ್ಷಿಸಿ
- B) Protect the cable from moisture and gases | ತೇವಾಂಶ ಮತ್ತು ಅನಿಲಗಳಿಂದ ಕೇಬಲ್ ರಕ್ಷಿಸಿ
- C) Protect armouring from atmospheric condition | ವಾತಾವರಣದ ಸ್ಥಿತಿಯಿಂದ ರಕ್ಷಾಕವಚವನ್ನು ರಕ್ಷಿಸಿ
- D) Protect the metallic sheath against corrosion | ತುಕ್ಕು ವಿರುದ್ಧ ಲೋಹದ ಪೊರ ರಕ್ಷಿಸಿ (Correct)**

21. What is the use of Britannia 'T' joint? | ಬ್ರಿಟಾನಿಯಾ ಟಿಂಟಿಂಜಿ ಬಳಕೆ ಏನು?

- A) Extending the length of the lines | ರೇಖೆಗಳ ಉದ್ದವನ್ನು ವಿಸ್ತರಿಸುವುದು
- B) Inside and outside wiring installation | ಒಳಗೆ ಮತ್ತು ಹೊರಗೆ ವೈರಿಂಗ್ ಅನುಸ್ಥಾಪನೆ
- C) Mechanical stress not required on conductor | ಯಾಂತ್ರಿಕ ಒತ್ತಡವು ವಾಹಕದ ಮೇಲೆ ಅಗತ್ಯವಿರುವುದಿಲ್ಲ
- D) Tapping the service connection from overhead lines | ಓವರ್‌ಹೆಡ್ ಸಾಲಗಳಿಂದ ಸೇವೆ ಸಂಪರ್ಕವನ್ನು ಟ್ಯಾಪ್ ಮಾಡಲಾಗುತ್ತಿದೆ (Correct)**

22. Which is used to measure the size of the conductor? | ಕಂಡಕ್ಟರ್‌ನ ಗಾತ್ರವನ್ನು ಅಳೆಯಲು ಯಾವುದನ್ನು ಬಳಸಲಾಗುತ್ತದೆ?

- A) Bevel gauge | ಬೆವೆಲ್ ಗೇಜ್
- B) Vernier caliper | ವರ್ನಿಯರ್ ಕ್ಯಾಲಿಪರ್
- C) Standard wire gauge | ಸ್ಟ್ಯಾಂಡರ್ಡ್ ವೈರ್ ಗೇಜ್ (Correct)**
- D) Depth gauge | ಡೆಪ್ತ್ ಗೇಜ್

23. How many electrons are there in the valence shell of a copper atom? | ತಾಮ್ರದ ಪರಮಾಣುವಿನ ವೇಲೆನ್ಸ್ ಶೆಲ್ಡ್ನಲ್ಲಿ ಎಷ್ಟು ಎಲೆಕ್ಟ್ರಾನ್‌ಗಳಿವೆ?

- A) 1 (Correct)**
- B) 2
- C) 8
- D) 18

24. How many electrons are there in the third shell of the copper atom? | ತಾಮ್ರದ ಪರಮಾಣುವಿನ ಮೂರನೇ ಕೋಶದಲ್ಲಿ ಎಷ್ಟು ಎಲೆಕ್ಟ್ರಾನ್‌ಗಳಿವೆ?

- A) 8
- C) 18 (Correct)**
- B) 13
- D) 29

25. What is the unit of insulation resistance? | ನಿರೋಧನ ಪ್ರತಿರೋಧದ ಘಟಕ ಎಂದರೇನು?

- A) Ohm
- B) Kilo ohm
- C) Milli ohm
- D) Mega ohm (Correct)**

26. What is the advantage of the crimping terminations? | ಕ್ರಿಂಪಿಂಗ್ ಮುಕ್ತಾಯದ ಪ್ರಯೋಜನವೇನು?

- A) Increase the voltage | ವೋಲ್ಟೇಜ್ ಅನ್ನು ಹೆಚ್ಚಿಸಿ
- B) Reduce the load current | ಲೋಡ್ ಕರೆಂಟ್ ಅನ್ನು ಕಡಿಮೆ ಮಾಡಿ
- C) Avoid loose connections | ಸಡಿಲ ಸಂಪರ್ಕಗಳನ್ನು ತಪ್ಪಿಸಿ (Correct)**
- D) Easy to replace | ಬದಲಿಗೆ ಸುಲಭ

27. Which effect of the electric current takes place in the neon lamp? | ನಿಯಾನ್ ದೀಪದಲ್ಲಿ ವಿದ್ಯುತ್ ಪ್ರವಾಹದ ಯಾವ ಪರಿಣಾಮವು ನಡೆಯುತ್ತದೆ?

- A) Heating effect | ತಾಪನ ಪರಿಣಾಮ
- B) Magnetic effect | ಮ್ಯಾಗ್ನೆಟಿಕ್ ಪರಿಣಾಮ
- C) Chemical effect | ರಾಸಾಯನಿಕ ಪರಿಣಾಮ
- D) Gas ionization effect | ಗ್ಯಾಸ್ ಅಯಾನೀಕರಣ ಪರಿಣಾಮ (Correct)**

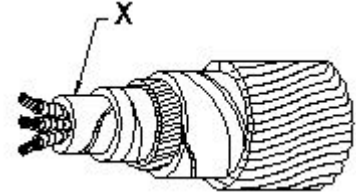
28. What is the possible range to measure the size of the wire in a Standard Wire Gauge (SWG)? | ಸ್ಟ್ಯಾಂಡರ್ಡ್ ವೈರ್ ಗೇಜ್ (SWG) ನಲ್ಲಿನ ತಂತಿಯ ಗಾತ್ರವನ್ನು ಅಳೆಯುವ ಸಂಭವನೀಯ ವ್ಯಾಪ್ತಿಯೇನು?

- A) 0-44
- B) 0-42
- C) 0-38
- D) 0-36 (Correct)**

29. What is the full form of "XLPE" Cable? | XLPE ಕೇಬಲ್ ಪೂರ್ಣ ರೂಪ ಏನು?

- A) Cross Line Poly Ethylene
- B) X'ess Line Phase Earthing
- C) Cross Linked Poly Ethylene (Correct)**
- D) Excess Length Paper and Ebonite

30. What is the name of the part marked 'X' in UG cables as shown in the figure? | ಚಿತ್ರದಲ್ಲಿ ತೋರಿಸಿರುವಂತೆ UG ಕೇಬಲ್‌ಗಳಲ್ಲಿ X ಡಾಂಡು ಗುರುತಿಸಲಾದ ಭಾಗದ ಹೆಸರೇನು?



- A) Serving | ಸರ್ವಿಂಗ್
- B) Bedding | ಬೆಡ್ಡಿಂಗ್
- C) Armouring | ಆರ್ಮರಿಂಗ್
- D) Lead sheath | ಲೀಡ್ ಪೊರ (Correct)**

31. What does the number 1.40 represent if a stranded conductor is designated as 7/1.40? | ಏಳು ಕಂಡಕ್ಟರ್ ಗಾತ್ರವನ್ನು 7 / 1.40 ಎಂದು ಹೆಸರಿಸಿದರೆ ಸಂಖ್ಯೆ 1.40 ಏನನ್ನು ಪ್ರತಿನಿಧಿಸುತ್ತದೆ?

- A) Area of cross section | ಅಡ್ಡ ವಿಭಾಗದ ಪ್ರದೇಶ
- B) Radius of one conductor | ಒಂದು ವಾಹಕದ ತ್ರಿಜ್ಯ
- C) Diameter of all conductor | ಎಲ್ಲಾ ವಾಹಕದ ವ್ಯಾಸ
- D) Diameter of each conductor | ಪ್ರತಿ ವಾಹಕದ ವ್ಯಾಸ (Correct)**

32. What is the size of the neutral core of a 90 sq. mm 3½ core U.G cable? | 90 sq mm 3½ ಕೋರ್ U.G ಕೇಬಲ್‌ನ ನ್ಯೂಟ್ರಲ್ ಕೋರ್‌ನ ಗಾತ್ರ ಎಷ್ಟು?

- A) 45 Sq. mm (Correct)**
- B) 50 Sq. mm
- C) 70 Sq. mm
- D) 90 Sq. mm

33. What is the value of current (I) flowing through the circuit? | ಸರ್ಕ್ಯೂಟ್ ಮೂಲಕ ಹರಿಯುವ ಕರೆಂಟ್ (I) ಮೌಲ್ಯ ಏನು?



- A) 6 A  
**C) 2 A (Correct)**  
 B) 3 A  
 D) 1 A

34. What is the name of the joint as shown in the figure? | ಚಿತ್ರದಲ್ಲಿ ತೋರಿಸಿರುವಂತೆ ಜಾಯಿಂಟ್‌ನ ಹೆಸರೇನು?

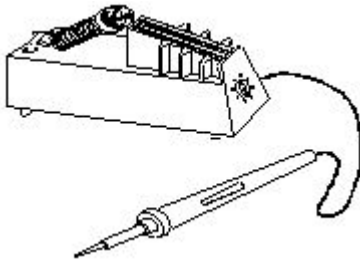


- A) Married joint | ವಿವಾಹವಾದರು (Correct)**  
 B) Scarfed joint | ಸ್ಕಾರ್ಫೆಡ್ ಜಂಟಿ  
 C) Western union joint | ಪಾಶ್ಚಾತ್ಯ ಯೂನಿಯನ್ ಜಂಟಿ  
 D) Britannia straight joint | ಬ್ರಿಟಾನಿಯಾ ನೇರ ಜಂಟಿ

35. What is the unit for Quantity of electricity? | ವಿದ್ಯುಚ್ಛಕ್ತಿಯ ಪ್ರಮಾಣಕ್ಕಾಗಿ ಘಟಕ ಯಾವುದು?

- A) Mho  
**B) Coulomb (Correct)**  
 C) Volt / second  
 D) Ampere / second

36. What is the name of the soldering method as shown in the figure? | ಚಿತ್ರದಲ್ಲಿ ತೋರಿಸಿರುವಂತೆ ಬೆಸುಗೆ ಹಾಕುವ ವಿಧಾನದ ಹೆಸರೇನು?



- A) Dip soldering | ಬೆಸುಗೆ ಬೆರೆಸುವುದು  
 B) Soldering with blow lamp | ಬೋ ದೀಪದೊಂದಿಗೆ ಬೆಸುಗೆ ಹಾಕುವುದು  
 C) Soldering with soldering gun | ಬೆಸುಗೆ ಹಾಕುವ ಗನ್ ಜೊತೆ ಬೆಸುಗೆ ಹಾಕುವುದು  
**D) Temperature controlled soldering | ತಾಪಮಾನ ನಿಯಂತ್ರಿತ ಬೆಸುಗೆ ಹಾಕುವಿಕೆ (Correct)**

37. Which type of joint is used in over head lines for high tensile strength? | ಹೆಚ್ಚಿನ ಕರ್ಷಕ ಬಲಕ್ಕೆ ತಲೆ ರೇಖೆಗಳ ಮೇಲೆ ಯಾವ ವಿಧದ ಜಂಟಿ ಬಳಸಲ್ಪಡುತ್ತದೆ?

- A) Scarfed joint | ಸ್ಕಾರ್ಫೆಡ್ ಜಾಯಿಂಟ್  
 B) Married joint | ಮ್ಯಾರೈಡ್ ಜಾಯಿಂಟ್  
**C) Western union joint | ವೆಸ್ಟರ್ನ್ ಯೂನಿಯನ್ ಜಂಟಿ (Correct)**  
 D) Rat-tail joint | ಯಾರ್ಟ್-ಟೈಲ್ ಜಾಯಿಂಟ್

38. What is the disadvantage of solid conductor compared to stranded conductor? | ಸಿಕ್ಕಿಕೊಂಡಿರುವ ಕಂಡಕ್ಟರ್ಗೆ ಹೋಲಿಸಿದಾಗ ಘನ ಕಂಡಕ್ಟರ್ ಅನನುಕೂಲತೆ ಏನು?

- A) Less rigidity | ಕಡಿಮೆ ಬಿಗಿತ  
**B) Less flexibility | ಕಡಿಮೆ ನಮ್ಯತೆ (Correct)**  
 C) Low melting point | ಕಡಿಮೆ ಕರಗುವ ಬಿಂದು  
 D) Low mechanical strength | ಕಡಿಮೆ ಯಾಂತ್ರಿಕ ಶಕ್ತಿ

39. Which is the property of a good conductor? | ಉತ್ತಮ ಕಂಡಕ್ಟರ್‌ನ ಫ್ರಾಪರ್ಟಿ ಯಾವುದು?

- A) Low specific resistance | ಕಡಿಮೆ ನಿರ್ದಿಷ್ಟ ಪ್ರತಿರೋಧ (Correct)**  
 B) High dielectric strength | ಹೆಚ್ಚಿನ ಡೈಎಲೆಕ್ಟ್ರಿಕ್ ಶಕ್ತಿ  
 C) High specific resistance | ಹೆಚ್ಚಿನ ನಿರ್ದಿಷ್ಟ ಪ್ರತಿರೋಧ  
 D) Low mechanical strength | ಕಡಿಮೆ ಯಾಂತ್ರಿಕ ಶಕ್ತಿ

40. What is the cause for cold solder defect in soldering? | ಬೆಸುಗೆ ಹಾಕುವಲ್ಲಿ ಶೀತ ಬೆಸುಗೆ ದೋಷದ ಕಾರಣವೇನು?

- A) Excessive heating | ಅತಿಯಾದ ತಾಪನ  
**B) Insufficient heating | ಸಾಕಷ್ಟು ತಾಪನ (Correct)**  
 C) Incorrect usage of flux | ಫ್ಲಕ್ ತಪ್ಪಾದ ಬಳಕೆ  
 D) High wattage soldering iron | ಹೈ ವ್ಯಾಟೇಜ್ ಬೆಸುಗೆ ಹಾಕುವ ಕಬ್ಬಿಣ

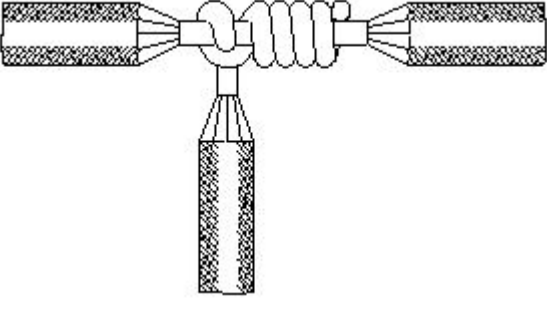
41. Which type of soldering flux is used for soldering aluminium conductors? | ಬೆಸುಗೆ ಹಾಕುವ ಅಲ್ಯೂಮಿನಿಯಂ ವಾಹಕಗಳಿಗೆ ಯಾವ ರೀತಿಯ ಬೆಸುಗೆ ಹಾಕುವ ಫ್ಲಕ್ ಅನ್ನು ಬಳಸಲಾಗುತ್ತದೆ?

- A) Tallow | ಟ್ಯಾಲೋ  
**B) Kynal flux | ಕೈನಲ್ ಫ್ಲಕ್ಸ್ (Correct)**  
 C) Zinc chloride | ಝಿಂಕ್ ಕ್ಲೋರೈಡ್  
 D) Sal ammonia | ಸಾಲ್ ಅಮೋನಿಯ ರೋಸಿನ್

42. Which type of joint is used for extending the length of conductor in over head lines? | ಹೆಡ್ ಲೈನ್‌ಗಳಲ್ಲಿ ವಾಹಕದ ಉದ್ದವನ್ನು ವಿಸ್ತರಿಸಲು ಯಾವ ವಿಧದ ಜಂಟಿವನ್ನು ಬಳಸಲಾಗುತ್ತದೆ?

- A) Scarfed joint | ಸ್ಕಾರ್ಫೆಡ್ ಜಂಟಿ  
 B) Aerial tap joint | ಏರಿಯಲ್ ಟ್ಯಾಪ್ ಜಂಟಿ  
 C) Britannia "T" joint | ಬ್ರಿಟಾನಿಯಾ T ಜಂಟಿ  
**D) Western Union joint | ವೆಸ್ಟರ್ನ್ ಯೂನಿಯನ್ ಜಂಟಿ (Correct)**

43. What is the name of the wire joint as shown in the figure? | ಚಿತ್ರದಲ್ಲಿ ತೋರಿಸಿರುವಂತೆ ತಂತಿ ಜಾಯಿಂಟ್‌ನ ಹೆಸರೇನು?



A) Aerial tap joint | ಎರಿಯಲ್ ಟ್ಯಾಪ್ ಜಂಟಿ  
**B) Knotted tap joint | ಕ್ನೋಟೆಡ್ ಟ್ಯಾಪ್ ಜಂಟಿ (Correct)**

C) Duplex cross tap joint | ಡ್ಯುಪ್ಲೆಕ್ಸ್ ಕ್ರಾಸ್ ಟ್ಯಾಪ್ ಜಂಟಿ  
 D) Double cross tap joint | ಡಬಲ್ ಅಡ್ಡ ಟ್ಯಾಪ್ ಜಂಟಿ

44. Which type of cables are used for underground services from 33 kv to 66 kv? | 33 kv ನಿಂದ 66 kv ವರೆಗಿನ ಭೂಗತ ಸೇವೆಗಳಿಗೆ ಯಾವ ರೀತಿಯ ಕೇಬಲ್‌ಗಳನ್ನು ಬಳಸಲಾಗುತ್ತದೆ?

A) High tension cables | ಹೆಚ್ಚಿನ ಒತ್ತಡದ ಕೇಬಲ್‌ಗಳು  
 B) Extra super voltage cables | ಹೆಚ್ಚುವರಿ ಸೂಪರ್ ವೋಲ್ಟೇಜ್ ಕೇಬಲ್‌ಗಳು

C) Super tension cables | ಸೂಪರ್ ಟೆನ್ಷನ್ ಕೇಬಲ್‌ಗಳು

**D) Extra- high tension cables | ಹೆಚ್ಚಿನ ಒತ್ತಡದ ಕೇಬಲ್‌ಗಳು (Correct)**

45. Which part of the underground cable is protecting the metallic sheath against corrosion? | ಭೂಗತ ಕೇಬಲ್ ಯಾವ ಭಾಗವು ತುಕ್ಕು ವಿರುದ್ಧ ಲೋಹೀಯ ಕೋಶವನ್ನು ರಕ್ಷಿಸುತ್ತಿದೆ?

A) Serving | ಸರ್ವಿಂಗ್

**B) Bedding | ಬೆಡ್ಡಿಂಗ್ (Correct)**

C) Armouring | ಆರ್ಮರಿಂಗ್

D) Lead sheath | ಲೀಡ್ ಶೀಥ್

46. What is the purpose of additional covering over the insulation of insulated conductor? | ಇನ್ಸುಲೇಟೆಡ್ ಕಂಡಕ್ಟರ್ ನಿರೋಧನದ ಮೇಲೆ ಹೆಚ್ಚುವರಿ ಹೊದಿಕೆಯ ಉದ್ದೇಶವೇನು?

**A) To increase dielectric strength | ಡೈಎಲೆಕ್ಟ್ರಿಕ್ ಶಕ್ತಿಯನ್ನು ಹೆಚ್ಚಿಸಲು (Correct)**

B) To reduce the conductor resistance | ಕಂಡಕ್ಟರ್ ಪ್ರತಿರೋಧವನ್ನು ಕಡಿಮೆ ಮಾಡಲು

C) To reduce the power loss | ವಿದ್ಯುತ್ ನಷ್ಟವನ್ನು ಕಡಿಮೆ ಮಾಡಲು

D) To increase the voltage drop | ವೋಲ್ಟೇಜ್ ಡ್ರಾಪ್ ಹೆಚ್ಚಿಸಲು