

Duration: 60 Mins

Total Marks: 50

ID: ITISKILL0591KN

Student Name: \_\_\_\_\_

Roll No: \_\_\_\_\_

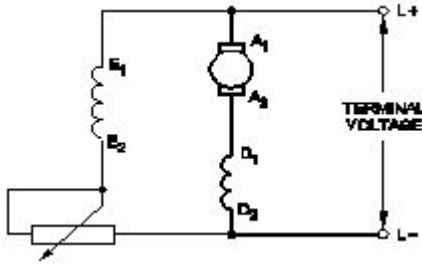
1. What is the working principle of D.C generator? | D.C ಜನರೇಟರ್‌ನ ಕಾರ್ಯಾಚರಣಾ ತತ್ವ ಏನು?

- A) Faradays laws of electromagnetic induction | ವಿದ್ಯುತ್ಕಾಂತೀಯ ಇಂಡಕ್ಷನ್ ಕಾನೂನುಗಳು  
 B) Fleming's right hand rule | ಫ್ಲೆಮಿಂಗ್ ಬಲಗೈ ನಿಯಮ  
 C) Fleming's left hand rule | ಫ್ಲೆಮಿಂಗ್ ಎಡಗೈ ನಿಯಮ  
 D) Cork screw rule | ಕಾರ್ಕ್ ತಿರುಪು ನಿಯಮ

2. Which type of occupational health hazard is cause for infection due to bacteria? | ಯಾವ ರೀತಿಯ ಔದ್ಯೋಗಿಕ ಆರೋಗ್ಯದ ಅಪಾಯವು ಬ್ಯಾಕ್ಟೀರಿಯಾದ ಸೋಂಕಿನಿಂದ ಉಂಟಾಗುತ್ತದೆ?

- A) Physiological hazard | ದೈಹಿಕ ಅಪಾಯ  
 B) Electrical hazard | ವಿದ್ಯುತ್ ಅಪಾಯ  
 C) Biological hazard | ಜೈವಿಕ ಅಪಾಯ  
 D) Psychological hazard | ಮಾನಸಿಕ ಅಪಾಯ

3. What is the name of the generator as shown in the circuit? | ಸರ್ಕ್ಯೂಟ್‌ನಲ್ಲಿ ತೋರಿಸಿರುವಂತೆ ಜನರೇಟರ್‌ನ ಹೆಸರೇನು?



- A) DC series generator | DC ಸೀರಿಸ್ ಜನರೇಟರ್  
 B) Short shunt compound Generator | ಶಾರ್ಟ್ ಷಂಟ್ ಕಾಂಪೌಂಡ್ ಜನರೇಟರ್  
 C) DC shunt generator | DC ಷಂಟ್ ಜನರೇಟರ್  
 D) Long shunt compound Generator | ಲಾಂಗ್ ಷಂಟ್ ಕಾಂಪೌಂಡ್ ಜನರೇಟರ್

4. Which criteria must be satisfied for the quality of PPE s? | PPE ಗಳ ಗುಣಮಟ್ಟಕ್ಕಾಗಿ ಯಾವ ಮಾನದಂಡಗಳನ್ನು ಪೂರೈಸಬೇಕು?

- A) Low cost | ಕಡಿಮೆ ವೆಚ್ಚ  
 B) Made by non standard material | ಪ್ರಮಾಣಿತವಲ್ಲದ ವಸ್ತುಗಳಿಂದ ತಯಾರಿಸಲಾಗುತ್ತದೆ  
 C) It cannot be used for long period | ಇದನ್ನು ದೀರ್ಘಕಾಲದವರೆಗೆ ಬಳಸಲಾಗುವುದಿಲ್ಲ  
 D) It should with stand the hazards | ಇದು ಅಪಾಯಗಳನ್ನು ತಡೆದುಕೊಳ್ಳಬೇಕು

5. What immediate action should be taken to rescue the victim, if he is still in contact with the electrical power supply? | ವಿದ್ಯುತ್ ಪೂರೈಕೆಯೊಂದಿಗೆ ಸಂಪರ್ಕದಲ್ಲಿದ್ದರೆ, ಬಲಿಯಾದವರನ್ನು ರಕ್ಷಿಸಲು ತಕ್ಷಣವೇ ಯಾವ ಕ್ರಮ ಕೈಗೊಳ್ಳಬೇಕು?

- A) Break the contact by switching OFF the power supply | ವಿದ್ಯುತ್ ಸರಬರಾಜು ಅನ್ನು ಆಫ್ ಮಾಡುವುದರ ಮೂಲಕ ಸಂಪರ್ಕವನ್ನು ಮುರಿಯಿರಿ  
 B) Pull or push him from the contact by hand | ಕೈಯಿಂದ ಸಂಪರ್ಕದಿಂದ ಅವನನ್ನು ಎಳೆಯಿರಿ ಅಥವಾ ತಳ್ಳಿರಿ  
 C) Call someone for helping to remove him from contact | ಸಂಪರ್ಕದಿಂದ ಅವರನ್ನು ತೆಗೆದುಹಾಕಲು ಸಹಾಯಕ್ಕಾಗಿ ಯಾರನ್ನಾದರೂ ಕರೆ ಮಾಡಿ  
 D) Inform your authority about this electric shock | ದೂರ ಇಡಿ

6. Why the armature resistance of a D.C generator is kept very low? | D.C ಜನರೇಟರ್‌ನ ಆರ್ಮೇಚರ್ ಪ್ರತಿರೋಧವನ್ನು ಏಕೆ ಕಡಿಮೆ ಇರಿಸಲಾಗುತ್ತದೆ?

- A) Helps to solve Boolean Algebra | ಬೂಲಿಯನ್ ಬೀಜಗಣಿತವನ್ನು ಪರಿಹರಿಸಲು ಸಹಾಯ ಮಾಡುತ್ತದೆ  
 B) To reduce the temperature of armature | ಆರ್ಮೇಚರ್ ತಾಪಮಾನವನ್ನು ಕಡಿಮೆ ಮಾಡಲು  
 C) To reduce the armature current | ಆರ್ಮೇಚರ್ ಪ್ರವಾಹವನ್ನು ಕಡಿಮೆ ಮಾಡಲು  
 D) To reduce the armature voltage drop | ಆರ್ಮೇಚರ್ ವೋಲ್ಟೇಜ್ ಡ್ರಾಪ್ ಅನ್ನು ಕಡಿಮೆ ಮಾಡಲು

7. What is smothering in extinguishing of fire? | ಬೆಂಕಿಯನ್ನು ಕಡಿಯುವಲ್ಲಿ ಏನಾಗುತ್ತಿದೆ?

- A) Isolating the fire from the supply of oxygen | ಆಮ್ಲಜನಕದ ಪೂರೈಕೆಯಿಂದ ಬೆಂಕಿಯನ್ನು ಪ್ರತ್ಯೇಕಿಸುವುದು  
 B) Adding the fuel element to the fire | ಇಂಧನ ಅಂಶವನ್ನು ಬೆಂಕಿಯಲ್ಲಿ ಸೇರಿಸುವುದು  
 C) Using of water to lower the temperature | ತಾಪಮಾನವನ್ನು ಕಡಿಮೆ ಮಾಡಲು ನೀರಿನ ಬಳಕೆ  
 D) Removing the fuel element from the fire | ಬೆಂಕಿಯಿಂದ ಇಂಧನ ಅಂಶವನ್ನು ತೆಗೆದುಹಾಕಲಾಗುತ್ತಿದೆ

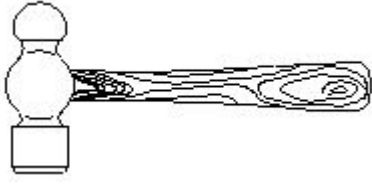
8. How many parallel paths in duplex lap winding of a 4 pole DC generator? | 4 ಪೋಲ್ DC ಜನರೇಟರ್ ಡ್ಯೂಪ್ಲೆಕ್ಸ್ ಲ್ಯಾಪ್‌ನಲ್ಲಿ ಎಷ್ಟು ಸಮಾನಾಂತರ ಮಾರ್ಗಗಳು?

- A) 1  
 B) 8  
 C) 4  
 D) 6

9. Which is the physical hazard? | ದೈಹಿಕ ಅಪಾಯ ಯಾವುದು?

- A) Vibration | ಕಂಪನ  
B) Bacteria | ಬ್ಯಾಕ್ಟೀರಿಯಾ  
C) Smoking | ಧೂಮಪಾನ  
D) Corrosive | ನಾಶಕಾರಿ

10. What is the name of the tool as shown in the figure? | ಚಿತ್ರದಲ್ಲಿ ತೋರಿಸಿರುವಂತೆ ಉಪಕರಣದ ಹೆಸರೇನು?

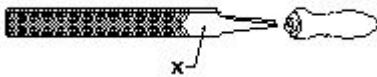


- A) Tack hammer | ಟ್ಯಾಕ್ ಸುತ್ತಿಗೆ  
B) Ball peen hammer | ಬಾಲ್ ಪೀನ್ ಸುತ್ತಿಗೆ  
C) Claw hammer | ಕ್ಲಾ ಸುತ್ತಿಗೆ  
D) Cross peen hammer | ಕ್ರಾಸ್ ಪೀನ್ ಸುತ್ತಿಗೆ

11. Which condition of the victim is referred as COMA stage? | ಬಲಿಯಾದ ಯಾವ ಸ್ಥಿತಿಯನ್ನು ಕಾಮಾ ಹಂತ ಎಂದು ಕರೆಯಲಾಗುತ್ತದೆ?

- A) Conscious but cannot respond to calls | ಜಾಗೃತ ಆದರೆ ಕರೆಗಳಿಗೆ ಪ್ರತಿಕ್ರಿಯಿಸಲು ಸಾಧ್ಯವಿಲ್ಲ  
B) Lie totally senseless and do not respond to calls | ಸುಳ್ಳು ಸಂಪೂರ್ಣವಾಗಿ ಮೂರ್ಖತನವಿಲ್ಲ ಮತ್ತು ಕರೆಗಳಿಗೆ ಪ್ರತಿಕ್ರಿಯಿಸಬೇಡಿ  
C) Unconscious but can respond to calls | ಅಜ್ಞಾತ ಆದರೆ ಕರೆಗಳಿಗೆ ಪ್ರತಿಕ್ರಿಯಿಸಬಹುದು  
D) Breathing and respond to calls | ಉಸಿರಾಟ ಮತ್ತು ಕರೆಗಳಿಗೆ ಪ್ರತಿಕ್ರಿಯಿಸಿ

12. What is the name of the part marked 'X' as shown in the figure? | ಫೈಲ್ನಲ್ಲಿ X ಎಂದು ಗುರುತಿಸಲಾದ ಭಾಗವನ್ನು ಹೆಸರಿಸಿ.



- A) Edge | ಎಡ್ಜ್  
B) Heel | ಹೀಲ್  
C) Tang | ಟ್ಯಾಂಗ್  
D) Point | ಪಾಯಿಂಟ್

13. What is the back ground colour of the warning signs in the safety sign category? | ಸುರಕ್ಷತಾ ಚಿಹ್ನೆಯ ವರ್ಗದಲ್ಲಿರುವ ಎಚ್ಚರಿಕೆ ಚಿಹ್ನೆಗಳ ಹಿಂದಿನ ನೆಲದ ಬಣ್ಣ ಯಾವುದು?

- A) Yellow | ಹಳದಿ  
B) Green | ಹಸಿರು  
C) White | ಬಿಳಿ  
D) Blue | ನೀಲಿ

14. What is smothering in extinguishing of fire? | ಬೆಂಕಿಯನ್ನು ಕಡಿಯುವಲ್ಲಿ ಏನಾಗುತ್ತಿದೆ?

- A) Isolating the fire from the supply of oxygen | ಆಮ್ಲಜನಕದ ಪೂರೈಕೆಯಿಂದ ಬೆಂಕಿಯನ್ನು ಪ್ರತ್ಯೇಕಿಸುವುದು  
B) Removing the fuel element from the fire | ಬೆಂಕಿಯಿಂದ ಇಂಧನ ಅಂಶವನ್ನು ತೆಗೆದುಹಾಕಲಾಗುತ್ತಿದೆ

- C) Using of water to lower the temperature | ತಾಪಮಾನವನ್ನು ಕಡಿಮೆ ಮಾಡಲು ನೀರಿನ ಬಳಕೆ  
D) Adding the fuel element to the fire | ಇಂಧನ ಅಂಶವನ್ನು ಬೆಂಕಿಯಲ್ಲಿ ಸೇರಿಸುವುದು

15. Why the pole core is laminated in DC generator? | DC ಜನರೇಟರ್‌ನಲ್ಲಿ ಪೋಲ್ ಕೋರ್ ಏಕೆ ಲ್ಯಾಮಿನೇಟ್ ಆಗಿದೆ?

- A) To reduce the eddy current loss | ಎಡಿ ಕರೆಂಟ್ ನಷ್ಟವನ್ನು ಕಡಿಮೆ ಮಾಡಲು  
B) To reduce the windage loss | ಗಾಳಿಯ ನಷ್ಟವನ್ನು ಕಡಿಮೆ ಮಾಡಲು  
C) To reduce the hysteresis loss | ಹಿಸ್ಟರೆಸಿಸ್ ನಷ್ಟವನ್ನು ಕಡಿಮೆ ಮಾಡಲು  
D) To reduce the friction loss | ಘರ್ಷಣೆ ನಷ್ಟವನ್ನು ಕಡಿಮೆ ಮಾಡಲು

16. What is the effect if the shunt field resistance is above critical resistance value in a D.C generator? | ಷಂಟ್ ಕ್ಷೇತ್ರ ನಿರೋಧಕತೆಯು ನಿರ್ಣಾಯಕ ಪ್ರತಿರೋಧ ಮೌಲ್ಯದ ಮೇಲೆ ಒಂದು ವೇಳೆ ಪರಿಣಾಮ ಯಾವುದು a DC ಜನರೇಟರ್?

- A) Output voltage is pulsating | ಔಟ್‌ಪುಟ್ ವೋಲ್ಟೇಜ್ ಪಲ್ಸ್ ಮಾಡುವುದು  
B) Output voltage is above normal | ಔಟ್‌ಪುಟ್ ವೋಲ್ಟೇಜ್ ಸಾಮಾನ್ಯಕ್ಕಿಂತ ಹೆಚ್ಚಾಗಿರುತ್ತದೆ  
C) Generator builds up voltage normally | ಜನರೇಟರ್ ಸಾಮಾನ್ಯವಾಗಿ ವೋಲ್ಟೇಜ್ ಅನ್ನು ನಿರ್ಮಿಸುತ್ತದೆ  
D) Generator fails to build up voltage | ಜನರೇಟರ್ ವೋಲ್ಟೇಜ್ ಅನ್ನು ನಿರ್ಮಿಸಲು ವಿಫಲವಾಗಿದೆ

17. Which type of fire extinguisher is used for fire on electrical equipment? | ವಿದ್ಯುತ್ ಉಪಕರಣಗಳಲ್ಲಿ ಬೆಂಕಿಗೆ ಯಾವ ವಿಧದ ಅಗ್ನಿಶಾಮಕವನ್ನು ಬಳಸಲಾಗುತ್ತದೆ?

- A) Gas cartridge water type | ಗ್ಯಾಸ್ ಕಾರ್ಟ್ರಿಡ್ಜ್ ನೀರಿನ ವಿಧ  
B) Stored pressure water type | ಶೇಖರಿಸಲಾದ ಒತ್ತಡದ ನೀರಿನ ಪ್ರಕಾರ  
C) Foam type | ಫೋಮ್ ಪ್ರಕಾರ  
D) Halon type | ಹ್ಯಾಲಾನ್ ಟೈಪ್

18. What is the formula for the efficiency of a D.C generator? | D.C ಜನರೇಟರ್‌ನ ದಕ್ಷತೆಗೆ ಸೂತ್ರವೇನು?

- (A)  $\frac{\text{Input} + \text{Losses}}{\text{Input}}$   
(B)  $\frac{\text{Output}}{\text{Input} - \text{Losses}}$   
(C)  $\frac{\text{Output}}{\text{Output} + \text{Losses}}$   
(D)  $\frac{\text{Input}}{\text{Output}}$

- A) B  
B) C  
C) D  
D) A

19. What is the necessity of the residual magnetism in a self excited DC generator? | ಸ್ವಯಂ ಪ್ರಚೋದಿತ DC ಜನರೇಟರ್‌ನಲ್ಲಿ ಉಳಿದಿರುವ ಕಾಂತೀಯತೆಯ ಅವಶ್ಯಕತೆ ಏನು?

A) Maintain the constant output voltage | ಸಿರ ಔಟುಪ್ಪ ವೋಲ್ಟೇಜ್ ಅನ್ನು ನಿರ್ವಹಿಸಿ

B) Build up the voltage | ವೋಲ್ಟೇಜ್ ಅನ್ನು ನಿರ್ಮಿಸಿ

C) Reduce the armature current | ಆರ್ಮೇಚರ್ ಕರೆಂಟ್ ಅನ್ನು ಕಡಿಮೆ ಮಾಡಿ

D) Reduce the field current | ಪ್ರಸ್ತುತ ಕ್ಷೇತ್ರವನ್ನು ಕಡಿಮೆ ಮಾಡಿ

20. Which step of the 5s-concept refers "Standardization"? | 5s ನೇ-ಪರಿಕಲ್ಪನೆಯ ಯಾವ ಹಂತವು ಪ್ರಮಾಣೀಕರಣ ಯನ್ನು ಸೂಚಿಸುತ್ತದೆ?

A) Step - 4

B) Step - 3

C) Step - 2

D) Step - 1

21. What is the effect on induced emf if the main field flux get distorted in DC generator? | ಮುಖ್ಯ ಕ್ಷೇತ್ರದ ಫ್ಲಕ್ಸ್ DC ಜನರೇಟರ್‌ನಲ್ಲಿ ವಿರೂಪಗೊಂಡರೆ ಪ್ರೇರಿತ ಎಮ್‌ಎಫ್ ಮೇಲೆ ಪರಿಣಾಮ ಏನು?

A) No change in induced emf | ಪ್ರೇರಿತ ಇಮ್‌ಎಫ್‌ನಲ್ಲಿ ಬದಲಾವಣೆ ಇಲ್ಲ

B) Induced emf increases | ಇಂಡ್ಯೂಸ್ಡ್ ಇಮ್‌ಎಫ್ ಹೆಚ್ಚಾಗುತ್ತದೆ

C) Induced emf decreases | ಇಂಡ್ಯೂಸ್ಡ್ ಇಮ್‌ಎಫ್ ಕಡಿಮೆಯಾಗುತ್ತದೆ

D) Induced emf becomes zero | ಪ್ರೇರಿತ ಇಮ್‌ಎಫ್ ಶೂನ್ಯವಾಗುತ್ತದೆ

22. What is the name of the drill bit as shown in the figure? | ಚಿತ್ರದಲ್ಲಿ ತೋರಿಸಿರುವಂತೆ ಡ್ರಿಲ್ ಬಿಟ್‌ನ ಹೆಸರೇನು?



A) Taper shank bit | ಟೆಪರ್ ಶ್ಯಾಂಕ್ ಬಿಟ್

B) Flat drill bit | ಫ್ಲಾಟ್ ಡ್ರಿಲ್ ಬಿಟ್

C) Straight shank bit | ನೇರವಾಗಿ ಶ್ಯಾಂಕ್ ಬಿಟ್

D) Countersink bit | ಕೌಂಟರ್ ಸಿಂಕ್ ಬಿಟ್

23. Which file is used for sharpening the blunt teeth of a tenon saw? | ಒಂದು ಹತ್ತಿಯ ಮೊಂಡಾದ ಹಲ್ಲುಗಳನ್ನು ಹರಿತಗೊಳಿಸುವ ಸಲುವಾಗಿ ಯಾವ ಫೈಲ್ ಅನ್ನು ಬಳಸಲಾಗುತ್ತದೆ?

A) Round file | ರೌಂಡ್ ಫೈಲ್

B) Half round file | ಹಾಫ್ ಸುತ್ತಿನ ಫೈಲ್

C) Triangular file | ತ್ರಿಕೋನ ಕಡತ

D) Square file | ಸ್ಕ್ವೇರ್ ಫೈಲ್

24. How does the magnetic flux of the field system completed the circuit in a generator? | ಫೀಲ್ಡ್ ಸಿಸ್ಟಮ್ ಮ್ಯಾಗ್ನೆಟಿಕ್ ಫ್ಲಕ್ಸ್ ಜನರೇಟರ್‌ನಲ್ಲಿ ಸರ್ಕ್ಯೂಟ್ ಅನ್ನು ಹೇಗೆ ಪೂರ್ಣಗೊಳಿಸುತ್ತದೆ?

A) Through the armature winding and armature core | ಆರ್ಮೇಚರ್ ವಿಂಡಿಂಗ್ ಮತ್ತು ಆರ್ಮೇಚರ್ ಕೋರ್ ಮೂಲಕ

B) Through the field core, armature core and yoke | ಫೀಲ್ಡ್ ಕೋರ್, ಆರ್ಮೇಚರ್ ಕೋರ್ ಮತ್ತು ಯೋಕ್ ಮೂಲಕ

C) Through the field coil and pole core | ಫೀಲ್ಡ್ ಕಾಯಿಲ್ ಮತ್ತು ಫೀಲ್ಡ್ ಕೋರ್ ಮೂಲಕ

D) Through the laminated pole core | ಲ್ಯಾಮಿನೇಟೆಡ್ ಪೋಲ್ ಕೋರ್ ಮೂಲಕ

25. What is the condition for the maximum efficiency of a DC generator? | DC ಜನರೇಟರ್‌ನ ಗರಿಷ್ಠ ದಕ್ಷತೆಯ ಸ್ಥಿತಿ ಯಾವುದು?

A) Eddy current loss is equal to hysteresis loss | ಎಡ್ಡಿ ಕರೆಂಟ್ ನಷ್ಟವು ಹಿಸ್ಟರೆಸಿಸ್ ನಷ್ಟಕ್ಕೆ ಸಮಾನವಾಗಿರುತ್ತದೆ

B) Variable losses is less than constant losses | ವೇರಿಯಬಲ್ ನಷ್ಟಗಳು ನಿರಂತರ ನಷ್ಟಗಳಿಗಿಂತ ಕಡಿಮೆ

C) Variable losses is more than constant losses | ವೇರಿಯಬಲ್ ನಷ್ಟಗಳು ನಿರಂತರ ನಷ್ಟಕ್ಕಿಂತ ಹೆಚ್ಚು

D) Variable losses is equal to constant losses | ವೇರಿಯಬಲ್ ನಷ್ಟಗಳು ನಿರಂತರ ನಷ್ಟಗಳಿಗೆ ಸಮಾನವಾಗಿರುತ್ತದೆ

26. Which type of DC generator is used for electroplating process? | ಎಲೆಕ್ಟ್ರೋಪ್ಲೇಟಿಂಗ್ ಪ್ರಕ್ರಿಯೆಗೆ ಯಾವ ರೀತಿಯ DC ಜನರೇಟರ್ ಅನ್ನು ಬಳಸಲಾಗುತ್ತದೆ?

A) Over Compounded Cumulative generator | ಸಂಚಿತ ಸಂಯುಕ್ತ ಜನರೇಟರ್

B) Shunt generator | ಷಂಟ್ ಜನರೇಟರ್

C) Differential compound generator | ಡಿಫರೆನ್ಷಿಯಲ್ ಸಂಯುಕ್ತ ಜನರೇಟರ್

D) Series generator | ಸರಣಿ ಜನರೇಟರ್

27. Which is the correct sequence of operation to be performed while using the fire extinguisher? | ಅಗ್ನಿಶಾಮಕವನ್ನು ಬಳಸುವಾಗ ನಿರ್ವಹಿಸಬೇಕಾದ ಸರಿಯಾದ ಕಾರ್ಯಾಚರಣೆಯ ಅನುಕ್ರಮ ಯಾವುದು?


A) Push, Arrange, Squeeze, Sweep | ಪುಷ್, ಜೋಡಿಸು, ಸ್ವೀಪ್, ಸ್ವೀಪ್

B) Pull, Aim, Squeeze, Sweep | ಪುಲ್, ಏಮ್, ಸ್ವೀಜ್, ಸ್ವೀಪ್

C) Pull, Aim, Sweep, Squeeze | ಪುಲ್, ಏಮ್, ಸ್ವೀಪ್, ಸ್ವೀಪ್

D) Push, Arrange, Sweep, Sequence | ಪುಷ್, ಹೊಂದಿಸು, ಸ್ವೀಪ್, ಸೀಕ್ವೆನ್ಸ್

28. What is the name of the safety sign as shown in the figure? | ಚಿತ್ರದಲ್ಲಿ ತೋರಿಸಿರುವಂತೆ ಸುರಕ್ಷತಾ ಚಿಹ್ನೆಯ ಹೆಸರೇನು?



A) Warning sign | ಎಚ್ಚರಿಕೆ ಸಂಕೇತ

B) Mandatory sign | ಕಡ್ಡಾಯ ಚಿಹ್ನೆ

C) Information sign | ಮಾಹಿತಿ ಚಿಹ್ನೆ

D) Prohibition sign | ನಿಷೇಧ ಚಿಹ್ನೆ

29. What is the name of the compound generator, if the shunt field is connected in parallel with armature? | ಆರ್ಮೇಚರ್‌ನೊಂದಿಗೆ ಸಮಾನಾಂತರವಾಗಿ ಷಂಟ್ ಫೀಲ್ಡ್ ಅನ್ನು ಸಂಪರ್ಕಿಸಿದರೆ, ಸಂಯುಕ್ತ ಜನರೇಟರ್ ಹೆಸರೇನು?

A) Long shunt compound generator | ಉದ್ದ ಷಂಟ್ ಕಾಂಪೌಂಡ್ ಜನರೇಟರ್

B) Shunt generator | ಷಂಟ್ ಜನರೇಟರ್

C) Separately excited generator | ಪ್ರತ್ಯೇಕವಾಗಿ ಎಕ್ಸೈಟೆಡ್ ಜನರೇಟರ್

D) Short shunt compound generator | ಅಲ್ಟರ್ ಷಂಟ್ ಕಾಂಪೌಂಡ್ ಜನರೇಟರ್

30. Which type of D.C Generator works in absence of residual magnetism? | ಯಾವ ರೀತಿಯ DC ಜನರೇಟರ್ ಉಳಿದಿರುವ ಕಾಂತೀಯತೆಯ ಅನುಪಸ್ಥಿತಿಯಲ್ಲಿ ಕೆಲಸ ಮಾಡುತ್ತದೆ?

A) Compound generator | ಸಂಯುಕ್ತ ಜನರೇಟರ್

B) Series generator | ಸರಣಿ ಜನರೇಟರ್

C) Separately excited generator | ಪ್ರತ್ಯೇಕವಾಗಿ ಉತ್ಪನ್ನ ಜನರೇಟರ್

D) Shunt generator | ಷಂಟ್ ಜನರೇಟರ್

31. Which artificial respiration method is to be performed to the victim with injuries on the chest and belly? | ಎದೆ ಮತ್ತು ಹೊಟ್ಟೆಯ ಮೇಲೆ ಗಾಯಗಳಿಂದಾಗಿ ಬಲಿಪಶುಕ್ಕೆ ಯಾವ ಕೃತಕ ಉಸಿರಾಟ ವಿಧಾನವನ್ನು ನಿರ್ವಹಿಸಬೇಕು?

A) Holger - Nelson's back pressure method | ಹೋಲ್ಜರ್ - ನೆಲ್ಸನ್ ಬೆನ್ನು ಒತ್ತಡದ ವಿಧಾನ

B) Schafer's method | ಸ್ಕಾಫರ್ ವಿಧಾನ

C) Mouth to mouth method | ಬಾಯಿಯಿಂದ ಬಾಯಿಗೆ ವಿಧಾನ

D) Nelson's arm-lift back pressure method | ನೆಲ್ಸನ್ ಆರ್ಮ್-ಲಿಫ್ಟ್ ಬ್ಯಾಕ್ ಒತ್ತಡದ ವಿಧಾನ

32. What is the name of the tool as shown in the figure? | ಚಿತ್ರದಲ್ಲಿ ತೋರಿಸಿರುವಂತೆ ಸಾಧನದ ಹೆಸರೇನು?



A) Wire stripper | ಬಿಸಿ ಪದಾರ್ಥಗಳನ್ನು ಹಿಡಿದಿಟ್ಟುಕೊಳ್ಳುವುದು

B) Gimlet | ಬೊಲ್ ಮತ್ತು ಬೀಜಗಳನ್ನು ಬಿಡಿಬಿಡಿಯಾಗಿ ಬಿಗಿಗೊಳಿಸುವುದು

C) Side cutter | ತಂತಿಗಳನ್ನು ಕಡಿಯುವುದು ಮತ್ತು ತಿರುಗಿಸುವುದು

D) Pincer | ತಂತಿಗಳನ್ನು ಕತ್ತರಿಸುವುದು ಮತ್ತು ತಿರುಗಿಸುವುದು ಮರದಿಂದ ಉಗುರುಗಳನ್ನು ತೆಗೆಯುವುದು

33. Which is the waste disposal method that produces the heat? | ಶಾಖವನ್ನು ಉತ್ಪತ್ತಿ ಮಾಡುವ ತ್ಯಾಜ್ಯ ವಿಲೇವಾರಿ ವಿಧಾನ ಯಾವುದು?

A) Waste compaction | ತ್ಯಾಜ್ಯ ಸಂಕೋಚನ

B) Landfill | ಲ್ಯಾಂಡ್‌ಫಿಲ್

C) Incineration | ಭಸ್ಮೀಕರಣ

D) Composting | ಮಿಶ್ರಗೊಬ್ಬರ

34. What is the property of wave winding in D.C generator? | DC ಜನರೇಟರ್‌ನಲ್ಲಿ ತರಂಗ ವಿಂಡಿಂಗ್ ಆಸ್ತಿ ಏನು?

A) High current low voltage | ಹೆಚ್ಚು ಪ್ರಸ್ತುತ ಕಡಿಮೆ ವೋಲ್ಟೇಜ್

B) Low current high voltage | ಕಡಿಮೆ ಪ್ರಸ್ತುತ ಉನ್ನತ ವೋಲ್ಟೇಜ್

C) Low current low voltage | ಕಡಿಮೆ ಪ್ರಸ್ತುತ ಕಡಿಮೆ ವೋಲ್ಟೇಜ್

D) High current high voltage | ಹೆಚ್ಚು ಕರೆಂಟ್ ಹೆಚ್ಚು ವೋಲ್ಟೇಜ್

35. Which energy is converted into electrical energy by the generator? | ಜನರೇಟರ್‌ನಿಂದ ಯಾವ ಶಕ್ತಿಯನ್ನು ವಿದ್ಯುತ್ ಶಕ್ತಿಯನ್ನಾಗಿ ಪರಿವರ್ತಿಸಲಾಗುತ್ತದೆ?

A) Heat | ಶಾಖ

B) Chemical | ರಾಸಾಯನಿಕ

C) Mechanical | ಯಾಂತ್ರಿಕ

D) Kinetic | ಚಲನಶಾಸ್ತ್ರ

36. Which is the golden hour for the victim injured on head with risk of dying? | ಸಾಯುವ ಅಪಾಯದೊಂದಿಗೆ ತಲೆಯ ಮೇಲೆ ಗಾಯಗೊಂಡ ಬಲಿಪಶುಕ್ಕೆ ಯಾವ ಸುವರ್ಣ ಗಂಟೆಯಾಗಿದೆ?

A) First 45 minutes

B) First 60 minutes

C) First 15 minutes

D) First 30 minutes

37. How the interpoles are connected in a DC generator? | DC ಜನರೇಟರ್‌ನಲ್ಲಿ ಇಂಟರ್‌ಪೋಲ್‌ಗಳನ್ನು ಹೇಗೆ ಸಂಪರ್ಕಿಸಲಾಗಿದೆ?

A) In parallel with armature | ಆರ್ಮೇಚರ್ ಸಮಾನಾಂತರವಾಗಿ

B) In series with armature | ಆರ್ಮೇಚರ್ ಸರಣಿಯಲ್ಲಿ

C) In parallel with shunt field | ಷಂಟ್ ಕ್ಷೇತ್ರದೊಂದಿಗೆ ಸಮಾನಾಂತರವಾಗಿ

D) In series with shunt field | ಷಂಟ್ ಕ್ಷೇತ್ರದೊಂದಿಗೆ ಸರಣಿಯಲ್ಲಿ

38. Which Personal Protective Equipment (PPE) is used for the protection from fumes? | ಹೊಗೆಯಿಂದ ರಕ್ಷಿಸಲು ಯಾವ ವೈಯಕ್ತಿಕ ಸುರಕ್ಷಾ ಸಲಕರಣೆ (PPE) ಅನ್ನು ಬಳಸಲಾಗುತ್ತದೆ?

A) Apron | ಅಪ್ರಾನ್

B) Goggles | ಕನ್ನಡಕಗಳು

C) Respirator | ರೆಸ್ಪಿರೇಟರ್

D) Ear muff | ಇಯರ್ ಮಫ್

39. Why the terminal voltage of the DC shunt generator decreases if the load increases? | ಲೋಡ್ ಹೆಚ್ಚಾದರೆ DC ಷಂಟ್ ಜನರೇಟರ್‌ನ ಟರ್ಮಿನಲ್ ವೋಲ್ಟೇಜ್ ಏಕೆ ಕಡಿಮೆಯಾಗುತ್ತದೆ?

A) Because of decrease in brush voltage drop | ಬ್ರಷ್ ವೋಲ್ಟೇಜ್ ಡ್ರಾಪ್ ಕಡಿಮೆಯಾದ ಕಾರಣ

B) Because of armature reaction effect | ಶ್ವಾಸ ಪ್ರಕ್ರಿಯೆಯ ಪರಿಣಾಮದ ಕಾರಣ

C) Due to increase in shunt field inductance | ಷಂಟ್ ಫೀಲ್ಡ್ ಇಂಡಕ್ಟನ್ಸ್ ಹೆಚ್ಚಾದ ಕಾರಣದಿಂದಾಗಿ

D) Due to decrease in armature resistance | ಆರ್ಮೇಚರ್ ಪ್ರತಿರೋಧ ಕಡಿಮೆಯಾದ ಕಾರಣ

40. Which disposal method of waste save lot of energy? | ತ್ಯಾಜ್ಯ ವಿಲೇವಾರಿ ವಿಧಾನವು ಬಹಳಷ್ಟು ಶಕ್ತಿಯನ್ನು ಉಳಿಸುತ್ತದೆ?

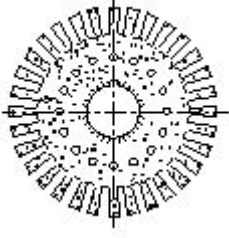
A) Incineration | ಭಸ್ಮೀಕರಣ

B) Recycling | ಮರುಬಳಕೆ

C) Land fill | ಜಮೀನು ಭರ್ತಿ

D) Composting | ಸಂಯೋಜನೆ

41. What is the name of the part of DC generator as shown in the figure? | ಚಿತ್ರದಲ್ಲಿ ತೋರಿಸಿರುವಂತೆ DC ಜನರೇಟರ್‌ನ ಭಾಗದ ಹೆಸರೇನು?



- A) Armature core lamination | ಆರ್ಮೇಚರ್ ಕೋರ್ ಲ್ಯಾಮಿನೇಷನ್
- B) Side end plates | ಸೈಡ್ ಎಂಡ್ ಪ್ಲೇಟ್‌ಗಳು
- C) Commutator segment | ಕಮ್ಯುಟೇಟರ್ ವಿಭಾಗ
- D) Pole shoe lamination | ಪೋಲ್ ಶೂ ಲ್ಯಾಮಿನೇಷನ್

42. What is starving in extinguishing of fire? | ಬೆಂಕಿಯನ್ನು ಆವರಿಸುವಲ್ಲಿ ಸ್ವಲ್ಪವಾದ ಏನು ಇದೆ?

- A) Using water to cool the fire | ಬೆಂಕಿಯನ್ನು ತಣಗಾಗಲು ನೀರನ್ನು ಬಳಸಿ
- B) Adding fuel to the fire | ಬೆಂಕಿಗೆ ಇಂಧನವನ್ನು ಸೇರಿಸುವುದು
- C) Removing fuel element from the fire | ಬೆಂಕಿಯಿಂದ ಇಂಧನ ಅಂಶವನ್ನು ತೆಗೆದುಹಾಕಲಾಗುತ್ತದೆ
- D) Preventing oxygen supply to the fire | ಬೆಂಕಿಗೆ ಆಮ್ಲಜನಕದ ಪೂರೈಕೆಯನ್ನು ತಡೆಗಟ್ಟುವುದು

43. What is the cause for sparking in brushes of DC generator? | DC ಜನರೇಟರ್ ಕುಂಚಗಳಲ್ಲಿ ಭಾರೀ ಚುರುಕುಗೊಳಿಸುವ ಕಾರಣ ಏನು?

- A) Position of MNA and GNA changed | MNA ಮತ್ತು GNA ಸ್ಥಾನ ಬದಲಾಗಿದೆ
- B) Open circuit in armature winding | ಆರ್ಮೇಚರ್ ವಿಂಡಿಂಗ್‌ನಲ್ಲಿ ಓಪನ್ ಸರ್ಕ್ಯೂಟ್
- C) Open circuit in field winding | ಫೀಲ್ಡ್ ವಿಂಡಿಂಗ್‌ನಲ್ಲಿ ಓಪನ್ ಸರ್ಕ್ಯೂಟ್
- D) Normal spring tension of brushes | ಬ್ರಷ್ ಗಳಲ್ಲಿ ಸಾಮಾನ್ಯ ಸ್ಪ್ರಿಂಗ್ ಟೆನ್ಷನ್

44. Calculate the emf generated in a 4 pole DC generator with simplex wave wound armature has 1020 conductors and driven at a speed of 1500 rpm, the flux / pole is 0.007 webers? | ಸಿಂಪ್ಲ್ ವೇವ್ ತರಂಗ ಗಾಯದ ಆರ್ಮೇಚರ್‌ನೊಂದಿಗಿನ 4 ಪೋಲ್ DC ಜನರೇಟರ್‌ನಲ್ಲಿ ಎಮ್‌ಎಫ್ ಅನುಕರಿಸಿದ 1020 ಕಂಡಕ್ಟರ್‌ಗಳನ್ನು ಹೊಂದಿದೆ ಮತ್ತು 1500 ಆರ್ಪಿಎಮ್ ವೇಗದಲ್ಲಿ ಚಾಲಿತವಾಗಿದ್ದು, ಫ್ಲಕ್ಸ್ / ಪೋಲ್ 0.007 ವೀಬರ್ಸ್ ಆಗಿದೆಯೇ?

- A) 357 V
- B) 243 V
- C) 428 V
- D) 178 V

45. Which pliers is used for making the wire hooks and loops? | ವೈರ್ ಹುಕುಗಳು ಮತ್ತು ಲೂಪ್‌ಗಳನ್ನು ತಯಾರಿಸಲು ಯಾವ ಪ್ಲಿಯರ್ಸ್ ಅನ್ನು ಬಳಸಲಾಗುತ್ತದೆ?

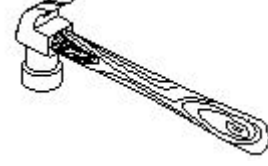
- A) Flat nose pliers | ಫ್ಲಾಟ್ ನೋಸ್ ಪ್ಲಿಯರ್ಸ್
- B) Round nose pliers | ರೌಂಡ್ ನೋಸ್ ಪ್ಲಿಯರ್ಸ್
- C) Diagonal cutting pliers | ಡಯಾಗನಲ್ ಕಟಿಂಗ್ ಪ್ಲಿಯರ್ಸ್
- D) Long nose pliers | ಲಾಂಗ್ ನೋಸ್ ಪ್ಲಿಯರ್ಸ್

46. Calculate the induced emf of 4 pole dynamo having 1000 rpm lap wound and total number of conductors is 600, the

flux / pole is 0.064 wb? | 4 ಪೋಲ್ ಡೈನಮೋದ ಪ್ರಚೋದಿತ ಎಮ್‌ಎಫ್ ಅನ್ನು 1000 ಆರ್ಪಿಎಂ ಲ್ಯಾಪ್ ಗಾಯವನ್ನು ಹೊಂದಿರುವ ಮತ್ತು ಒಟ್ಟು ಸಂಖ್ಯೆಯ ವಾಹಕಗಳು 600 ಆಗಿದೆ, ಫ್ಲಕ್ಸ್ / ಪೋಲ್ 0.064 ಡಬ್ಲ್ಯೂಬಿ?

- A) 640V
- B) 480V
- C) 160V
- D) 320V

47. What is the name of the hammer as shown in the figure? | ಚಿತ್ರದಲ್ಲಿ ತೋರಿಸಿರುವಂತೆ ಸುತ್ತಿಗೆಯ ಹೆಸರೇನು?

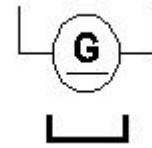


- A) Cross peen hammer | ಕ್ರಾಸ್ ಪೆನ್ ಸುತ್ತಿಗೆ
- B) Ball peen hammer | ಬಾಲ್ ಪೆನ್ ಸುತ್ತಿಗೆ
- C) Straight peen hammer | ಸ್ಟ್ರೈಟ್ ಪೆನ್ ಸುತ್ತಿಗೆ
- D) Claw hammer | ಕ್ಲಾ ಸುತ್ತಿಗೆ

48. Which type of DC generator is used for long distance distribution lines? | ದೂರದ ವಿತರಣಾ ಮಾರ್ಗಗಳಿಗೆ ಯಾವ ರೀತಿಯ DC ಜನರೇಟರ್ ಅನ್ನು ಬಳಸಲಾಗುತ್ತದೆ?

- A) Differential short shunt compound generator | ಡಿಫರೆನ್ಷಿಯಲ್ ಶಾರ್ಟ್ ಸಂಟರ್ ಕಾಂಪೌಂಡ್ ಜನರೇಟರ್
- B) Differential compound generator | ಡಿಫರೆನ್ಷಿಯಲ್ ಸಂಯುಕ್ತ ಜನರೇಟರ್
- C) Shunt generator | ಷಂಟರ್ ಜನರೇಟರ್
- D) Cumulative compound generator | ಸಂಚಿತ ಸಂಯುಕ್ತ ಜನರೇಟರ್

49. What is the name of the symbol as shown in figure? | ಚಿತ್ರದಲ್ಲಿ ತೋರಿಸಿರುವಂತೆ ಚಿಹ್ನೆಯ ಹೆಸರೇನು?



- A) DC 2 wire permanent magnet generator | DC 2 ವೈರ್ ಶಾಶ್ವತ ಮ್ಯಾಗ್ನೆಟ್ ಜನರೇಟರ್
- B) DC 2 wire electro magnet generator | DC 2 ವೈರ್ ವಿದ್ಯುತ್ಕಾಂತ ಜನರೇಟರ್
- C) DC 2 wire series generator | DC 2 ತಂತಿ ಸೀರೀಸ್ ಜನರೇಟರ್
- D) DC 2 wire compound generator | DC 2 ತಂತಿ ಕಾಂಪೌಂಡ್ ಜನರೇಟರ್

50. Why solid pole shoes are used in D.C generator? | DC ಜನರೇಟರ್‌ನಲ್ಲಿ ಏಕೆ ಘನ ಪೋಲ್ ಶೂಸ್ ಬಳಸಲಾಗುತ್ತದೆ?

- A) To reduce the reluctance of magnetic path | ಆಯಸ್ಕಾಂತೀಯ ಪಥವನ್ನು ಇಷ್ಟಪಡದಿರಲು
- B) To reduce the copper loss | ತಾಮ್ರದ ನಷ್ಟವನ್ನು ಕಡಿಮೆ ಮಾಡಲು
- C) To decrease the residual magnetism | ಉಳಿಕೆ ಕಾಂತೀಯತೆಯನ್ನು ಕಡಿಮೆ ಮಾಡಲು
- D) To increase the residual magnetism | ಉಳಿಕೆ ಕಾಂತೀಯತೆಯನ್ನು ಹೆಚ್ಚಿಸಲು