

ITI Quiz - 26-Apr-2026

07:40 PM

Q. ID: ITISKILL0471JA

April 2026

Answer Key

Duration: 30 Mins

Total Marks: 24

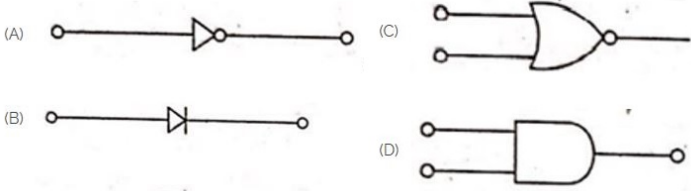
Q.ID: ITISKILL0471JA

1. Voltage less than 250 volt is called _____. | 250 ವೋಲ್ಟ್‌ಗಿಂತ ಕಡಿಮೆ ವೋಲ್ಟೇಜ್ ಅನ್ನು _____ ಎಂದು ಕರೆಯಲಾಗುತ್ತದೆ.

- A) MT (Medium Tension) | MT (ಮಧ್ಯಮ ಒತ್ತಡ) | B) HT (High Tension) | HT (ಅಧಿಕ ಒತ್ತಡ)
C) LT (Low Tension) | LT (ಕಡಿಮೆ ಒತ್ತಡ) | D) EHT (Extra High Tension) | EHT (ಹೆಚ್ಚುವರಿ ಅಧಿಕ ಒತ್ತಡ)

Answer: C) LT (Low Tension) | LT (ಕಡಿಮೆ ಒತ್ತಡ)

2. Which is the NOT gate in the following picture? | ಕೆಳಗಿನ ಚಿತ್ರದಲ್ಲಿ NOT ಗೇಟ್ ಯಾವುದು?



- A) C | B) D
C) B | D) A

Answer: D) A

3. Which part regulates the heat in automatic iron? | ಆಟೋಮೇಟಿಕ್ ಐರನ್‌ನಲ್ಲಿನ ಶಾಖವನ್ನು ಯಾವ ಭಾಗವು ನಿಯಂತ್ರಿಸುತ್ತದೆ?

- A) Pressure plate | ಪ್ರೆಶರ್ ಪ್ಲೇಟ್ | B) Thermostatic switch | ಥರ್ಮೋಸ್ಟಾಟಿಕ್ ಸ್ವಿಚ್
C) Asbestos sheet | ಆಸ್ಟೆಸ್ಟೋಸ್ ಶೀಟ್ | D) Heating element | ಹೀಟಿಂಗ್ ಎಲಿಮೆಂಟ್

Answer: B) Thermostatic switch | ಥರ್ಮೋಸ್ಟಾಟಿಕ್ ಸ್ವಿಚ್

4. Which device is used to start and stop a motor? | ಮೋಟಾರ್ ಅನ್ನು ಪ್ರಾರಂಭಿಸಲು ಮತ್ತು ನಿಲ್ಲಿಸಲು ಯಾವ ಸಾಧನವನ್ನು ಬಳಸಲಾಗುತ್ತದೆ?

- A) Stator | ಸ್ಟೇಟರ್ | B) Rotor | ರೋಟರ್
C) Starter | ಸ್ಟಾರ್ಟರ್ | D) Slip ring | ಸ್ಲಿಪ್ ರಿಂಗ್

Answer: C) Starter | ಸ್ಟಾರ್ಟರ್

5. What is the name of the gate | ಗೇಟ್ ಹೆಸರೇನು?



- A) Ex-NOR Gate | Ex-NOR ಗೇಟ್ | B) NOT Gate | NOT ಗೇಟ್
C) AND Gate | AND ಗೇಟ್ | D) OR Gate | OR ಗೇಟ್

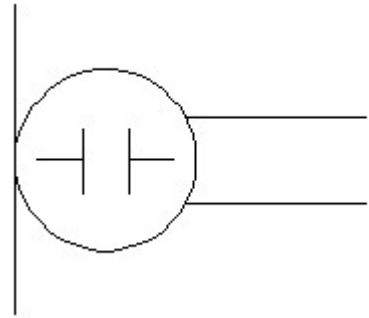
Answer: C) AND Gate | AND ಗೇಟ್

6. Which is the static machine that increase or decrease the AC voltage? | AC ವೋಲ್ಟೇಜ್ ಅನ್ನು ಹೆಚ್ಚಿಸುವ ಅಥವಾ ಕಡಿಮೆ ಮಾಡುವ ಸ್ಟಾಟಿಕ್ ಯಂತ್ರ ಯಾವುದು?

- A) Transformer | ಟ್ರಾನ್ಸ್‌ಫಾರ್ಮರ್ | B) Generator | ಜನರೇಟರ್
C) Induction motor | ಇಂಡಕ್ಷನ್ ಮೋಟಾರ್ | D) Alternator | ಆಲ್ಟರ್ನೇಟರ್

Answer: A) Transformer | ಟ್ರಾನ್ಸ್‌ಫಾರ್ಮರ್

7. What is the name of the symbol? | ಚಿಹ್ನೆಯ ಹೆಸರೇನು?



- A) Microphone | ಮೈಕ್ರೋಫೋನ್ | B) Loud speaker | ಲೌಡ್ ಸ್ಪೀಕರ್
C) Dynamic microphone | ಡೈನಾಮಿಕ್ ಮೈಕ್ರೋಫೋನ್ | D) Condenser microphone | ಕಂಡೆನ್ಸರ್ ಮೈಕ್ರೋಫೋನ್

Answer: D) Condenser microphone | ಕಂಡೆನ್ಸರ್ ಮೈಕ್ರೋಫೋನ್

8. Which is nose pliers? | ನೋಸ್ ಪ್ಲಿಯರ್ ಯಾವುದು?



- A) C
C) D
B) B
D) A

Answer: A) C


9. Which is the single pole MCB? | ಸಿಂಗಲ್ ಪೋಲ್ MCB ಯಾವುದು?



- A) C
C) D
B) B
D) A

Answer: A) C

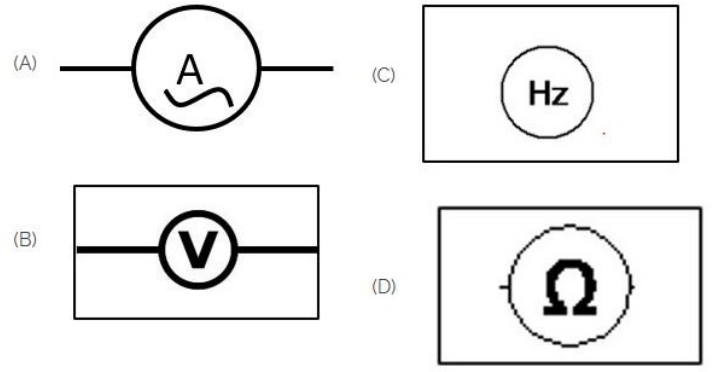
10. Identify the switch in the given picture. | ನೀಡಿರುವ ಚಿತ್ರದಲ್ಲಿ ಸ್ವಿಚ್ ಅನ್ನು ಗುರುತಿಸಿ.



- A) Tumbler Switch | ಟಂಬ್ಲರ್ ಸ್ವಿಚ್
B) Intermediate Switch | ಮಧ್ಯಂತರ ಸ್ವಿಚ್
C) Toggle Switch | ಟಾಗಲ್ ಸ್ವಿಚ್
D) Flux type switch | ಫ್ಲಕ್ಸ್ ಪ್ರಕಾರದ ಸ್ವಿಚ್

Answer: A) Tumbler Switch | ಟಂಬ್ಲರ್ ಸ್ವಿಚ್

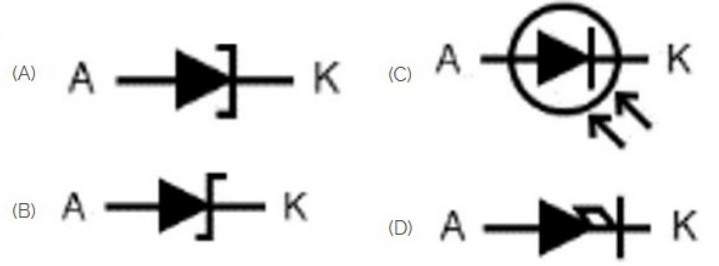
11. Which of the following is AC ammeter? | ಈ ಕೆಳಗಿನವುಗಳಲ್ಲಿ ಯಾವುದು AC ಅಮ್ಮೀಟರ್ ಆಗಿದೆ?



- A) A
C) C
B) B
D) D

Answer: A) A

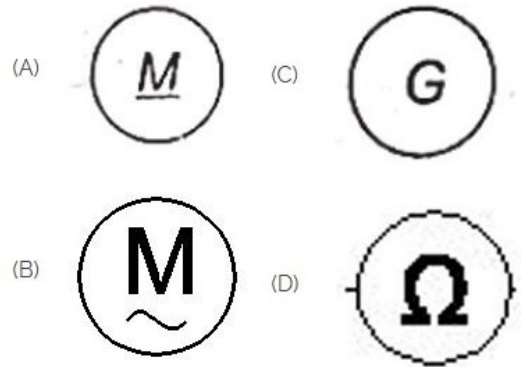
12. Which is photo diode? | ಫೋಟೋ ಡಯೋಡ್ ಯಾವುದು?



- A) C
C) D
B) A
D) B

Answer: A) C

13. Which is a symbol of DC motor? | DC ಮೋಟರ್‌ನ ಸಂಕೇತ ಯಾವುದು?



- A) A
C) B
B) C
D) D

Answer: A) A


14. Which is protective device? | ರಕ್ಷಣಾತ್ಮಕ ಸಾಧನ ಯಾವುದು?

- A) Resistor | ರೆಸಿಸ್ಟರ್
C) Magnet | ಮ್ಯಾಗ್ನೆಟ್
B) Fuse | ಫ್ಯೂಸ್
D) Capacitor | ಕೆಪಾಸಿಟರ್

Answer: B) Fuse | ಫ್ಯೂಸ್

15. Which is ball peen hammer? | ಬಾಲ್ ಪೀನ್ ಸುತ್ತಿಗೆ ಯಾವುದು?

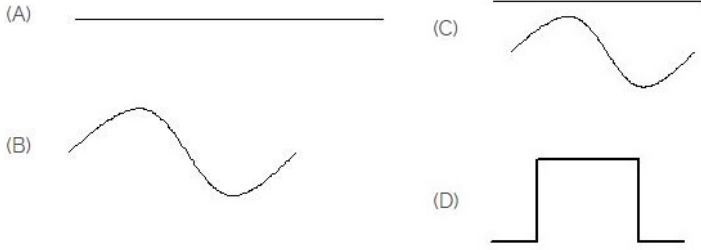
Answer: B) Porcelain clay | ಪಿಂಗಾಣಿ ಮಣ್ಣಿನ



- A) A
C) B
B) C
D) D

Answer: C) B


16. Identify the symbol for direct and alternating current. | ನೇರ ಮತ್ತು ಪರ್ಯಾಯ ಪ್ರವಾಹದ ಚಿಹ್ನೆಯನ್ನು ಗುರುತಿಸಿ.



- A) B
C) C
B) D
D) A

Answer: C) C

17. Choose the symbol for main fuse board without switches (P). | ಸ್ವಿಚ್‌ಗಳು (ಪಿ) ಇಲ್ಲದೆ ಮುಖ್ಯ ಫ್ಯೂಸ್ ಬೋರ್ಡ್‌ಗಾಗಿ ಚಿಹ್ನೆಯನ್ನು ಆರಿಸಿ.



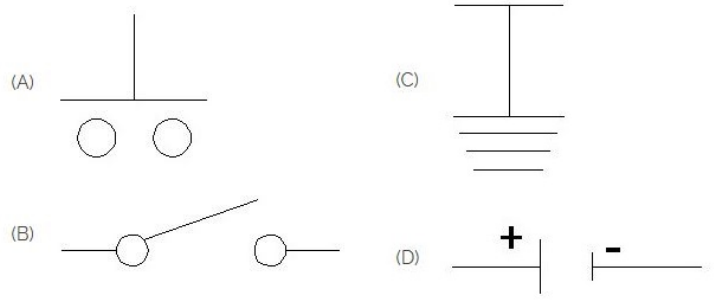
- A) D
C) A
B) C
D) B

Answer: B) C

18. What is the material of line insulator? | ಲೈನ್ ಇನ್ಸುಲೇಟರ್‌ನ ಮೇಟೀರಿಯಲ್ ಯಾವುದು?

- A) Rubber | ರಬ್ಬರ್
C) Copper | ತಾಮ್ರ
B) Porcelain clay | ಪಿಂಗಾಣಿ ಮಣ್ಣಿನ
D) Aluminium | ಅಲ್ಯೂಮಿನಿಯಂ

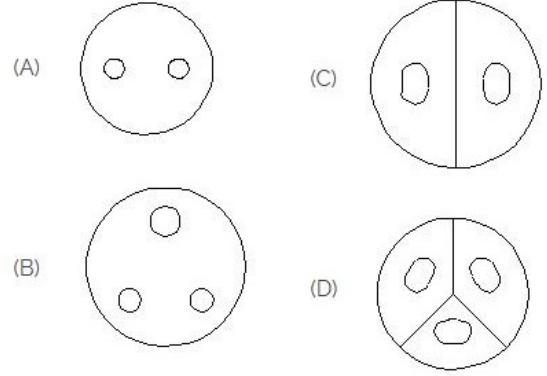
19. Which is the symbol of earth? | ಭೂಮಿಯ ಸಂಕೇತ ಯಾವುದು?



- A) C
C) D
B) B
D) A

Answer: A) C

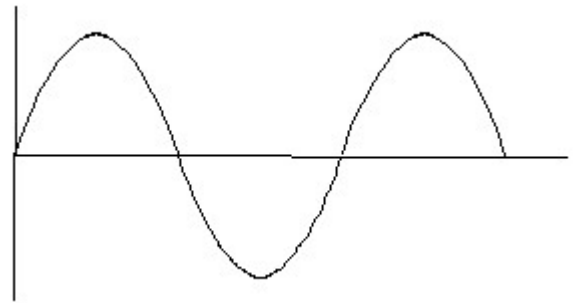
20. Identify the 3 pin socket. | 3 ಪಿನ್ ಸಾಕೆಟ್ ಅನ್ನು ಗುರುತಿಸಿ.



- A) C
C) D
B) A
D) B

Answer: D) B

21. Identify the wave form. | ವೇವ್ ಫಾರ್ಮ್ ವನ್ನು ಗುರುತಿಸಿ.



- A) Triangle wave | ತ್ರಿಕೋನ ವೇವ್
C) Saw-tooth wave | ಸಾ-ಟೂತ್ ವೇವ್
B) Sine wave | ಸೈನ್ ವೇವ್
D) Square wave | ಸ್ಕ್ವೇರ್ ವೇವ್

Answer: B) Sine wave | ಸೈನ್ ವೇವ್

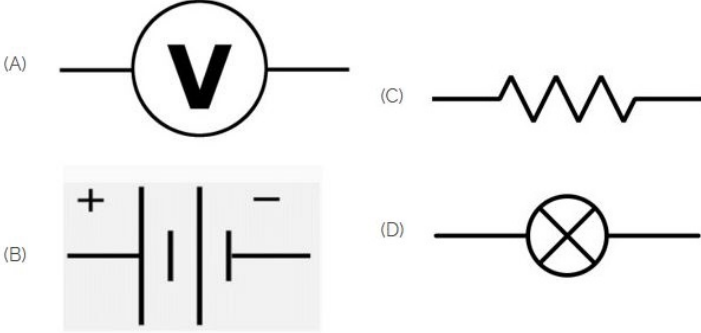
22. Identify the given symbol | ನೀಡಿರುವ ಚಿಹ್ನೆಯನ್ನು ಗುರುತಿಸಿ



- A) DC
B) Ohms | ಓಮ್ಸ್
C) Inductance | ಇಂಡಕ್ಟೆನ್ಸ್
D) AC

Answer: D) AC

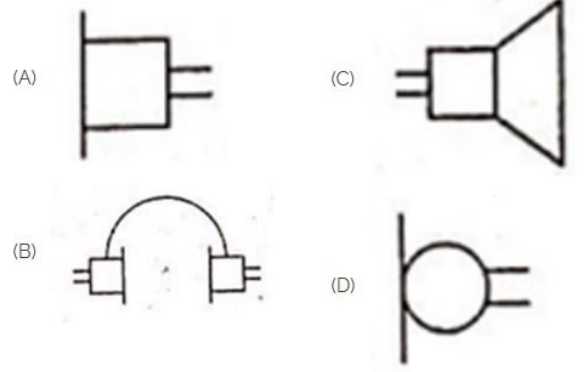
23. Identify the symbol of battery. | ಬ್ಯಾಟರಿಯ ಚಿಹ್ನೆಯನ್ನು ಗುರುತಿಸಿ.



- A) D
B) A
C) B
D) C

Answer: C) B

24. Identify the symbol used for microphone (general) in electrical and electronic circuits. | ಎಲೆಕ್ಟ್ರಿಕಲ್ ಮತ್ತು ಎಲೆಕ್ಟ್ರಾನಿಕ್ ಸರ್ಕ್ಯೂಟ್‌ಗಳಲ್ಲಿ ಮೈಕ್ರೋಫೋನ್ (ಸಾಮಾನ್ಯ) ಗಾಗಿ ಬಳಸುವ ಚಿಹ್ನೆಯನ್ನು ಗುರುತಿಸಿ.



- A) D
B) C
C) A
D) B

Answer: A) D