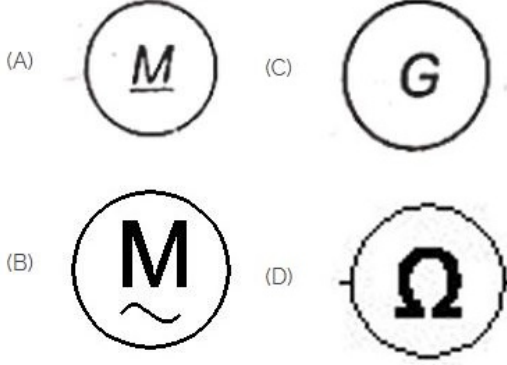


Duration: 30 Mins

Total Marks: 10

Q.ID: ITISKILL01220D

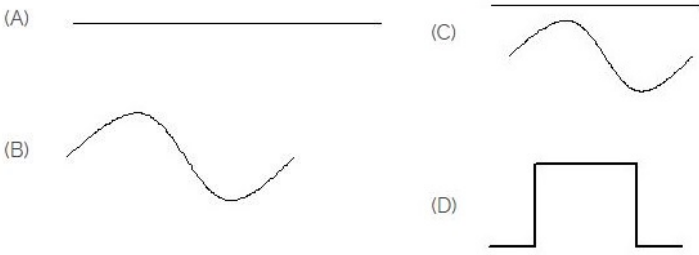
1. Which is a symbol of DC motor? | DC ಮೋಟರ್‌ನ ಸಂಕೇತ ಯಾವುದು?



- A) D B) A
C) C D) B

Answer: B) A


2. Identify the symbol for direct and alternating current. | ನೇರ ಮತ್ತು ಪರ್ಯಾಯ ಪ್ರವಾಹದ ಚಿಹ್ನೆಯನ್ನು ಗುರುತಿಸಿ.



- A) D B) B
C) A D) C

Answer: D) C

3. Choose the symbol for main fuse board without switches (P). | ಸ್ವಿಚ್‌ಗಳು (ಪಿ) ಇಲ್ಲದೆ ಮುಖ್ಯ ಫ್ಯೂಸ್ ಬೋರ್ಡ್‌ಗಾಗಿ ಚಿಹ್ನೆಯನ್ನು ಆರಿಸಿ.



- A) C B) B
C) A D) D

Answer: A) C


4. Identify the given symbol | ನೀಡಿರುವ ಚಿಹ್ನೆಯನ್ನು ಗುರುತಿಸಿ



- A) DC B) AC
C) Inductance | ಇಂಡಕ್ಟೆನ್ಸ್ D) Ohms | ಓಮ್ಸ್

Answer: B) AC

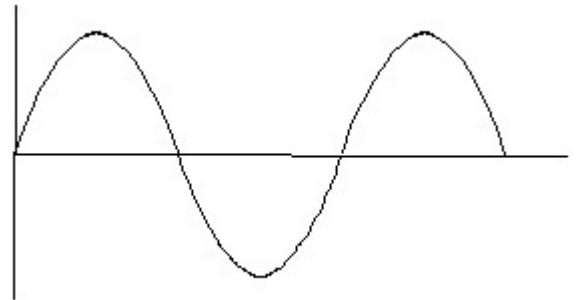
5. Which is ball peen hammer? | ಬಾಲ್ ಪೀನ್ ಸುತ್ತಿಗೆ ಯಾವುದು?



- A) C B) A
C) B D) D

Answer: C) B

6. Identify the wave form. | ವೇವ್ ಫಾರ್ಮ್ ವನ್ನು ಗುರುತಿಸಿ.



- A) Sine wave | ಸೈನ್ ವೇವ್ B) Square wave | ಸ್ಕ್ವೇರ್ ವೇವ್
C) Triangle wave | ತ್ರಿಕೋನ ವೇವ್ D) Saw-tooth wave | ಸಾ-ಟೂತ್ ವೇವ್

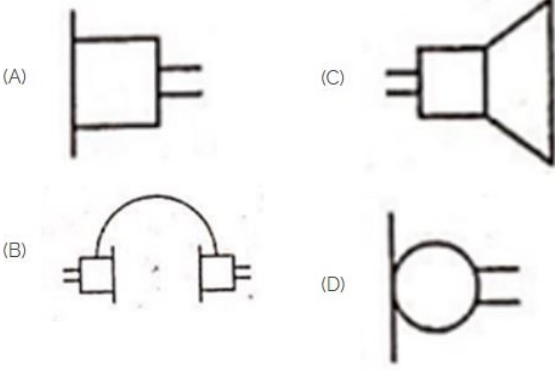
Answer: A) Sine wave | ಸೈನ್ ವೇವ್

7. What is the material of line insulator? | ಲೈನ್ ಇನ್ಸುಲೇಟರ್‌ನ ಮೇಟೀರಿಯಲ್ ಯಾವುದು?

- A) Copper | ತಾಮ್ರ
B) Aluminium | ಅಲ್ಯೂಮಿನಿಯಂ
C) Porcelain clay | ಪಿಂಗಾಣಿ ಮಣ್ಣಿನ
D) Rubber | ರಬ್ಬರ್

Answer: C) Porcelain clay | ಪಿಂಗಾಣಿ ಮಣ್ಣಿನ

8. Identify the symbol used for microphone (general) in electrical and electronic circuits. | ಎಲೆಕ್ಟ್ರಿಕಲ್ ಮತ್ತು ಎಲೆಕ್ಟ್ರಾನಿಕ್ ಸರ್ಕ್ಯೂಟ್‌ಗಳಲ್ಲಿ ಮೈಕ್ರೋಫೋನ್ (ಸಾಮಾನ್ಯ) ಗಾಗಿ ಬಳಸುವ ಚಿಹ್ನೆಯನ್ನು ಗುರುತಿಸಿ.



- A) B
B) D
C) C
D) A

Answer: B) D

9. Which device is used to start and stop a motor? | ಮೋಟಾರ್ ಅನ್ನು ಪ್ರಾರಂಭಿಸಲು ಮತ್ತು ನಿಲ್ಲಿಸಲು ಯಾವ ಸಾಧನವನ್ನು ಬಳಸಲಾಗುತ್ತದೆ?

- A) Rotor | ರೋಟರ್
B) Starter | ಸ್ಟಾರ್ಟರ್
C) Slip ring | ಸ್ಲಿಪ್ ರಿಂಗ್
D) Stator | ಸ್ಟೇಟರ್

Answer: B) Starter | ಸ್ಟಾರ್ಟರ್

10. Which is protective device? | ರಕ್ಷಣಾತ್ಮಕ ಸಾಧನ ಯಾವುದು?

- A) Capacitor | ಕೆಪಾಸಿಟರ್
B) Magnet | ಮ್ಯಾಗ್ನೆಟ್
C) Resistor | ರೆಸಿಸ್ಟರ್
D) Fuse | ಫ್ಯೂಸ್

Answer: D) Fuse | ಫ್ಯೂಸ್