

Govt ITI Talakadu

Monthly test Paper-1

Q. ID: ITISKILL3905GX | May 2026

55.00% 11 / 20

Student Name	Shiva kumar t r	Access Code	4862
Attempt No.	#2	Completion Time	12:41 PM
Rank	#2	Total Questions	20

11 SCORE

20 MAX MARKS

11 CORRECT

9 INCORRECT

Answer Review

Q1 **CORRECT** What is the unit of speed?

A. Metre/second

B. Metre/second²

C. Metre/minute

D. Metre/hour

Q2 **CORRECT** What is the formula for velocity?

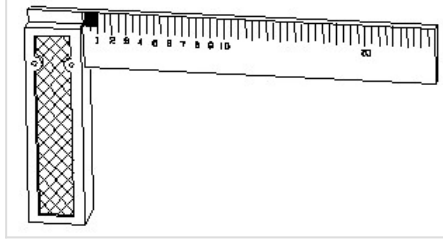
A. Distance covered/Time

B. Displacement/Time

C. Change in velocity/Time

D. Change of momentum/Time

Q3 **CORRECT** 1). Identify the name of tool? | ಉಪಕರಣದ ಹೆಸರನ್ನು ಗುರುತಿಸುವುದೇ?



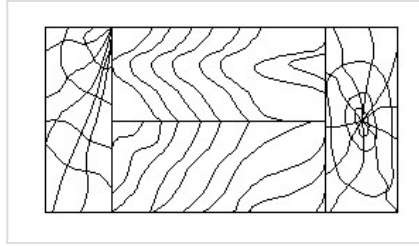
A. Try square | ಕ್ರೈ ಸ್ಕ್ವೇರ್ □

B. Surface gauge | ಮೇಲ್ಮೈ ಮಾಪಕ

C. Steel rule | ಸ್ಟೀಲ್ ರೂಲ್

D. Feeler gauge | ಫೀಲರ್ ಗೇಜ್

Q4 **INCORRECT** Identify the conventional symbol of material? | ವಸ್ತುವಿನ ಕನ್ವೆಷನಲ್ ಚಿಹ್ನೆಯನ್ನು ಗುರುತಿಸಿ?



A. Lead | ಲೀಡ್

B. Glass | ಗಾಜು □

C. Wood | ಮರ □

D. Paper | ಪೇಪರ್

Q5 **INCORRECT** What is the full form of CAN ? | ಜಿಪಿಎಸ್ಸಿ ನ ಪೂರ್ಣ ರೂಪ ಯಾವುದು?

A. Controller Area Network □

B. Computed Area Network □

C. Cross Area Network

D. Communication Around Net

Q6 **CORRECT** Which metal surface of larger and smaller area embedded in PCB ? | ಪಿಪಿಬಿ ಯಲ್ಲಿ ಅಳವಡಿಸಲಾಗಿರುವ ದೊಡ್ಡ ಮತ್ತು ಚಿಕ್ಕಪ್ರದೇಶದ ಯಾವ ಲೋಹದ ಮೇಲ್ಮೈ?

A. Trace | ಜಾಡಿನ

B. Planes | ವಿಮಾನಗಳು

C. Targets | ಗುರಿಗಳು

D. Regions | ಪ್ರದೇಶಗಳು

Q7 **CORRECT** Which method helps to find your position on earth where GPS satellite orbiting the earth are located? | ಭೂಮಿಯ ಸುತ್ತ ಸುತ್ತುವ GPS ಉಪಗ್ರಹ ಇರುವ ಭೂಮಿಯ ಮೇಲೆ ನಿಮ್ಮ ಸ್ಥಾನವನ್ನು ಕಂಡುಹಿಡಿಯಲು ಯಾವ ವಿಧಾನವು ಸಹಾಯ ಮಾಡುತ್ತದೆ?

A. Triangulation | ತ್ರಿಕೋನ

B. Research | ಸಂಶೋಧನೆ

C. Survey | ಸರ್ವೆ

D. Telematic | ಟೆಲಿಮ್ಯಾಟಿಕ್

Q8 **CORRECT** What is the full form of TPMS ? | ಟಿಪಿಎಂಎಸ್ ನ ಪೂರ್ಣ ರೂಪ ಯಾವುದು?

A. Tyre Pressure Master System

B. Tube Pressure Monitor Sensor

C. Tyre Pressure Monitoring system

D. Time Pressure Measure System

Q9 **INCORRECT** Which one is the Indian navigation system? | ಭಾರತೀಯ ನ್ಯಾವಿಗೇಷನ್ ಸಿಸ್ಟಮ್ ಯಾವುದು?

A. GPS

B. Navic | ನಾವಿಕ್

C. Galileo | ಗೆಲಿಲಿಯೋ

D. Glonass | ಗ್ಲೋನಾಸ್

Q10 **INCORRECT** What is the full form of PCB ? | ಪಿಸಿಬಿಯ ಪೂರ್ಣ ರೂಪ ಯಾವುದು?

A. Printed Circuit Board

B. Printer Circle Board

C. Paint Circuit Board

D. Paint Class Board

Q11 **CORRECT** What are the benefit of PCB board? | ಪಿಸಿಬಿ ಬೋರ್ಡ್‌ನ ಪ್ರಯೋಜನಗಳೇನು?

A. Increase the size electric product | ವಿದ್ಯುತ್ ಉತ್ಪನ್ನದ ಗಾತ್ರವನ್ನು ಹೆಚ್ಚಿಸಿ

B. Reduce the size electric product | ವಿದ್ಯುತ್ ಉತ್ಪನ್ನದ ಗಾತ್ರವನ್ನು ಕಡಿಮೆ ಮಾಡಿ

C. Increase the cost electric product | ವಿದ್ಯುತ್ ಉತ್ಪನ್ನದ ವೆಚ್ಚವನ್ನು ಹೆಚ್ಚಿಸಿ

D. Increase the heat of electric product | ವಿದ್ಯುತ್ ಉತ್ಪನ್ನದ ಶಾಖವನ್ನು ಹೆಚ್ಚಿಸಿ

Q12 **INCORRECT** What is the full form of MOST ? | ಹೆಚ್ಚಿನ ಪೂರ್ಣ ರೂಪ ಯಾವುದು?

A. Media Oriented System Transport

B. Middle Origin Service Transport

C. Most Original Supply Term

D. Media Organizing Survey Track

Q13 **CORRECT** Which sensor present in air bag system? | ಏರ್ ಬ್ಯಾಗ್ ವ್ಯವಸ್ಥೆಯಲ್ಲಿ ಯಾವ ಸಂವೇದಕವಿದೆ?

A. Crash sensor | ಕ್ರಾಶ್ ಸಂವೇದಕ

B. Proximity sensor | ಸಾಮೀಪ್ಯ ಸಂವೇದಕವು

C. Hall effect Sensor | ಹಾಲ್ ಪರಿಣಾಮ ಸಂವೇದಕ

D. Touch sensor | ಸ್ಪರ್ಶ ಸಂವೇದಕ

Q14 **INCORRECT** What is the full form of HUD ? | ಎಚ್‌ಯುಡಿ ಯ ಪೂರ್ಣ ರೂಪ ಯಾವುದು?

A. House Unit Demand

B. Head Up Display

C. Hand Up Display

D. Head Unit Device

Q15 **CORRECT** Which component connector does a computer s external speakers use to connect to the device? ಫ಼ಾಢನಕ್ಕೆ ಸಂಪರ್ಕಿಸಲು ಕಂಪ್ಯೂಟರ್‌ನ ಬಾಹ್ಯ ಸ್ಪೀಕರ್‌ಗಳು ಯಾವ ಘಟಕ ಕನೆಕ್ಟರ್ ಅನ್ನು ಬಳಸುತ್ತವೆ?

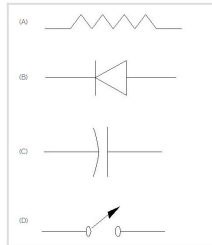
A. FTP connector | FTP ಕನೆಕ್ಟರ್

B. RCA connector | RCA ಕನೆಕ್ಟರ್

C. DB connector | DB ಕನೆಕ್ಟರ್

D. BNC connector | BNC ಕನೆಕ್ಟರ್

Q16 **CORRECT** What is the symbol of diode? | ಡಯೋಡ್‌ನ ಚಿಹ್ನೆ ಏನು?



A. A

B. B

C. C

D. D

Q17 **INCORRECT** What is the full form of GPS? | ಜಿಪಿಎಸ್ ಪೂರ್ಣ ರೂಪ ಯಾವುದು?

A. Goal Posting System

B. Good Positioning System

C. Global Positioning System

D. God Positioning System

Q18 **INCORRECT** In electric diagram which will show set of symbol and description is known as _____. | ಯಾವ ಎಲೆಕ್ಟ್ರಿಕ್ ರೇಖಾಚಿತ್ರವು ಚಿಹ್ನೆಗಳ ಗುಂಪನ್ನು ತೋರಿಸುತ್ತದೆ?

A. legends | ದಂತಕಥೆಗಳು

B. Control unit | ನಿಯಂತ್ರಣ ಘಟಕ

C. ECU

D. Relay | ರಿಲೇ

Q19 **CORRECT** Which of the following is not a part of legend? | ಕೆಳಗಿನವುಗಳಲ್ಲಿ ಯಾವುದು ದಂತಕಥೆಯ ಭಾಗವಾಗಿಲ್ಲ?

A. Wire colour code | ವೈರ್ ಬಣ್ಣದ ಕೋಡ್

B. Symbol meaning | ಚಿಹ್ನೆಯ ಅರ್ಥ

C. Module code | ಮಾಡ್ಯೂಲ್ ಕೋಡ್

D. ECU

Q20 **INCORRECT** Which is the mediating information between ECU sensors, actuators in vehicle? | ಇಸಿಯು ವಾಹನದಲ್ಲಿನ ಸಂವೇದಕಗಳು, ಆಕ್ಟುವೇಟರ್‌ಗಳ ನಡುವಿನ ಮಧ್ಯಸ್ಥಿಕೆ ಮಾಹಿತಿ ಯಾವುದು?

A. CAN Bus | CAN ಬಸ್

B. LIN Bus | LIN ಬಸ್

C. Display | ಪ್ರದರ್ಶನ

D. Horn | ಹಾರ್ನ್

