

GOVT ITI PERDOOR

ENGINEERING DRAWING - 21-May-2026 04:09 PM

Q. ID: ITISKILL68584H | April 2026

84.00% 42 / 50

Student Name	Akash devadiga	Access Code	3783
Attempt No.	#1	Completion Time	10:47 AM
Rank	#8	Total Questions	50

42 SCORE

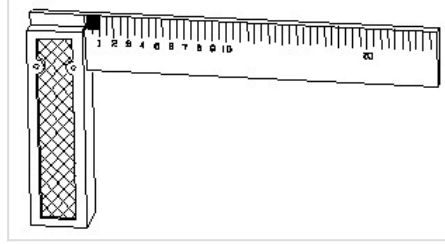
50 MAX MARKS

42 CORRECT

8 INCORRECT

Answer Review

Q1 CORRECT 1). Identify the name of tool? | ಉಪಕರಣದ ಹೆಸರನ್ನು ಗುರುತಿಸುವುದೇ?



A. Try square | ಟ್ರೈ ಸ್ಕ್ವೇರ್ □

B. Surface gauge | ಮೇಲ್ಮೈ ಮಾಪಕ

C. Steel rule | ಸ್ಟೀಲ್ ರೂಲ್

D. Feeler gauge | ಫೀಲರ್ ಗೇಜ್

Q2 CORRECT Identify the conventional symbol of material? | ವಸ್ತುವಿನ ಕನ್ವೆಷನಲ್ ಚಿಹ್ನೆಯನ್ನು ಗುರುತಿಸಿ?



A. Lead | ಲೀಡ್

B. Glass | ಗಾಜು

C. Wood | ಮರ □

D. Paper | ಪೇಪರ್

Q3 CORRECT Identify the name of the triangle? | ತ್ರಿಕೋನದ ಹೆಸರನ್ನು ಗುರುತಿಸುವುದೇ?



A. Equilateral triangle | ಸಮಕೋನ ತ್ರಿಕೋನ

B. Isosceles triangle | ಸಮದ್ವಿಬಾಹು ತ್ರಿಭುಜ

C. Scalene triangle | ಸ್ಕೇಲಿನ್ ತ್ರಿಕೋನ

D. Right angle triangle | ಬಲ ಕೋನ ತ್ರಿಕೋನ □

Q4 **CORRECT** Identify the name of tool? | ಉಪಕರಣದ ಹೆಸರನ್ನು ಗುರುತಿಸುವುದೇ?



A. Ball pein hammer | ಬಾಲ್ ಪೆನ್ ಸುತ್ತಿಗೆ

B. Mallet | ಮ್ಯಾಲೆಟ್

C. Cross pein hammer | ಕ್ರಾಸ್ ಪೀನ್ ಸುತ್ತಿಗೆ

D. Straight pein hammer | ಸ್ಟ್ರೇಟ್ ಪೆಯಿನ್ ಸುತ್ತಿಗೆ

Q5 **CORRECT** Identify the conventional symbol of material? | ವಸ್ತುವಿನ ಕನ್ವೆಷನಲ್ ಚಿಹ್ನೆಯನ್ನು ಗುರುತಿಸಿ?



A. Steel | ಸ್ಟೀಲ್

B. Wood | ಮರ

C. Glass | ಗಾಜು

D. Concrete | ಕಾಂಕ್ರೀಟ್

Q6 **INCORRECT** Identify the correct aligned system dimension? | ಸರಿಯಾದ ಜೋಡಿಸಲಾದ ಸಿಸ್ಟಮ್ ಆಯಾಮವನ್ನು ಗುರುತಿಸುವುದೇ?



A. A

B. B

C. C

D. D

Q7 **CORRECT** Identify the conventional symbol of material? | ವಸ್ತುವಿನ ಕನ್ವೆಷನಲ್ ಚಿಹ್ನೆಯನ್ನು ಗುರುತಿಸಿ?



A. Concrete | ಕಾಂಕ್ರೀಟ್

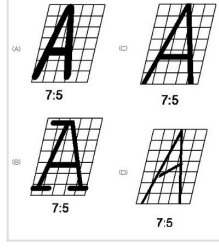
B. Steel | ಸ್ಟೀಲ್

C. Wood | ಮರ

D. Glass | ಗಾಜು

Q8 **INCORRECT** Which single stroke inclined letter □ A □ is correct as per IS standard? | ಮಾನದಂಡದ ಪ್ರಕಾರ ಯಾವ ಏಕ ಸ್ಟ್ರೋಕ್ ಇಳಿಜಾರಿನ ಅಕ್ಷರ

□ A ಸರಿಯಾಗಿದೆ?



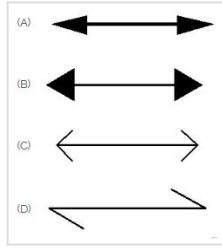
A. A

B. B

C. C

D. D

Q9 **CORRECT** Which arrow head is correct as per standard? | ಮಾನದಂಡದ ಪ್ರಕಾರ ಯಾವ ಬಾಣದ ಹೆಡ್ ಸರಿಯಾಗಿದೆ?



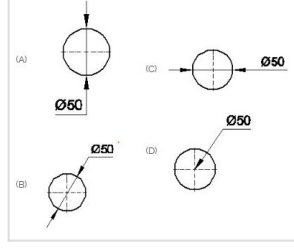
A. A

B. B

C. C

D. D

Q10 **CORRECT** Which dimension correctly marked in the circle as per standard? | ಮಾನದಂಡದ ಪ್ರಕಾರ ವೃತ್ತದಲ್ಲಿ ಯಾವ ಆಯಾಮವನ್ನು ಸರಿಯಾಗಿ ಗುರುತಿಸಲಾಗಿದೆ?



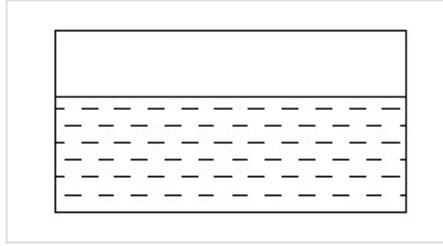
A. A

B. B

C. C

D. D

Q11 **CORRECT** Identify the conventional symbol of material? | ವಸ್ತುವಿನ ಕನ್ವೆಷನಲ್ ಚಿಹ್ನೆಯನ್ನು ಗುರುತಿಸಿ?



A. Water | ನೀರು

B. Concrete | ಕಾಂಕ್ರೀಟ್

C. Asbestos | ಆಸ್ಟೆಸ್ಟೋಸ್

D. Glass | ಗಾಜು

Q12 CORRECT Identify the name of instrument? | ಉಪಕರಣದ ಹೆಸರನ್ನು ಗುರುತಿಸುವುದೇ?



A. Set square | ಸೆಟ್ ಸ್ಕ್ವೇರ್

B. Protractor | ಪ್ರೊಟ್ರಾಕ್ಟರ್

C. French curve | ಫ್ರೆಂಚ್ ಕರ್ವ್

D. T square | ಟಿ ಸ್ಕ್ವೇರ್

Q13 CORRECT Identify the name of tool? | ಉಪಕರಣದ ಹೆಸರನ್ನು ಗುರುತಿಸುವುದೇ?



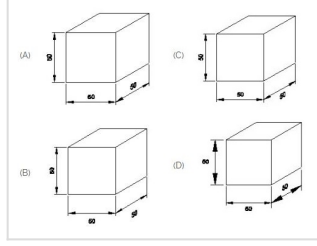
A. Hawk-billed shear | ಹಾಕ್-ಬಿಲ್ಡ್ ಸಿಯರ್

B. Aviation shear | ಏವಿಯೇಷನ್ ಸಿಯರ್

C. Cutting plier | ಕಟಿಂಗ್ ಪ್ಲಿಯರ್

D. Double cutting shear | ಡಬಲ್ ಕಟಿಂಗ್ ಸಿಯರ್

Q14 **INCORRECT** Which drawing dimension is correct as per IS standard? | IS ಮಾನದಂಡದ ಪ್ರಕಾರ ಯಾವ ರೇಖಾಚಿತ್ರದ ಆಯಾಮವು ಸರಿಯಾಗಿದೆ?



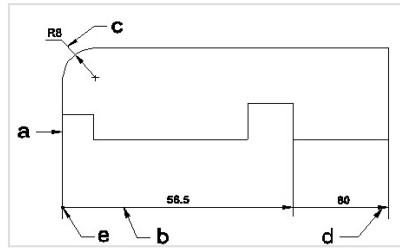
A. A

B. B

C. C

D. D

Q15 **CORRECT** Identify the line 'b' ? | ಒಂದು ರೇಖೆಯನ್ನು ಗುರುತಿಸುವುದೇ?



A. Dimension line | ಡೈಮೆನ್ಷನ್ ಲೈನ್

B. Extension line | ಎಕ್ಸ್ಟೆನ್ಷನ್ ಲೈನ್

C. Leader line | ಲೀಡರ್ ಲೈನ್

D. Termination of dimension line | ಆಯಾಮ ರೇಖೆಯ ಮುಕ್ತಾಯ

Q16 **CORRECT** Identify the name of tool? | ಉಪಕರಣದ ಹೆಸರನ್ನು ಗುರುತಿಸುವುದೇ?



A. Ball pein hammer | ಬಾಲ್ ಪೆನ್ ಸುತ್ತಿಗೆ □

B. Cross pein hammer | ಕ್ರಾಸ್ ಪೀನ್ ಸುತ್ತಿಗೆ

C. Straight pein hammer | ನೇರ ಪೆನ್ ಸುತ್ತಿಗೆ

D. Sledge hammer | ಸ್ಲೆಡ್ಜ್ ಸುತ್ತಿಗೆ

Q17 **CORRECT** Identify the name of prism? | ಪ್ರಿಸ್ಮ್ ಹೆಸರನ್ನು ಗುರುತಿಸುವುದೇ?



A. Square prism | ಚದರ ಪ್ರಿಸ್ಮ್

B. Pentagonal prism | ಪೆಂಟಾಗೋನಲ್ ಪ್ರಿಸ್ಮ್

C. Triangular prism | ತ್ರಿಕೋನ ಪ್ರಿಸ್ಮ್

D. Hexagonal prism | ಷಡ್ಭುಜೀಯ ಪ್ರಿಸ್ಮ್ □

Q18 **CORRECT** Identify the name of tool? | ಉಪಕರಣದ ಹೆಸರನ್ನು ಗುರುತಿಸುವುದೇ?



A. Open end spanner | ಓಪನ್ ಎಂಡ್ ಸ್ಪ್ಯಾನರ್

B. Ring spanner | ರಿಂಗ್ ಸ್ಪ್ಯಾನರ್

C. Combination spanner | ಕಾಂಬಿನೇಷನ್ ಸ್ಪ್ಯಾನರ್

D. Adjustable spanner | ಹೊಂದಿಸಬಹುದಾದ ಸ್ಪ್ಯಾನರ್

Q19 **CORRECT** What is the trimmed size of A4 sheet? | A4 ಹಾಳೆಯು ಟ್ರಿಮ್ ಮಾಡಿದ ಗಾತ್ರ ಎಷ್ಟು?

A. 841 x 1189

B. 594 x 841

C. 210 x 297

D. 148 x 210

Q20 **CORRECT** Identify the conventional symbol of material? | ವಸ್ತುವಿನ ಕನ್ವೆಷನಲ್ ಚಿಹ್ನೆಯನ್ನು ಗುರುತಿಸಿ?



A. Lead | ಲೀಡ್

B. Steel | ಸ್ಟೀಲ್

C. Glass | ಗಾಜು

D. Porcelain | ಪಿಂಗಾಣಿ

Q21 **CORRECT** Which drawing dimension is correct as per standard drawing practice? | ಸ್ವಾರ್ಥ ಡ್ರಾಯಿಂಗ್ ಅಭ್ಯಾಸದ ಪ್ರಕಾರ ಯಾವ ಡ್ರಾಯಿಂಗ್ ಆಯಾಮ ಸರಿಯಾಗಿದೆ?



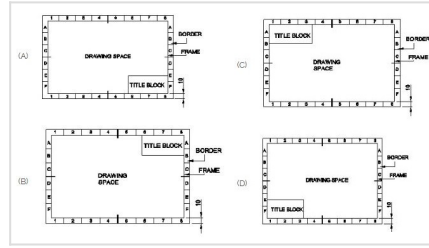
A. A

B. B

C. C

D. D

Q22 **INCORRECT** Which title block position is correct as standard practice? | ಪ್ರಮಾಣಿತ ಅಭ್ಯಾಸದಂತೆ ಯಾವ ಶೀರ್ಷಿಕೆ ಬ್ಲಾಕ್ ಸ್ಥಾನವು ಸರಿಯಾಗಿದೆ?



A. A

B. B

C. C

D. D

Q23 CORRECT Identify the name of prism? | ಪ್ರಿಸ್ತಾ ಹೆಸರನ್ನು ಗುರುತಿಸುವುದೇ?

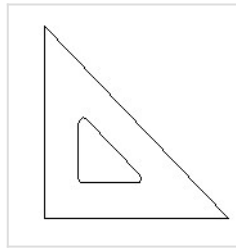


- A. Rectangle prism | ಆಯತ ಪ್ರಿಸ್ತಾ
- B. Square prism | ಚದರ ಪ್ರಿಸ್ತಾ
- C. Triangular prism | ತ್ರಿಕೋನ ಪ್ರಿಸ್ತಾ
- D. Hexagonal prism | ಷಡ್ಭುಜೀಯ ಪ್ರಿಸ್ತಾ

Q24 CORRECT Compass used to draw for ____. | ಕಂಪಾಸ್ ಅನ್ನು _____ ಗೆ ಸೆಳೆಯಲು ಬಳಸಲಾಗುತ್ತದೆ.

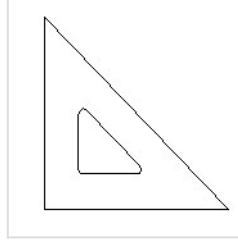
- A. rectangle | ಆಯತ
- B. square | ಚದರ
- C. circle | ವೃತ್ತ
- D. triangle | ತ್ರಿಕೋನ

Q25 CORRECT Identify the name of set square? | ಸೆಟ್ ಚೌಕದ ಹೆಸರನ್ನು ಗುರುತಿಸುವುದೇ?



- A. 15° set square | 15° ಸೆಟ್ ಸ್ಕ್ವೇರ್
- B. 60° set square | 60° ಸೆಟ್ ಸ್ಕ್ವೇರ್
- C. 30° set square | 30° ಸೆಟ್ ಸ್ಕ್ವೇರ್
- D. 45° set square | 45° ಸೆಟ್ ಸ್ಕ್ವೇರ್

Q26 **CORRECT** Identify the name of set square? | ಸೆಟ್ ಚೌಕದ ಹೆಸರನ್ನು ಗುರುತಿಸುವುದೇ?



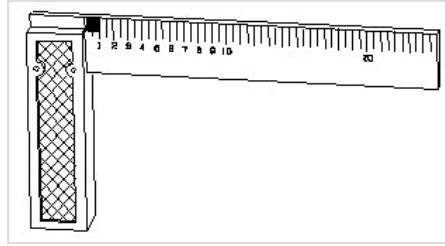
A. 15° set square | 15° ಸೆಟ್ ಸ್ವೇರ್

B. 60° set square | 60° ಸೆಟ್ ಸ್ವೇರ್

C. 30° set square | 30° ಸೆಟ್ ಸ್ವೇರ್

D. 45° set square | 45° ಸೆಟ್ ಸ್ವೇರ್

Q27 **CORRECT** 1). Identify the name of tool? | ಉಪಕರಣದ ಹೆಸರನ್ನು ಗುರುತಿಸುವುದೇ?



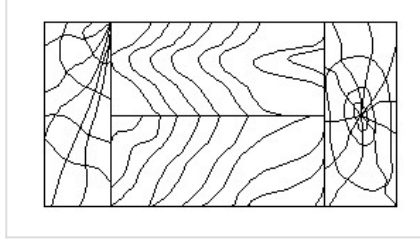
A. Try square | ಟ್ರೈ ಸ್ವೇರ್

B. Surface gauge | ಮೇಲ್ಮೈ ಮಾಪಕ

C. Steel rule | ಸ್ಟೀಲ್ ರೂಲ್

D. Feeler gauge | ಫೀಲರ್ ಗೇಜ್

Q28 **CORRECT** Identify the conventional symbol of material? | ವಸ್ತುವಿನ ಕನ್ವೆಷನಲ್ ಚಿಹ್ನೆಯನ್ನು ಗುರುತಿಸಿ?



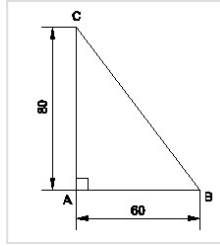
A. Lead | ಲೀಡ್

B. Glass | ಗಾಜು

C. Wood | ಮರ □

D. Paper | ಪೇಪರ್

Q29 **CORRECT** Identify the name of the triangle? | ತ್ರಿಕೋನದ ಹೆಸರನ್ನು ಗುರುತಿಸುವುದೇ?



A. Equilateral triangle | ಸಮಕೋನ ತ್ರಿಕೋನ

B. Isosceles triangle | ಸಮದ್ವಿಬಾಹು ತ್ರಿಭುಜ

C. Scalene triangle | ಸ್ಕೇಲಿನ್ ತ್ರಿಕೋನ

D. Right angle triangle | ಬಲ ಕೋನ ತ್ರಿಕೋನ □

Q30 **CORRECT** Identify the name of tool? | ಉಪಕರಣದ ಹೆಸರನ್ನು ಗುರುತಿಸುವುದೇ?



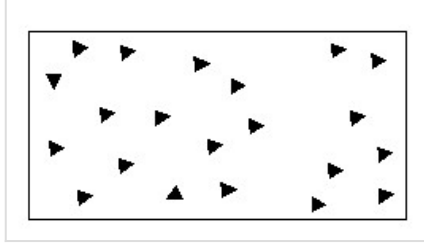
A. Ball pein hammer | ಬಾಲ್ ಪೆನ್ ಸುತ್ತಿಗೆ

B. Mallet | ಮ್ಯಾಲೆಟ್

C. Cross pein hammer | ಕ್ರಾಸ್ ಪೀನ್ ಸುತ್ತಿಗೆ

D. Straight pein hammer | ಸ್ಟ್ರೇಟ್ ಪೆಯಿನ್ ಸುತ್ತಿಗೆ

Q31 **CORRECT** Identify the conventional symbol of material? | ವಸ್ತುವಿನ ಕನ್ವೆಷನಲ್ ಚಿಹ್ನೆಯನ್ನು ಗುರುತಿಸಿ?



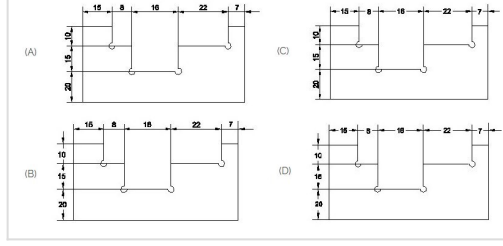
A. Steel | ಸ್ಟೀಲ್

B. Wood | ಮರ

C. Glass | ಗಾಜು

D. Concrete | ಕಾಂಕ್ರೀಟ್

Q32 **INCORRECT** Identify the correct aligned system dimension? | ಸರಿಯಾದ ಜೋಡಿಸಲಾದ ಸಿಸ್ಟಮ್ ಆಯಾಮವನ್ನು ಗುರುತಿಸುವುದೇ?



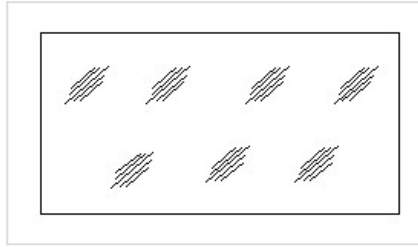
A. A

B. B

C. C

D. D

Q33 **CORRECT** Identify the conventional symbol of material? | ವಸ್ತುವಿನ ಕನ್ವೆಷನಲ್ ಚಿಹ್ನೆಯನ್ನು ಗುರುತಿಸಿ?



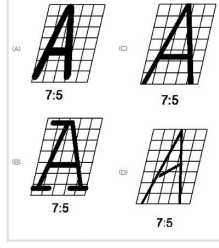
A. Concrete | ಕಾಂಕ್ರೀಟ್

B. Steel | ಸ್ಟೀಲ್

C. Wood | ಮರ

D. Glass | ಗಾಜು

Q34 **INCORRECT** Which single stroke inclined letter □ A □ is correct as per IS standard? | ಮಾನದಂಡದ ಪ್ರಕಾರ ಯಾವ ಏಕ ಸ್ವರ್ಟ್ ಇಳಿಜಾರಿನ ಅಕ್ಷರ □ A □ ಸರಿಯಾಗಿದೆ?



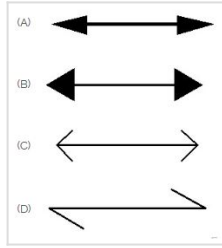
A. A

B. B

C. C

D. D

Q35 **CORRECT** Which arrow head is correct as per standard? | ಮಾನದಂಡದ ಪ್ರಕಾರ ಯಾವ ಬಾಣದ ಹೆಡ್ ಸರಿಯಾಗಿದೆ?



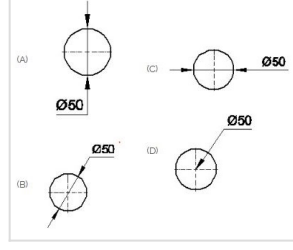
A. A

B. B

C. C

D. D

Q36 **INCORRECT** Which dimension correctly marked in the circle as per standard? | ಮಾನದಂಡದ ಪ್ರಕಾರ ವೃತ್ತದಲ್ಲಿ ಯಾವ ಆಯಾಮವನ್ನು ಸರಿಯಾಗಿ ಗುರುತಿಸಲಾಗಿದೆ?



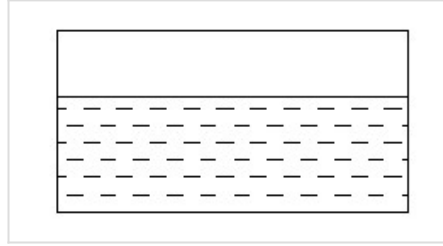
A. A

B. B

C. C

D. D

Q37 **CORRECT** Identify the conventional symbol of material? | ವಸ್ತುವಿನ ಕನ್ವೆಷನಲ್ ಚಿಹ್ನೆಯನ್ನು ಗುರುತಿಸಿ?



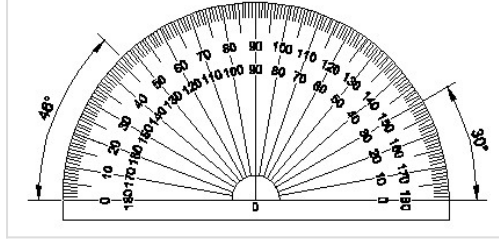
A. Water | ನೀರು

B. Concrete | ಕಾಂಕ್ರೀಟ್

C. Asbestos | ಆಸ್ಟೆಸ್ಟೋಸ್

D. Glass | ಗಾಜು

Q38 CORRECT Identify the name of instrument? | ಉಪಕರಣದ ಹೆಸರನ್ನು ಗುರುತಿಸುವುದೇ?



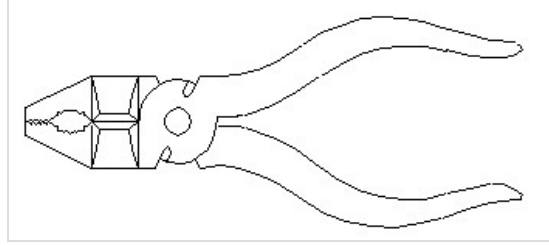
A. Set square | ಸೆಟ್ ಸ್ಕ್ವೇರ್

B. Protractor | ಪ್ರೊಟ್ರಾಕ್ಟರ್

C. French curve | ಫ್ರೆಂಚ್ ಕರ್ವ್

D. T square | ಟಿ ಸ್ಕ್ವೇರ್

Q39 CORRECT Identify the name of tool? | ಉಪಕರಣದ ಹೆಸರನ್ನು ಗುರುತಿಸುವುದೇ?



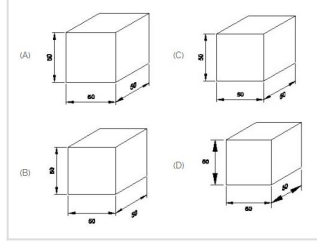
A. Hawk-billed shear | ಹಾಕ್-ಬಿಲ್ಡ್ ಸಿಯರ್

B. Aviation shear | ಏವಿಯೇಷನ್ ಸಿಯರ್

C. Cutting plier | ಕಟಿಂಗ್ ಪ್ಲಿಯರ್

D. Double cutting shear | ಡಬಲ್ ಕಟಿಂಗ್ ಸಿಯರ್

Q40 **INCORRECT** Which drawing dimension is correct as per IS standard? | IS ಮಾನದಂಡದ ಪ್ರಕಾರ ಯಾವ ರೇಖಾಚಿತ್ರದ ಆಯಾಮವು ಸರಿಯಾಗಿದೆ?



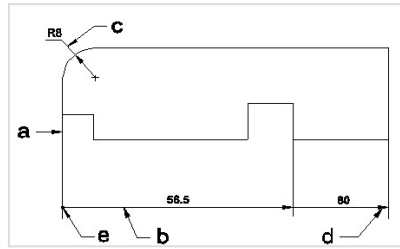
A. A

B. B

C. C

D. D

Q41 **CORRECT** Identify the line 'a' ? | ಸಾಲುನ್ನು ಗುರುತಿಸುವುದೇ?



A. Dimension line | ಡೈಮೆನ್ಷನ್ ಲೈನ್

B. Extension line | ಎಕ್ಸ್ಟೆನ್ಷನ್ ಲೈನ್

C. Leader line | ಲೀಡರ್ ಲೈನ್

D. Termination of dimension line | ಆಯಾಮ ರೇಖೆಯ ಮುಕ್ತಾಯ

Q42 **CORRECT** Identify the name of tool? | ಉಪಕರಣದ ಹೆಸರನ್ನು ಗುರುತಿಸುವುದೇ?



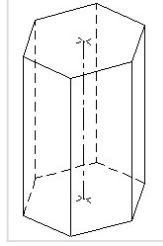
A. Ball pein hammer | ಬಾಲ್ ಪೆನ್ ಸುತ್ತಿಗೆ □

B. Cross pein hammer | ಕ್ರಾಸ್ ಪೀನ್ ಸುತ್ತಿಗೆ

C. Straight pein hammer | ನೇರ ಪೆನ್ ಸುತ್ತಿಗೆ

D. Sledge hammer | ಸ್ಲೆಡ್ಜ್ ಸುತ್ತಿಗೆ

Q43 **CORRECT** Identify the name of prism? | ತ್ರಿಸ್ಥಂಭದ ಹೆಸರನ್ನು ಗುರುತಿಸುವುದೇ?



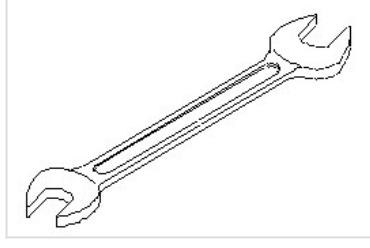
A. Square prism | ಚದರ ತ್ರಿಸ್ಥಂಭ

B. Pentagonal prism | ಪೆಂಟಾಗೋನಲ್ ತ್ರಿಸ್ಥಂಭ

C. Triangular prism | ತ್ರಿಕೋನ ತ್ರಿಸ್ಥಂಭ

D. Hexagonal prism | ಷಡ್ಭುಜೀಯ ತ್ರಿಸ್ಥಂಭ □

Q44 CORRECT Identify the name of tool? | ಉಪಕರಣದ ಹೆಸರನ್ನು ಗುರುತಿಸುವುದೇ?



A. Open end spanner | ಓಪನ್ ಎಂಡ್ ಸ್ಪ್ಯಾನರ್

B. Ring spanner | ರಿಂಗ್ ಸ್ಪ್ಯಾನರ್

C. Combination spanner | ಕಾಂಬಿನೇಷನ್ ಸ್ಪ್ಯಾನರ್

D. Adjustable spanner | ಹೊಂದಿಸಬಹುದಾದ ಸ್ಪ್ಯಾನರ್

Q45 CORRECT What is the trimmed size of A4 sheet? | A4 ಹಾಳೆಯು ಟ್ರಿಮ್ ಮಾಡಿದ ಗಾತ್ರ ಎಷ್ಟು?

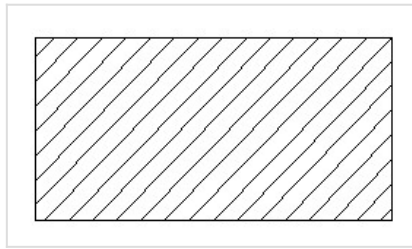
A. 841 x 1189

B. 594 x 841

C. 210 x 297

D. 148 x 210

Q46 CORRECT Identify the conventional symbol of material? | ವಸ್ತುವಿನ ಕನ್ವೆಷನಲ್ ಚಿಹ್ನೆಯನ್ನು ಗುರುತಿಸಿ?



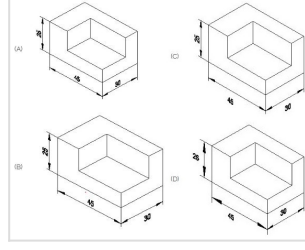
A. Lead | ಲೀಡ್

B. Steel | ಸ್ಟೀಲ್

C. Glass | ಗಾಜು

D. Porcelain | ಪಿಂಗಾಣಿ

Q47 **CORRECT** Which drawing dimension is correct as per standard drawing practice? | ಸ್ವಯಂಚಾಲಿತ ಡ್ರಾಯಿಂಗ್ ಅಭ್ಯಾಸದ ಪ್ರಕಾರ ಯಾವ ಡ್ರಾಯಿಂಗ್ ಆಯಾಮ ಸರಿಯಾಗಿದೆ?



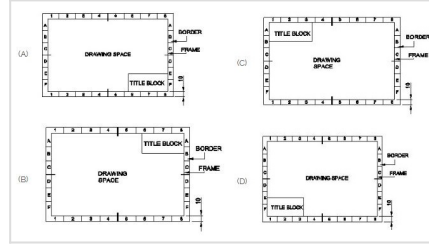
A. A

B. B

C. C

D. D

Q48 **CORRECT** Which title block position is correct as standard practice? | ಪ್ರಮಾಣಿತ ಅಭ್ಯಾಸದಂತೆ ಯಾವ ಶೀರ್ಷಿಕೆ ಬ್ಲಾಕ್ ಸ್ಥಾನವು ಸರಿಯಾಗಿದೆ?



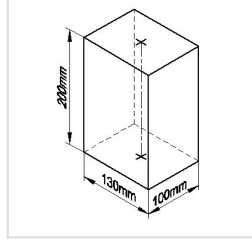
A. A

B. B

C. C

D. D

Q49 **CORRECT** Identify the name of prism? | ಪ್ರಿಸ್ತು ಹೆಸರನ್ನು ಗುರುತಿಸುವುದೇ?



- A. Rectangle prism | ಆಯತ ಪ್ರಿಸ್ತು
- B. Square prism | ಚದರ ಪ್ರಿಸ್ತು
- C. Triangular prism | ತ್ರಿಕೋನ ಪ್ರಿಸ್ತು
- D. Hexagonal prism | ಷಡ್ಭುಜೀಯ ಪ್ರಿಸ್ತು

Q50 **CORRECT** Compass used to draw for ____. | ಕಂಪಾಸ್ ಅನ್ನು _____ ಗೆ ಸೆಳೆಯಲು ಬಳಸಲಾಗುತ್ತದೆ.

- A. rectangle | ಆಯತ
- B. square | ಚದರ
- C. circle | ವೃತ್ತ
- D. triangle | ತ್ರಿಕೋನ