

GITI MANGALORE

ITI Quiz - 29-May-2026 01:24 PM

Q. ID: ITISKILL6817ND | May 2026

60.00% 15 / 25

| | | | |
|--------------|---------|-----------------|----------|
| Student Name | KARTHIK | Access Code | 3390 |
| Attempt No. | #1 | Completion Time | 04:05 PM |
| Rank | #14 | Total Questions | 25 |

15 SCORE

25 MAX MARKS

15 CORRECT

10 INCORRECT

Answer Review

Q1 **CORRECT** How many types of foundation□ s are there based on depth? **ಆಳದ ಆಧಾರದ ಮೇಲೆ ಎಷ್ಟು ರೀತಿಯ ಅಡಿಪಾಯಗಳಿವೆ?**

A. 2

B. 3

C. 5

D. 2 □

Q2 **INCORRECT** Which of the following is not a main part of rivet? **ಕೆಳಗಿನವುಗಳಲ್ಲಿ ಯಾವುದು ರಿವೆಟ್‌ನ ಮುಖ್ಯ ಭಾಗವಲ್ಲ?**

A. Head | ಹೆಡ್ □

B. Shank | ಶ್ಯಾಂಕ್

C. Point | ಪಾಯಿಂಟ್ □

D. Tail | ಟೈಲ್

Q3 **CORRECT** GMAW stands for_____ | GMAW ಎಂದರೆ _____

A. Gun Metal Arc Welding

B. Gas Metal Arc Welding

C. Gas Tungsten Arc Welding

D. Germanium Metal Arc Welding

Q4 **CORRECT** Pipe cutting die is generally_____ | ಪೈಪ್ ಕಟಿಂಗ್ ಡೈ ಸಾಮಾನ್ಯವಾಗಿ _____

A. divided in four parts. | ನಾಲ್ಕು ಭಾಗಗಳಾಗಿ ವಿಂಗಡಿಸಲಾಗಿದೆ.

B. undivided | ಅವಿಭಜಿತ

C. divided in three parts | ಮೂರು ಭಾಗಗಳಾಗಿ ವಿಂಗಡಿಸಲಾಗಿದೆ

D. divided in two parts | ಎರಡು ಭಾಗಗಳಾಗಿ ವಿಂಗಡಿಸಲಾಗಿದೆ

Q5 **CORRECT** The Included angle of pipe thread is around_____ | ಪೈಪ್ ಥ್ರೆಡ್ ಒಳಗೊಂಡಿರುವ ಕೋನವು ಸುಮಾರು _____ ಆಗಿದೆ

A. 15°

B. 55°

C. 10°

D. 75°

Q6 **INCORRECT** Which materials pipe is used for drainage pipe line? | ಡ್ರೈನೇಜ್ ಪೈಪ್ ಲೈನ್ ಗೆ ಯಾವ ವಸ್ತುಗಳ ಪೈಪ್ ಅನ್ನು ಬಳಸಲಾಗುತ್ತದೆ?

A. PVC pipe | PVC ಪೈಪ್

B. Brass Pipe | ಹಿತ್ತಾಳೆ ಪೈಪ್

C. G.I. Pipe | ಜಿಐ ಪೈಪ್

D. Steel pipe | ಉಕ್ಕಿನ ಕೊಳವೆ.

Q7 **INCORRECT** Which of the following is temporary fastening? | ಕೆಲಗಿನವುಗಲಲ್ಲಿ ಯಾವುದು ತಾತ್ಕಾಲಿಕ ಫಾಸ್ಟನಿಂಗ್ ?

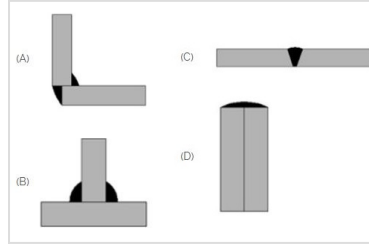
A. Welded | ವೆಲ್ಡೆಡ್

B. Keys | ಕೀಲಿಗಲು

C. Rivets | ರಿವೆಟ್ಸ್

D. Screw | ತಿರುಪು

Q8 **CORRECT** Which symbol is used for butt joints? | ಬಟ್ ಕೀಲುಗಲಿಗೆ ಯಾವ ಚಿಹ್ನೆಯನ್ನು ಬಳಸಲಾಗುತ್ತದೆ?



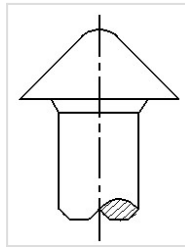
A. A

B. B

C. C

D. D

Q9 **INCORRECT** The head for boiler application is shown in the figure given below is ____ ಕೆಲಗಿನ ಚಿತ್ರದಲ್ಲಿ ತೋರಿಸಿರುವ ಬಾಯ್ಲರ್ ಅಪ್ಲಿಕೇಶನ್‌ನ ಹೆಡ್:



A. snap | ಸ್ನಾಪ್

B. pan | ಪ್ಯಾನ್

C. conical | ಕೊನುಕಾಲ್

D. steeple | ಸ್ಟೀಪಲ್

Q10 **INCORRECT** The thread angle of metric thread is _____. | ಮೆಟ್ರಿಕ್ ಥ್ರೆಡ್ ಥ್ರೆಡ್ ಕೋನವು _____ ಆಗಿದೆ.

A. 90°

B. 60°

C. 30°

D. 120°

Q11 **INCORRECT** Nut and bolts are _____ | ನಟ್ ಮತ್ತು ಬೋಲ್ಟ್ಸ್ _____

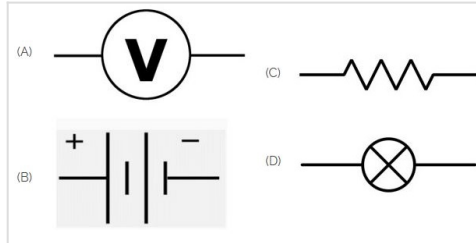
A. permanent fastening | ಶಾಶ್ವತ ಜೋಡಣೆ

B. temporary fastening | ತಾತ್ಕಾಲಿಕ ಜೋಡಣೆ

C. semi permanent | ಅರ್ಧ ಶಾಶ್ವತ

D. semi temporary | ಅರ್ಧ ತಾತ್ಕಾಲಿಕ

Q12 **CORRECT** Identify the symbol of battery. | ಬ್ಯಾಟರಿಯ ಚಿಹ್ನೆಯನ್ನು ಗುರುತಿಸಿ.



A. A

B. B

C. C

D. D

Q13 **CORRECT** Which is the static machine that increase or decrease the AC voltage? | AC ವೋಲ್ಟೇಜ್ ಅನ್ನು ಹೆಚ್ಚಿಸುವ ಅಥವಾ ಕಡಿಮೆ ಮಾಡುವ ಸ್ಟಾಟಿಕ್ ಯಂತ್ರ ಯಾವುದು?

A. Transformer | ಟ್ರಾನ್ಸ್‌ಫಾರ್ಮರ್

B. Generator | ಜನರೇಟರ್

C. Alternator | ಆಲ್ಟರ್ನೇಟರ್

D. Induction motor | ಇಂಡಕ್ಷನ್ ಮೋಟಾರ್

Q14 **INCORRECT** What is the name of the gate | ಗೇಟ್ ಹೆಸರೇನು?



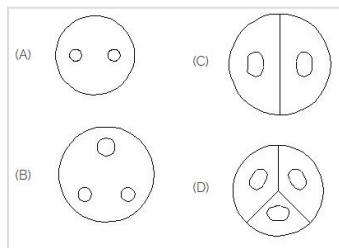
A. NOT Gate | NOT ಗೇಟ್

B. Ex-NOR Gate | Ex-NOR ಗೇಟ್

C. OR Gate | OR ಗೇಟ್

D. AND Gate | AND ಗೇಟ್

Q15 **CORRECT** Identify the 3 pin socket. | 3 ಪಿನ್ ಸಾಕೆಟ್ ಅನ್ನು ಗುರುತಿಸಿ.



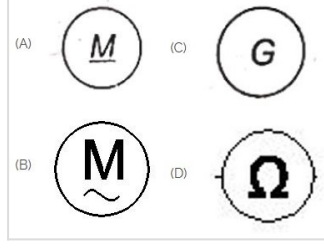
A. A

B. B

C. C

D. D

Q16 **CORRECT** Which is a symbol of DC motor? | DC ಮೋಟರ್‌ನ ಸಂಕೇತ ಯಾವುದು?



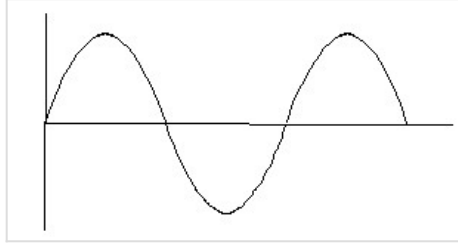
A. A

B. B

C. C

D. D

Q17 **CORRECT** Identify the wave form. | ವೇವ್ ಫಾರ್ಮ್ ವನ್ನು ಗುರುತಿಸಿ.



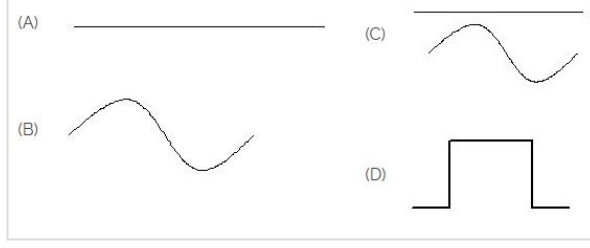
A. Square wave | ಸ್ಕ್ವೇರ್ ವೇವ್

B. Sine wave | ಸೈನ್ ವೇವ್

C. Triangle wave | ತ್ರಿಕೋನ ವೇವ್

D. Saw-tooth wave | ಸಾ-ಟೂತ್ ವೇವ್

Q18 **CORRECT** Identify the symbol for direct and alternating current. | ನೇರ ಮತ್ತು ಪರ್ಯಾಯ ಪ್ರವಾಹದ ಚಿಹ್ನೆಯನ್ನು ಗುರುತಿಸಿ.



A. A

B. B

C. C

D. D

Q19 **CORRECT** Voltage less than 250 volt is called _____. | 250 ವೋಲ್ಟ್‌ಗಿಂತ ಕಡಿಮೆ ವೋಲ್ಟೇಜ್ ಅನ್ನು _____ ಎಂದು ಕರೆಯಲಾಗುತ್ತದೆ.


A. LT (Low Tension) | LT (ಕಡಿಮೆ ಒತ್ತಡ)

B. HT (High Tension) | HT (ಅಧಿಕ ಒತ್ತಡ)

C. MT (Medium Tension) | MT (ಮಧ್ಯಮ ಒತ್ತಡ)

D. EHT (Extra High Tension) | EHT (ಹೆಚ್ಚುವರಿ ಅಧಿಕ ಒತ್ತಡ)

Q20 **CORRECT** Which is the single pole MCB? | ಸಿಂಗಲ್ ಪೋಲ್ MCB ಯಾವುದು?



A. A

B. B

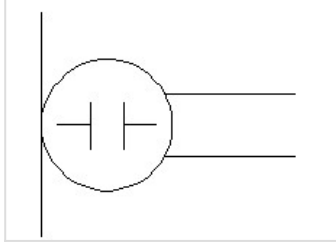
C. C

D. D

Q21 **CORRECT** Which is protective device? | ರಕ್ಷಣಾತ್ಮಕ ಸಾಧನ ಯಾವುದು?

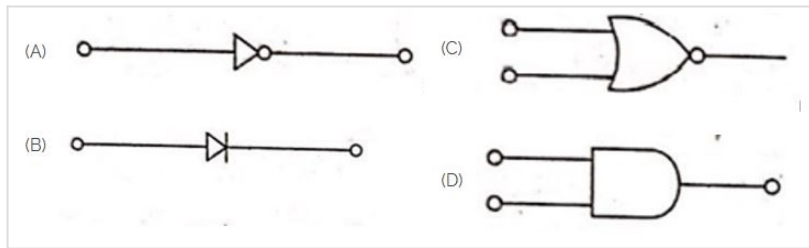
- A. Fuse | ಫ್ಯೂಸ್
- B. Resistor | ರೆಸಿಸ್ಟರ್
- C. Magnet | ಮ್ಯಾಗ್ನೆಟ್
- D. Capacitor | ಕೆಪಾಸಿಟರ್

Q22 **INCORRECT** What is the name of the symbol? | ಚಿಹ್ನೆಯ ಹೆಸರೇನು?



- A. Microphone | ಮೈಕ್ರೋಫೋನ್
- B. Dynamic microphone | ಡೈನಾಮಿಕ್ ಮೈಕ್ರೋಫೋನ್
- C. Condenser microphone | ಕಂಡೆನ್ಸರ್ ಮೈಕ್ರೋಫೋನ್
- D. Loud speaker | ಲೌಡ್ ಸ್ಪೀಕರ್

Q23 **INCORRECT** Which is the NOT gate in the following picture? | ಕೆಳಗಿನ ಚಿತ್ರದಲ್ಲಿ NOT ಗೇಟ್ ಯಾವುದು?



- A. A
- B. B
- C. C
- D. D

Q24 **INCORRECT** Identify the switch in the given picture. | ನೀಡಿರುವ ಚಿತ್ರದಲ್ಲಿ ಸ್ವಿಚ್ ಅನ್ನು ಗುರುತಿಸಿ.



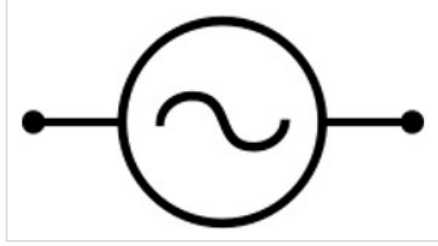
A. Intermediate Switch | ಮಧ್ಯಂತರ ಸ್ವಿಚ್

B. Toggle Switch | ಟಾಗಲ್ ಸ್ವಿಚ್

C. Tumbler Switch | ಟಂಬ್ಲರ್ ಸ್ವಿಚ್

D. Flux type switch | ಫ್ಲಕ್ಸ್ ಪ್ರಕಾರದ ಸ್ವಿಚ್

Q25 **CORRECT** Identify the given symbol | ನೀಡಿರುವ ಚಿಹ್ನೆಯನ್ನು ಗುರುತಿಸಿ



A. AC

B. DC

C. Ohms | ಓಮ್ಸ್

D. Inductance | ಇಂಡಕ್ಟೆನ್ಸ್