

# Govt ITI Tagadur

## Fitter

Q. ID: ITISKILL9668TP | February 2026

52.00% 26 / 50

Student Name	MAHADEVASWAMY M	Access Code	1366
Attempt No.	#1	Completion Time	12:30 PM
Rank	#7	Total Questions	50

26 SCORE

50 MAX MARKS

26 CORRECT

16 INCORRECT

### Answer Review

**Q1 INCORRECT** Which preventive measure should be taken to avoid accidents while using a scriber? | ಸ್ರೈಬರ್ ಬಳಸುವಾಗ ಅಪಘಾತಗಳನ್ನು ತಪ್ಪಿಸಲು ಯಾವ ತಡೆಗಟ್ಟುವ ಕ್ರಮವನ್ನು ತೆಗೆದುಕೊಳ್ಳಬೇಕು?

A. Do not hold the scriber vertically | ಸ್ರೈಬರ್ ಅನ್ನು ಲಂಬವಾಗಿ (ವರ್ಟಿಕಲ್) ಹಿಡಿದಿಟ್ಟುಕೊಳ್ಳಬೇಡಿ

B. Do not use blunt point scriber | ಬ್ಲಂಟ್ ಪಾಯಿಂಟ್ ಸ್ರೈಬರ್ ಅನ್ನು ಬಳಸಬೇಡಿ

C. Place a cork on the scriber point | ಸ್ರೈಬರ್ ಪಾಯಿಂಟ್‌ನಲ್ಲಿ ಕಾರ್ಕ್ ಅನ್ನು ಇರಿಸಿ

D. Put the scriber in the shirt pocket | ಸ್ರೈಬರ್ ಅನ್ನು ಶರ್ಟ್ ಜೇಬಿನಲ್ಲಿ ಇರಿಸಿ

**Q2 INCORRECT** Which vice is used to hold hollow cylindrical jobs? | ಟೊಳ್ಳಾದ ದುಂಡಾಕಾರದ ಜಾಬ್‌ಗಳನ್ನು ಹಿಡಿದಿಡಲು ಯಾವ ವೈಸ್ ಉಪಯೋಗಿಸಲಾಗುತ್ತದೆ?

A. Pin vice | ಪಿನ್ ವೈಸ್

B. Pipe vice | ಪೈಪ್ ವೈಸ್

C. Hand vice | ಹ್ಯಾಂಡ್ ವೈಸ್

D. Bench vice | ಬೆಂಚ್ ವೈಸ್

Q3 **INCORRECT** Which part of the drilling machine is used to achieve set a different speed? | ವಿಭಿನ್ನ ವೇಗವನ್ನು ಹೊಂದಿಸಲು ಡ್ರಿಲ್ಲಿಂಗ್ ಮಷಿನ್ ಯಾವ ಭಾಗವನ್ನು ಬಳಸಲಾಗುತ್ತದೆ?

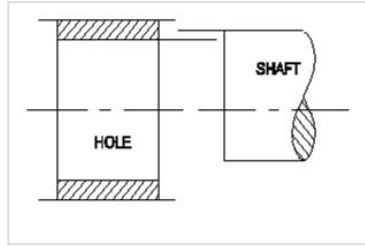
A. Flat pulley | ಪ್ಲಾಟ್ ಪುಲೀ

B. Jockey pulley | ಜಾಕೀ ಪುಲೀ

C. Stepped pulley | ಸ್ಟೆಪ್ಡ್ ಪುಲೀ ☐

D. Fast and loose pulley | ಪಾಸ್ ಮತ್ತು ಲೂಸ್ ಪುಲೀ ☐

Q4 **INCORRECT** What is the name of the fit shown in the figure? | ಚಿತ್ರದಲ್ಲಿ ತೋರಿಸಿರುವ ಫಿಟ್‌ನ ಹೆಸರೇನು?



A. Transition fit | ಟ್ರಾನ್ಸಿಷನ್ ಫಿಟ್

B. Shrinkage fit | ಶ್ರಂಕೇಜ್ ಫಿಟ್ ☐

C. Clearance fit | ಕ್ಲಿಯರೆನ್ಸ್ ಫಿಟ್

D. Interference fit | ಇಂಟರ್ಫೆರೆನ್ಸ್ ಫಿಟ್ ☐

Q5 **INCORRECT** Which ore extracts zinc? | ಸತುವನ್ನು (ಜಿಂಕ್) ಹೊರತೆಗೆಯಲು ಯಾವ ಅದಿರನ್ನು ಬಳಸಲಾಗುತ್ತದೆ?

A. Bauxite | ಬಾಕ್ಸೈಟ್

B. Galena | ಗಲೆನಾ ☐

C. Calamine | ಕ್ಯಾಲಮೈನ್ ☐

D. Cassiterite | ಕ್ಯಾಸಿಟರೈಟ್

Q6 UNANSWERED Why agricultural equipment is made up of wrought iron? | ಕೃಷಿ ಉಪಕರಣವನ್ನು ರಾಟ್ ಐರನಿಂದ ಏಕೆ ತಯಾರಿಸಲಾಗುತ್ತದೆ?

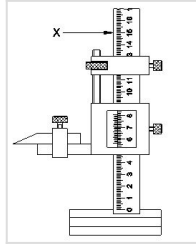
A. High cost | ಕಡಿಮೆ ವೆಚ್ಚ

B. Heavy weight | ಭಾರೀ ತೂಕ

C. Wear resistant | ನಿರೋಧಕ ಧರಿಸುತ್ತಾರೆ

D. Corrosion resistant | ಸವೆತ ನಿರೋಧಕ

Q7 INCORRECT What is the name of the part marked as X shown in the figure? | ಚಿತ್ರದಲ್ಲಿ X ಎಂದು ಗುರುತಿಸಲಾದ ಭಾಗದ ಹೆಸರೇನು?



A. Base | ಬೇಸ್

B. Beam | ಬೀಮ್

C. Main scale | ಮೇನ್ ಸ್ಕೇಲ್

D. Vernier scale | ವರ್ನಿಯರ್ ಸ್ಕೇಲ್

Q8 CORRECT Why lime stone is added as flux to the ore in the blast furnace? | ಬ್ಲಾಸ್ಟ್ ಫರ್ನೇಸ್‌ನಲ್ಲಿರುವ ಅದಿರಿನಲ್ಲಿ ಸುಣ್ಣದ ಕಲ್ಲನ್ನು ಫ್ಲಕ್ಸ್ ಆಗಿ ಏಕೆ ಸೇರಿಸಲಾಗುತ್ತದೆ?

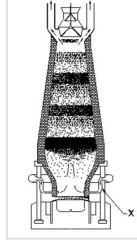
A. To form molten slag | ಮೋಲ್ಟನ್ ಸ್ಲಾಗ್ ಅನ್ನು ರೂಪಿಸಲು

B. To supply oxygen | ಆಮ್ಲಜನಕವನ್ನು ಪೂರೈಸಲು

C. To burn the carbon in coke | ಇಂಗಾಲವನ್ನು ಕೋಕ್‌ನಲ್ಲಿ ಸುಡಲು

D. To increase the melting point of ore | ಅದಿರಿನ ಮೆಲ್ಟಿಂಗ್ ಪಾಯಿಂಟ್ ಹೆಚ್ಚಿಸಲು

Q9 **INCORRECT** What is the name of the part marked as 'X' shown in the figure? | ಚಿತ್ರದಲ್ಲಿ ತೋರಿಸಿರುವ X ಒಂದು ಗುರುತಿಸಲಾದ ಭಾಗದ ಹೆಸರೇನು?



A. Tuyeres | ಟಯೇರಿಸ್

B. Molten slag | ಮೊಲ್ಟನ್ ಸ್ಲಾಗ್

C. Molten iron | ಕರಗಿದ ಕಬ್ಬಿಣ

D. Tapping hole | ಟ್ಯಾಪಿಂಗ್ ಹೋಲ್

Q10 **UNANSWERED** Which cast iron has the ability to reduce vibration and tool chattering in machine tools? | ಯಾವ ಎರಕಹೊಯ್ದ ಕಬ್ಬಿಣವು ಯಂತ್ರೋಪಕರಣಗಳಲ್ಲಿ ಕಂಪನ ಮತ್ತು ಉಪಕರಣದ ಚಾಟರಿಂಗ್ ಕಡಿಮೆ ಮಾಡುವ ಸಾಮರ್ಥ್ಯವನ್ನು ಹೊಂದಿದೆ?

A. Grey cast iron | ಗ್ರೇಯ್ ಕ್ಯಾಸ್ಟ್ ಐರನ್

B. White cast iron | ವೈಟ್ ಕ್ಯಾಸ್ಟ್ ಐರನ್

C. Nodular cast iron | ನೋಡ್ಯೂಲರ್ ಕ್ಯಾಸ್ಟ್ ಐರನ್

D. Malleable cast iron | ದುರ್ಬಲವಾದ (ಮೆಲೆಬಲ್) ಕ್ಯಾಸ್ಟ್ ಐರನ್

Q11 **CORRECT** What is the lower limit of size, if dimension is stated as | ಡೈಮೆನ್ಷನ್ ಹೀಗೆ ಹೇಳಿದರೆ, ಲೋಯರ್ ಲಿಮಿಟ್ ಸೈಜ್ ಏನು,

$$\begin{matrix} +0.021 \\ \text{Ø } 25 \\ -0.000 \end{matrix}$$

A. 24.85 mm

B. 24.75 mm

C. 25.00 mm

D. 25.021 mm

Q12 **UNANSWERED** What is the difference between the maximum limit of size and the minimum limit of size? | ಮ್ಯಾಕ್ಸಿಮಮ್ ಲಿಮಿಟ್ ಸೈಜ್ ಮತ್ತು ಮಿನಿಮಮ್ ಲಿಮಿಟ್ ಸೈಜ್ ನಡುವಿನ ವ್ಯತ್ಯಾಸವೇನು?

A. Tolerance | ಟಾಲರೇನ್ಸ್

B. Basic size | ಬೇಸಿಕ್ ಸೈಜ್

C. Limits of size | ಲಿಮಿಟ್ಸ್ ಆಫ್ ಸೈಜ್

D. Upper deviation | ಅಪರ್ ಲಿಮಿಟ್

Q13 **UNANSWERED** What is the expression for 30H7/g6? | 30H7/g6 ಏನನ್ನು ಬಿಂಬಿಸುತ್ತದೆ?

A. Fit | ಫಿಟ್

B. Limits | ಮಿತಿ

C. Deviation | ಡೀವಿಯೇಶನ್

D. Tolerance | ಟಾಲರೇನ್ಸ್

Q14 **INCORRECT** Which tool is used to remove high spots on all flat and curved surfaces? | ಎಲ್ಲಾ ಫ್ಲಾಟ್ ಮತ್ತು ಬಾಗಿದ ಮೇಲ್ಮೈಗಳಲ್ಲಿ (ಕರ್ವ್ಡ್ ಸರ್ಫೇಸ್) ಹೆಚ್ಚಿನ ಕಲೆಗಳನ್ನು ತೆಗೆದುಹಾಕಲು ಯಾವ ಸಾಧನವನ್ನು ಬಳಸಲಾಗುತ್ತದೆ?

A. File | ಫೈಲ್

B. Hacksaw | ಹ್ಯಾಕ್ ಸಾ

C. Chisel | ಚಿಸೆಲ್

D. Scraper | ಸ್ಕ್ರೇಪರ್

Q15 **CORRECT** Why zinc alloy is used for coating of roofing sheets? | ರೂಫಿಂಗ್ ಶೀಟ್‌ಗಳ ಲೇಪನಕ್ಕಾಗಿ ಸತು ಮಿಶ್ರಲೋಹವನ್ನು (ಜಿಂಕ್ ಅಲ್ಯಾಯ್) ಏಕೆ ಬಳಸಲಾಗುತ್ತದೆ?

A. Due to low density | ಕಡಿಮೆ ಸಾಂದ್ರತೆಯಿಂದಾಗಿ

B. Due to thermal expansion | ಉಷ್ಣ ವಿಸ್ತರಣೆಯಿಂದಾಗಿ

C. Due to corrosion resistant | ತುಕ್ಕು ನಿರೋಧಕ ಕಾರಣ

D. Due to heat conduction | ಶಾಖ ವಹನದಿಂದಾಗಿ

Q16 **INCORRECT** Which is the purest form of an iron? | ಕಬ್ಬಿಣದ ಶುದ್ಧ ರೂಪ ಯಾವುದು?

A. Grey cast iron | ಗ್ರೇಯ್ ಕಾಸ್ಟ್ ಐರನ್

B. Wrought iron | ರಾಟ್ ಐರನ್

C. Pig iron | ಪಿಗ್ ಐರನ್

D. Cast iron | ಕಾಸ್ಟ್ ಐರನ್

Q17 **CORRECT** Which alloy is used for coating on steel sheets of food containers? | ಆಹಾರ ಪಾತ್ರೆಗಳ ಉಕ್ಕಿನ (ಸ್ಟೀಲ್) ಹಾಳೆಗಳ ಮೇಲೆ ಲೇಪನಕ್ಕಾಗಿ ಯಾವ ಮಿಶ್ರಲೋಹವನ್ನು ಬಳಸಲಾಗುತ್ತದೆ?

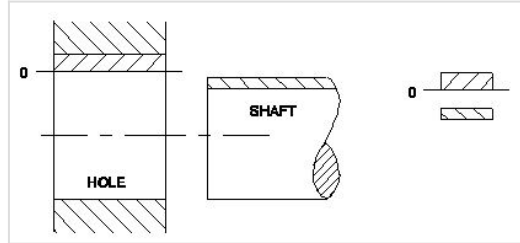
A. Tin | ತವರ (ಟಿನ್)

B. Lead | ಲೆಡ್

C. Copper | ತಾಮ್ರ

D. Bronze | ಕಂಚು

Q18 **INCORRECT** What is the name of the fit shown in the figure? | ಚಿತ್ರದಲ್ಲಿ ತೋರಿಸಿರುವ ಫಿಟ್‌ನ ಹೆಸರೇನು?



A. Transition fit | ಟ್ರಾನ್ಸಿಷನ್ ಫಿಟ್

B. Clearance fit | ಕ್ಲಿಯರೆನ್ಸ್ ಫಿಟ್

C. Shrinkage fit | ಶ್ರಿಂಕೇಜ್ ಫಿಟ್

D. Interference fit | ಇಂಟರ್ಫೆರೆನ್ಸ್ ಫಿಟ್

Q19 **CORRECT** Which steel is used for making cold chisels? | ಕೋಲ್ಡ್ ಚಿಸೆಲ್ ತಯಾರಿಸಲು ಯಾವ ಸ್ಟೀಲನ್ನು ಬಳಸಲಾಗುತ್ತದೆ?

A. Dead mild steel | ಡೆಡ್ ಮೈಲ್ಡ್ ಸ್ಟೀಲ್

B. Medium carbon steel | ಮೀಡಿಯಂ ಕಾರ್ಬನ್ ಸ್ಟೀಲ್

C. High carbon steel | ಹೈ ಕಾರ್ಬನ್ ಸ್ಟೀಲ್

D. Mild steel | ಮೈಲ್ಡ್ ಸ್ಟೀಲ್

Q20 **INCORRECT** Which term refers to the relationship that exists between two mating parts? | ಎರಡು ಮೇಟಿಂಗ್ ಪಾರ್ಟ್ಸ್ ನಡುವಿನ ಸಂಬಂಧವನ್ನು ಯಾವ ಪದವು ಸೂಚಿಸುತ್ತದೆ?

A. Fit | ಫಿಟ್

B. Limit | ಮಿತಿ

C. Tolerance | ಟಾಲರೆನ್ಸ್

D. Allowance | ಅಲೋವೆನ್ಸ್

Q21 **CORRECT** Which factor determines the selection of wire in screw thread micrometer? | ಸ್ಕ್ರೂ ಥ್ರೆಡ್ ಮೈಕ್ರೋಮೀಟರ್‌ನಲ್ಲಿ ತಂತಿಯ ಆಯ್ಕೆಯನ್ನು ಯಾವ ಅಂಶವು ನಿರ್ಧರಿಸುತ್ತದೆ?

A. Thread angle | ಥ್ರೆಡ್ ಕೋನ

B. Pitch of the thread | ತ್ರೆಡ್‌ನ ಪಿಚ್

C. Root and crest | ರೂಟ್ ಮತ್ತು ಕ್ರೆಸ್ಟ್

D. Major diameter | ಮೇಜರ್ ಡಯಾಮೀಟರ್

Q22 **CORRECT** Which semi-permanent fasteners firmly holds the plate and steel sections? | ಫಲಕಗಳು ಮತ್ತು ಉಕ್ಕಿನ ವಿಭಾಗಗಳನ್ನು (ಸೆಕ್ಷನ್‌ಗಳನ್ನು) ದೃಢವಾಗಿ ಹಿಡಿದಿಡಲು ಬಳಸುವ ಅರೆ-ಶಾಶ್ವತ ಫಾಸ್ಟೆನರ್ ಯಾವುದು?

A. Welding | ಬೋಲ್ಡ್

B. Bolt and nut | ನಟ್

C. Soldering | ಸೆಲ್ಡಿಂಗ್

D. Rivet | ರಿವೆಟ್

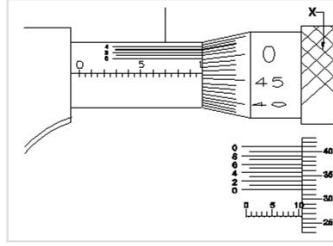
**Q23 CORRECT** When is a vernier micrometer is preferred over ordinary micrometer for taking measurement? | ಮಾಪನವನ್ನು ತೆಗೆದುಕೊಳ್ಳಲು ಸಾಮಾನ್ಯ ಮೈಕ್ರೋಮೀಟರ್‌ಗಿಂತ ವರ್ನಿಯರ್ ಮೈಕ್ರೋಮೀಟರ್ ಅನ್ನು ಯಾವಾಗ ಆದ್ಯತೆ ನೀಡಲಾಗುತ್ತದೆ?

- A. Need an accuracy of 0.02 mm
- B. Need an accuracy of 0.001 mm
- C. Need an accuracy of 0.0001 mm
- D. Need an accuracy of 0.01 mm

**Q24 CORRECT** Which mechanism is used in the lever type dial test indicator? | ಲೆವರ್ ಟೈಪ್ ಡಯಲ್ ಟೆಸ್ಟ್ ಇಂಡಿಕೇಟರ್‌ನಲ್ಲಿ ಯಾವ ಕಾರ್ಯವಿಧಾನವನ್ನು ಬಳಸಲಾಗುತ್ತದೆ?

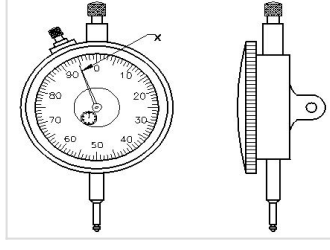
- A. Rack and pinion | ರಾಕ್ ಮತ್ತು ಪಿನಿಯನ್
- B. Worm and worm wheel | ವರ್ಮ್ ಮತ್ತು ವರ್ಮ್ ಚಕ್ರ
- C. Lever and scroll | ಲೆವರ್ ಮತ್ತು ಸ್ಕ್ರಾಲ್
- D. Pawl and ratchet | ಪಾಲ್ ಮತ್ತು ರಾಚೆಟ್

**Q25 CORRECT** What is the name of the part marked as 'X' shown in the figure? | ಚಿತ್ರದಲ್ಲಿ ತೋರಿಸಿರುವ X ಓದು ಗುರುತಿಸಲಾದ ಭಾಗದ ಹೆಸರೇನು?



- A. Anvil | ಆನ್ವಿಲ್
- B. Barrel | ಬ್ಯಾರೆಲ್
- C. Thimble | ಥಿಂಬಲ್
- D. Ratchet stop | ರಾಚೆಟ್ ಸ್ಟಾಪ್

**Q26 INCORRECT** What is the name of the part marked as 'X' shown in the figure? | ಚಿತ್ರದಲ್ಲಿ ತೋರಿಸಿರುವ X ಓದು ಗುರುತಿಸಲಾದ ಭಾಗದ ಹೆಸರೇನು?



- A. Anvil | ಆನಿಲ್
- B. Steam | ಸ್ಟೀಮ್
- C. Pointer | ಪಾಯಿಂಟರ್
- D. Plunger | ಪ್ಲಂಜರ್

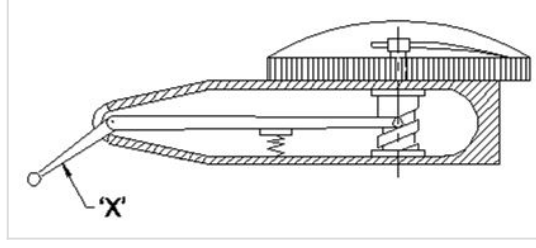
**Q27 CORRECT** Which fasteners joins two or more components and can be dismantled without any damaging? | ಯಾವ ಫಾಸ್ಟೆನರ್‌ಗಳು ಎರಡು ಅಥವಾ ಹೆಚ್ಚಿನ ಕಾಂಪೋನೆಂಟ್‌ಗಳನ್ನು ಸೇರುತ್ತವೆ ಮತ್ತು ಯಾವುದೇ ಹಾನಿಯಾಗದಂತೆ ತೆಗೆಯಬಹುದು?

- A. Semi-permanent fasteners | ಅರೆ ಶಾಶ್ವತ ಫಾಸ್ಟೆನರ್‌ಗಳು
- B. Temporary fasteners | ತಾತ್ಕಾಲಿಕ ಫಾಸ್ಟೆನರ್‌ಗಳು
- C. Permanent fasteners | ಶಾಶ್ವತ ಫಾಸ್ಟೆನರ್‌ಗಳು
- D. rigid fasteners | ರಿಜಿಡ್ ಫಾಸ್ಟೆನರ್‌ಗಳು

**Q28 CORRECT** Which instrument has the magnification of the small movement of the plunger converted into a rotary motion of the pointer on a circular scale? | ಯಾವ ಉಪಕರಣವು ಪ್ಲಂಜರ್‌ನ ಸಣ್ಣ ಚಲನೆಯ ವರ್ಧನೆಯು ವೃತ್ತಾಕಾರದ ಪ್ರಮಾಣದಲ್ಲಿ ಪಾಯಿಂಟರ್‌ನ ರೋಟರಿ ಚಲನೆಯಾಗಿ ಪರಿವರ್ತನೆಗೊಂಡಿದೆ?

- A. Dial test indicator | ಡಯಲ್ ಟೆಸ್ಟ್ ಇಂಡಿಕೇಟರ್
- B. Screw thread micrometer | ಸ್ಕ್ರೂ ಥ್ರೆಡ್ ಮೈಕ್ರೋಮೀಟರ್
- C. Inside micrometer | ಇನ್ ಸೈಡ್ ಮೈಕ್ರೋಮೀಟರ್
- D. Flange micrometer | ಫ್ಲೇಂಜ್ ಮೈಕ್ರೋಮೀಟರ್

Q29 **CORRECT** What is the name of the part marked as 'X' shown in the figure? | ಚಿತ್ರದಲ್ಲಿ ತೋರಿಸಿರುವ X ಓದು ಗುರುತಿಸಲಾದ ಭಾಗದ ಹೆಸರೇನು?



A. Pivot | ಪಿವೋಟ್

B. Lever | ಲಿವರ್

C. Stylus | ಸ್ಟೈಲಸ್

D. Scroll | ಸ್ಕ್ರೋಲ್

Q30 **INCORRECT** Which micrometer has the provision of interchangeable anvils? | ಯಾವ ಮೈಕ್ರೋಮೀಟರ್ ಪರಸ್ಪರ ಬದಲಾಯಿಸಬಹುದಾದ ಅಂವಿಲ್‌ಗಳನ್ನು ಹೊಂದಿದೆ?

A. Depth micrometer | ಡೆಪ್ತ್ ಮೈಕ್ರೋಮೀಟರ್

B. Inside micrometer | ಇನ್‌ಸೈಡ್ ಮೈಕ್ರೋಮೀಟರ್

C. Outside micrometer | ಔಟ್‌ಸೈಡ್ ಮೈಕ್ರೋಮೀಟರ್

D. Screw thread micrometer | ಸ್ಕ್ರೂ ಥ್ರೆಡ್ ಮೈಕ್ರೋಮೀಟರ್

Q31 **CORRECT** What is the value of  $14x+3y+25x+2y$ ?

A.  $17x + 27y$

B.  $16x + 28y$

C.  $39x + 5y$

D.  $44xy$

**Q32 UNANSWERED** What is the multiplication value of  $5a^2 \times 8a^5 b^3$ ?

A.  $40a^7 b^4$

B.  $40a^3 b^2$

C.  $40a^4 b^7$

D.  $40a^2 b^3$

**Q33 CORRECT** What is the simplified value of  $(3x + 15) / (5x + 25)$

A.  $(5/3)$

B.  $(3/5)$

C.  $(-5/3)$

D.  $(-3/5)$

**Q34 CORRECT** What is the value of x if  $13+x = 20$ ?

A. 8

B. 7

C. 9

D. 13

**Q35 CORRECT** What is the value of x, if  $x \times (120) = 960$ ?

A. 6

B. 7

C. 8

D. 10

Q36 **CORRECT** What is the formula for  $a^m \times a^n$ ?

A.  $a^{m+n}$

B.  $a^{m-n}$

C.  $a^{mn}$

D.  $n \cdot a^m$

Q37 **CORRECT** Which is the formula for  $a^m / a^n$ ?

A.  $a^{m+n}$

B.  $a^{m-n}$

C.  $a^{m \times n}$

D.  $(a^m)^n$

Q38 **UNANSWERED** What is the value of any number raised to the power of 0?

B. 1

C. (-1)

D. Alpha (?)

Q39 **CORRECT** Which is equal to  $(a^m)^n$ ?

A.  $a^{m-n}$

B.  $a^{m+n}$

C.  $a^{m/n}$

D.  $a^{mn}$

Q40 **CORRECT** What is the expanded form of  $(a+b)^2$ ?

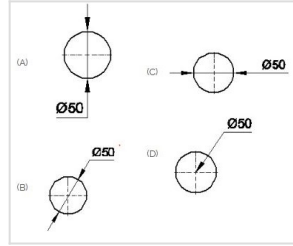
A.  $a^2 + 2ab + b^2$

B.  $a^2 - 2ab + b^2$

C.  $a^2 + 2ab - b^2$

D.  $(-a^2 - 2ab + b^2)$

Q41 **UNANSWERED** Which dimension correctly marked in the circle as per standard? | ಮಾನದಂಡದ ಪ್ರಕಾರ ವೃತ್ತದಲ್ಲಿ ಯಾವ ಆಯಾಮವನ್ನು ಸರಿಯಾಗಿ ಗುರುತಿಸಲಾಗಿದೆ?



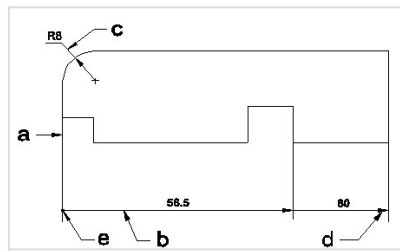
A. A

B. B

C. C

D. D

Q42 **INCORRECT** Identify the line 'a' or 'b' or 'c' or 'd' or 'e' in the diagram. | ಸರಿಯಾದ ಗುರುತಿಸುವುದೇ?



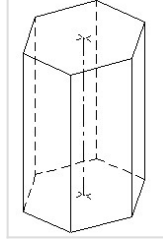
A. Dimension line | ಡೈಮೆನ್ಷನ್ ಲೈನ್

B. Extension line | ಎಕ್ಸ್ಟೆನ್ಷನ್ ಲೈನ್

C. Leader line | ಲೀಡರ್ ಲೈನ್

D. Termination of dimension line | ಆಯಾಮ ರೇಖೆಯ ಮುಕ್ತಾಯ

Q43 **CORRECT** Identify the name of prism? | ತ್ರಿಸ್ತಂಭ ಹೆಸರನ್ನು ಗುರುತಿಸುವುದೇ?



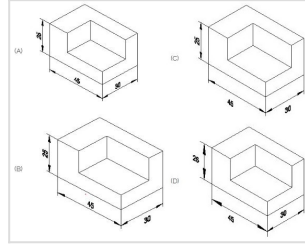
A. Square prism | ಚದರ ತ್ರಿಸ್ತಂಭ

B. Pentagonal prism | ಪೆಂಟಾಗೋನಲ್ ತ್ರಿಸ್ತಂಭ

C. Triangular prism | ತ್ರಿಕೋನ ತ್ರಿಸ್ತಂಭ

D. Hexagonal prism | ಷಡ್ಭುಜೀಯ ತ್ರಿಸ್ತಂಭ

Q44 **CORRECT** Which drawing dimension is correct as per standard drawing practice? | ಸ್ಟಾಂಡರ್ಡ್ ಡ್ರಾಯಿಂಗ್ ಅಭ್ಯಾಸದ ಪ್ರಕಾರ ಯಾವ ಡ್ರಾಯಿಂಗ್ ಆಯಾಮ ಸರಿಯಾಗಿದೆ?



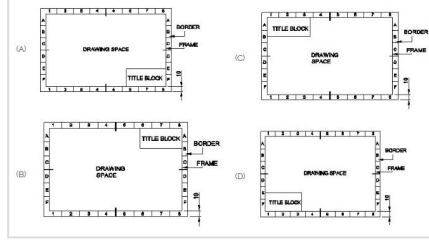
A. A

B. B

C. C

D. D

Q45 **INCORRECT** Which title block position is correct as standard practice? | ಪ್ರಮಾಣಿತ ಅಭ್ಯಾಸದಂತೆ ಯಾವ ಶೀರ್ಷಿಕೆ ಬ್ಲಾಕ್ ಸ್ಥಾನವು ಸರಿಯಾಗಿದೆ?



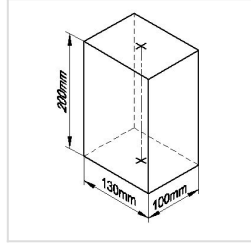
A. A

B. B

C. C

D. D

Q46 **CORRECT** Identify the name of prism? | ಪ್ರಿಸ್ಮ್ ಹೆಸರನ್ನು ಗುರುತಿಸುವುದೇ?



A. Rectangle prism | ಆಯತ ಪ್ರಿಸ್ಮ್

B. Square prism | ಚದರ ಪ್ರಿಸ್ಮ್

C. Triangular prism | ತ್ರಿಕೋನ ಪ್ರಿಸ್ಮ್

D. Hexagonal prism | ಷಡ್ಭುಜೀಯ ಪ್ರಿಸ್ಮ್

Q47 **CORRECT** Compass used to draw for \_\_\_\_. | ಕಂಪಾಸ್ ಅನ್ನು \_\_\_\_ ಗೆ ಸೆಳೆಯಲು ಬಳಸಲಾಗುತ್ತದೆ.

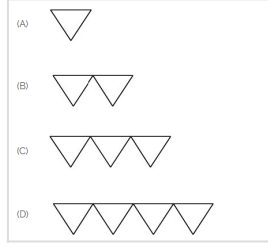
A. rectangle | ಆಯತ

B. square | ಚದರ

C. circle | ವೃತ್ತ

D. triangle | ತ್ರಿಕೋನ

Q48 **CORRECT** Which is roughness symbol for roughness grade N8?



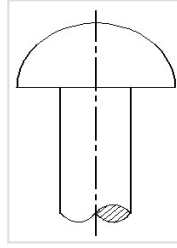
A. A

B. B

C. C

D. D

Q49 **UNANSWERED** Identify the given rivet. | ನೀಡಿರುವ ರಿವೆಟ್ ಅನ್ನು ಗುರುತಿಸಿ.



A. Snap head | ಸ್ನಾಪ್ ಹೆಡ್

B. Flat head | ಫ್ಲಾಟ್ ಹೆಡ್

C. Counter sunk | ಕೌಂಟರ್ ಸುಂಕ್

D. Pan head | ಪ್ಯಾನ್ ಹೆಡ್

Q50 **INCORRECT** Identify the name of set square? | ಸೆಟ್ ಚೌಕದ ಹೆಸರನ್ನು ಗುರುತಿಸುವುದೇ?



A. 15° set square | 15° ಸೆಟ್ ಸ್ವೇರ್

B. 60° set square | 60° ಸೆಟ್ ಸ್ವೇರ್

C. 30° set square | 30° ಸೆಟ್ ಸ್ವೇರ್

D. 45° set square | 45° ಸೆಟ್ ಸ್ವೇರ್

