

GOVT ITI DODDABALLAPURA

ELECTRICIAN

Q. ID: ITISKILL01220D | December 2025

100.00% 10 / 10

Student Name	Balaji naik v	Access Code	1137
Attempt No.	#1	Completion Time	11:12 AM
Rank	#1	Total Questions	10

10 SCORE

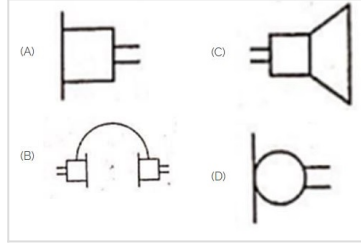
10 MAX MARKS

10 CORRECT

0 INCORRECT

Answer Review

Q1 CORRECT Identify the symbol used for microphone (general) in electrical and electronic circuits. | ಎಲೆಕ್ಟ್ರಿಕಲ್ ಮತ್ತು ಎಲೆಕ್ಟ್ರಾನಿಕ್ ಸರ್ಕ್ಯೂಟ್‌ಗಳಲ್ಲಿ ಮೈಕ್ರೋಫೋನ್ (ಸಾಮಾನ್ಯ) ಗಾಗಿ ಬಳಸುವ ಚಿಹ್ನೆಯನ್ನು ಗುರುತಿಸಿ.



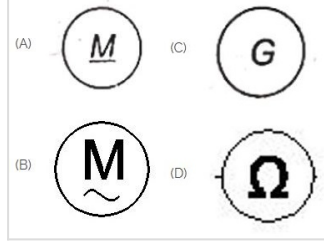
A. A

B. B

C. C

D. D

Q2 CORRECT Which is a symbol of DC motor? | DC ಮೋಟರ್‌ನ ಸಂಕೇತ ಯಾವುದು?



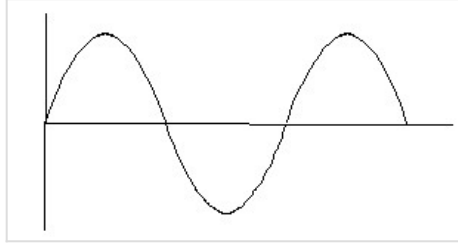
A. A

B. B

C. C

D. D

Q3 CORRECT Identify the wave form. | ವೇವ್ ಫಾರ್ಮ್ ವನ್ನು ಗುರುತಿಸಿ.



A. Square wave | ಸ್ಕ್ವೇರ್ ವೇವ್

B. Sine wave | ಸೈನ್ ವೇವ್

C. Triangle wave | ತ್ರಿಕೋನ ವೇವ್

D. Saw-tooth wave | ಸಾ-ಟೂತ್ ವೇವ್

Q4 CORRECT What is the material of line insulator? | ಲೈನ್ ಇನ್ಸುಲೇಟರ್‌ನ ಮೇಟೀರಿಯಲ್ ಯಾವುದು?

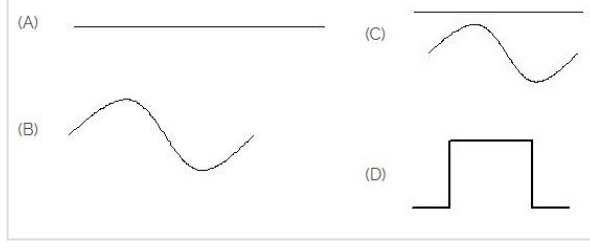
A. Copper | ತಾಮ್ರ

B. Aluminium | ಅಲ್ಯೂಮಿನಿಯಂ

C. Porcelain clay | ಪಿಂಗಾಣಿ ಮಣ್ಣಿನ

D. Rubber | ರಬ್ಬರ್

Q5 **CORRECT** Identify the symbol for direct and alternating current. | ನೇರ ಮತ್ತು ಪರ್ಯಾಯ ಪ್ರವಾಹದ ಚಿಹ್ನೆಯನ್ನು ಗುರುತಿಸಿ.



A. A

B. B

C. C

D. D

Q6 **CORRECT** Which is ball peen hammer? | ಬಾಲ್ ಪೀನ್ ಸುತ್ತಿಗೆ ಯಾವುದು?



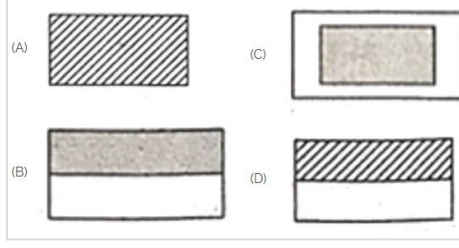
A. A

B. B

C. C

D. D

Q7 CORRECT Choose the symbol for main fuse board without switches (P). | ಸಿಬ್ಬಿಟ್‌ಗಲು (ಪಿ) ಇಲ್ಲದೆ ಢುಖ್ಯ ಫ್ಯೂಸ್ ಬೋರ್ಡ್‌ಗಾಗಿ ಚಿಹ್ನೆಯನ್ನು ಆರಿಸಿ.



A. A

B. B

C. C

D. D

Q8 CORRECT Which device is used to start and stop a motor? | ಢೋಟಾರ್ ಅನ್ನು ಪ್ರಾರಂಭಿಸಲು ಢತ್ತು ನಿಲ್ಲಿಸಲು ಯಾವ ಸಾಧನವನ್ನು ಬಳಸಲಾಗುತ್ತದೆ?

A. Rotor | ರೋಟರ್

B. Starter | ಸ್ಟಾರ್ಟರ್

C. Stator | ಸ್ಟೇಟರ್

D. Slip ring | ಸ್ಲಿಪ್ ರಿಂಗ್

Q9 CORRECT Which is protective device? | ರಕ್ಷಣಾತ್ಢಕ ಸಾಧನ ಯಾವುದು?

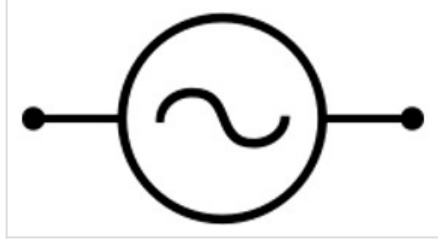
A. Fuse | ಫ್ಯೂಸ್

B. Resistor | ರೆಸಿಸ್ಟರ್

C. Magnet | ಢ್ಯಾಗ್ನೆಟ್

D. Capacitor | ಕೆಪಾಸಿಟರ್

Q10 **CORRECT** Identify the given symbol | ನೀಡಿರುವ ಚಿಹ್ನೆಯನ್ನು ಗುರುತಿಸಿ



A. AC

B. DC

C. Ohms | ಓಮ್ಸ್

D. Inductance | ಇಂಡಕ್ಟೆನ್ಸ್