

ITI Quiz - 06-Mar-2026 04:01 PM

Q. ID: ITISKILL3976Z3 | March 2026

75.00% 12 / 16

Student Name	vasanthkumar.	Access Code	0037
Attempt No.	#3	Completion Time	04:25 PM
Rank	#1	Total Questions	16

12 SCORE

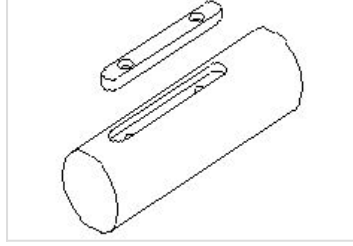
16 MAX MARKS

12 CORRECT

4 INCORRECT

Answer Review

Q1 **INCORRECT** What is the name of the key shown in the figure? | ಚಿತ್ರದಲ್ಲಿ ತೋರಿಸಿರುವ ಕೀಲಿಯ ಹೆಸರೇನು?



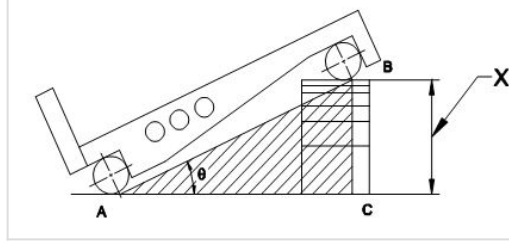
A. Sunk key | ಸನ್ಕ್ ಕೀ

B. Feather key | ಫೆದರ್ ಕೀ □

C. Flat saddle key | ಫ್ಲಾಟ್ ಸ್ಯಾಡಲ್ ಕೀಲಿ □

D. Hollow saddle key | ಹಾಲೊ ಸ್ಯಾಡಲ್ ಕೀ

Q2 CORRECT What is the name of the part marked as 'X' shown in the figure? | ಚಿತ್ರದಲ್ಲಿ ತೋರಿಸಿರುವ X ಡಿಯು ಗುರುತಿಸಲಾದ ಭಾಗದ ಹೆಸರೇನು?



A. Height of slip gauge | ಸ್ಲಿಪ್ ಗೇಜ್ ಎತ್ತರ

B. Length of sine bar | ಸೈನ್ ಬಾರ್ ಉದ್ದ

C. Datum surface | ದಾಟಮ್ ಸರ್ಫೇಸ್

D. Taper angle | ಟೇಪರ್ ಆಂಗಲ್

Q3 INCORRECT What is the name of the slip gauge grade used for inspection? | ತಪಾಸಣೆಗೆ ಬಳಸುವ ಸ್ಲಿಪ್ ಗೇಜ್ ದರ್ಜೆಯ ಹೆಸರೇನು?

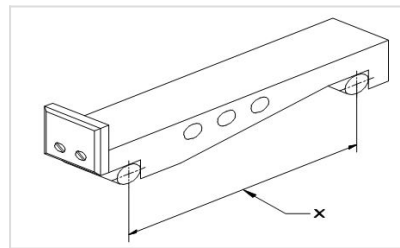
A. Grade I | ಗ್ರೇಡ್ I

B. Grade 0 | ಗ್ರೇಡ್ 0

C. Grade 00 | ಗ್ರೇಡ್ 00

D. Grade II | ಗ್ರೇಡ್ II

Q4 CORRECT What is marked as 'X' shown in the figure? | ಚಿತ್ರದಲ್ಲಿ ತೋರಿಸಿರುವ X ಡಿಯು ಗುರುತಿಸಲಾದ ಭಾಗದ ಹೆಸರೇನು?



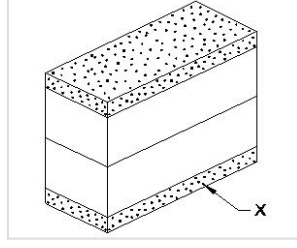
A. Length of sine bar | ಸೈನ್ ಬಾರ್ ಉದ್ದ

B. Drilled holes | ಕೊರೆದ ರಂಧ್ರಗಳು (ಡ್ರಿಲ್ ಹೋಲ್ಸ್)

C. Contact rollers | ಕಾಂಟ್ಯಾಕ್ಟ್ ರೋಲರುಗಳು

D. Width | ಅಗಲ

Q5 CORRECT What is the name of the part marked as X shown in the figure?
 ಚಿತ್ರದಲ್ಲಿ ತೋರಿಸಿರುವ X ಯು ಗುರುತಿಸಲಾದ ಭಾಗದ ಹೆಸರೇನು?



A. https://mocktest2.nimiquestionbank.in/qb/images/qb_question_images/FIT2-2-755.JPG

B. Leather pad | ಲೆದರ್ ಪ್ಯಾಡ್

C. Protector slip | ಪ್ರೊಟೆಕ್ಟರ್ ಸ್ಲಿಪ್

D. Steel sheet | ಉಕ್ಕಿನ ಹಾಳೆ

Q6 CORRECT What is the act of joining the slip gauges together for building up sizes? | ಗಾತ್ರಗಳನ್ನು ನಿರ್ಮಿಸಲು ಸ್ಲಿಪ್ ಗೇಜ್‌ಗಳನ್ನು ಒಟ್ಟಿಗೆ ಸೇರಿಸುವ ಕ್ರಿಯೆಯನ್ನು ಏನೆಂದು ಕರೆಯುತ್ತಾರೆ?

A. Glazing | ಗ್ಲೇಜಿಂಗ್

B. Pinning | ಪಿನ್ನಿಂಗ್

C. Loading | ಲೋಡಿಂಗ್

D. Wringing | ರಿಂಗಿಂಗ್

Q7 CORRECT Which is used to clean the slip gauge? | ಸ್ಲಿಪ್ ಗೇಜ್ ಅನ್ನು ಸ್ವಚ್ಛಗೊಳಿಸಲು ಯಾವುದನ್ನು ಬಳಸಲಾಗುತ್ತದೆ?

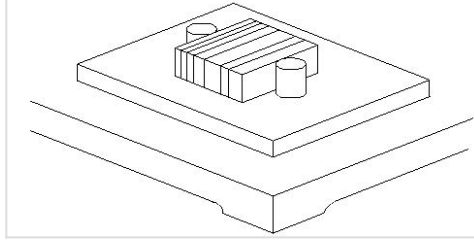
A. Wax | ವ್ಯಾಕ್ಸ್

B. Kerosene | ಕೀರೋಸಿನ್

C. Soluble oil | ಕರಗುವ ತೈಲ

D. Carbon tetrachloride | ಕಾರ್ಬನ್ ಟೆಟ್ರಾ ಕ್ಲೋರೈಡ್

Q8 **CORRECT** What is the name of the application of slip gauge shown in the figure? | ಚಿತ್ರದಲ್ಲಿ ತೋರಿಸಿರುವ ಸ್ಲಿಪ್ ಗೇಜ್‌ನ ಅಪ್ಲಿಕೇಶನ್‌ನ ಹೆಸರೇನು?



A. Drawing circles | ಸರ್ಕಲ್ ಡ್ರಾ ಮಾಡಲು

B. Checking height | ಎತ್ತರವನ್ನು ಪರಿಶೀಲಿಸಲು

C. Checking center distance of holes | ಹೋಲ್‌ಗಳ ಮಧ್ಯದ ಅಂತರವನ್ನು ಪರಿಶೀಲಿಸಲು

D. Layout work | ಲೇಔಟ್ ಕೆಲಸ

Q9 **CORRECT** Which material is used for manufacturing sine bar? | ಸೈನ್ ಬಾರ್ ಅನ್ನು ತಯಾರಿಸಲು ಯಾವ ವಸ್ತುವನ್ನು ಬಳಸಲಾಗುತ್ತದೆ?

A. Invar steel | ಇನ್ವಾರ್ ಸ್ಟೀಲ್

B. High speed steel | ಹೈ ಸ್ಪೀಡ್ ಸ್ಟೀಲ್

C. High carbon steel | ಹೈ ಕಾರ್ಬನ್ ಸ್ಟೀಲ್

D. Stabilized chromium steel | ಸ್ಥಿರವಾದ ಕ್ರೋಮಿಯಂ ಉಕ್ಕಿನ

Q10 **INCORRECT** Which grade of slip gauge is used in general workshop? | ಸಾಮಾನ್ಯ ಕಾರ್ಯಾಗಾರದಲ್ಲಿ ಯಾವ ದರ್ಜೆಯ ಸ್ಲಿಪ್ ಗೇಜ್ ಅನ್ನು ಬಳಸಲಾಗುತ್ತದೆ?

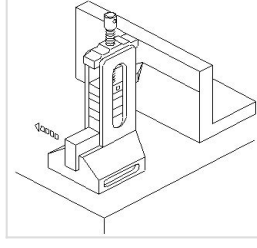
A. Grade I accuracy | ಗ್ರೇಡ್ I ನಿಖರತೆ (ಅಕ್ಕುರೆಸಿ)

B. Grade II accuracy | ಗ್ರೇಡ್ II ನಿಖರತೆ (ಅಕ್ಕುರೆಸಿ)

C. Grade '0' accuracy | ಗ್ರೇಡ್ 00 ನಿಖರತೆ (ಅಕ್ಕುರೆಸಿ)

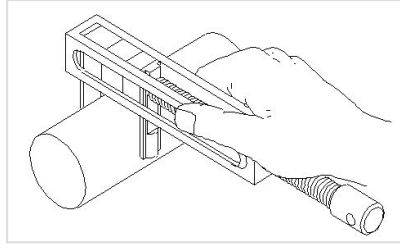
D. Grade '00' accuracy | ಗ್ರೇಡ್ 000 ನಿಖರತೆ (ಅಕ್ಕುರೆಸಿ)

Q11 **CORRECT** What is the name of the instrument shown in the figure? | ಚಿತ್ರದಲ್ಲಿ ತೋರಿಸಿರುವ ಉಪಕರಣದ ಹೆಸರೇನು?



- A. Depth vernier gauge | ಡೆಪ್ತ್ ವರ್ನಿಯರ್ ಗೇಜ್
- B. Vernier height gauge | ವರ್ನಿಯರ್ ಹೈಟ್ ಗೇಜ್
- C. Clamp type height gauge | ಕ್ಲಾಂಪ್ ಟೈಪ್ ಹೈಟ್ ಗೇಜ್
- D. Height gauge with slip gauge holder | ಸ್ಲಿಪ್ ಗೇಜ್ ಹೋಲ್ಡರ್‌ನೊಂದಿಗೆ ಹೈಟ್ ಗೇಜ್

Q12 **CORRECT** Which instrument is used in measuring the external diameter shown in the figure? | ಚಿತ್ರದಲ್ಲಿ ತೋರಿಸಿರುವ ಬಾಹ್ಯ ವ್ಯಾಸವನ್ನು (ಎಕ್ಸ್‌ಟರ್ನಲ್ ಡಯಾಮೀಟರ್) ಅಳಿಯಲು ಯಾವ ಸಾಧನವನ್ನು ಬಳಸಲಾಗುತ್ತದೆ?

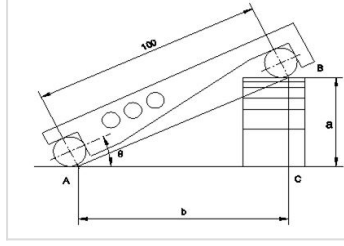


- A. Vernier caliper | ವರ್ನಿಯರ್ ಕ್ಯಾಲಿಪರ್
- B. Outside caliper | ಔಟ್‌ಸೈಡ್ ಕ್ಯಾಲಿಪರ್
- C. Parallel leg caliper | ಸಮಾನಾಂತರ ಲೆಗ್ ಕ್ಯಾಲಿಪರ್
- D. Pair of special jaws by using slip gauge | ಸ್ಲಿಪ್ ಗೇಜ್ ಅನ್ನು ಬಳಸಿಕೊಂಡು ವಿಶೇಷ ಜಾಸ್‌ಗಳ ಜೋಡಿ

Q13 **INCORRECT** Which grade of slip gauge is used for inspection? | ತಪಾಸಣೆಗಾಗಿ ಯಾವ ದರ್ಜೆಯ ಸ್ಲಿಪ್ ಗೇಜ್ ಅನ್ನು ಬಳಸಲಾಗುತ್ತದೆ?

- A. Grade I accuracy | ಗ್ರೇಡ್ I ನಿಖರತೆ (ಅಕ್ಕುರೆಸಿ)
- B. Grade '0' accuracy | ಗ್ರೇಡ್ 0 ನಿಖರತೆ (ಅಕ್ಕುರೆಸಿ)
- C. Grade '00' accuracy | ಗ್ರೇಡ್ 00 ನಿಖರತೆ (ಅಕ್ಕುರೆಸಿ)
- D. Grade II accuracy | ಗ್ರೇಡ್ II ನಿಖರತೆ (ಅಕ್ಕುರೆಸಿ)

Q14 **CORRECT** What is the height of slip gauge ($q = 25^\circ = 0.4226$)? | ಸಿಪ್ ಗೇಜ್‌ನ ಎತ್ತರ ಎಷ್ಟು ($q = 25^\circ = 0.4226$)?



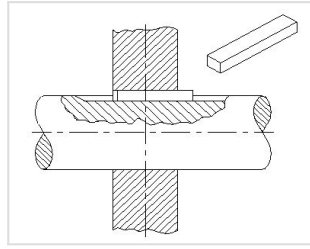
A. 41.26

B. 42.26

C. 43.26

D. 44.26

Q15 **CORRECT** What is the name of the key shown in the figure? | ಚಿತ್ರದಲ್ಲಿ ತೋರಿಸಿರುವ ಕೀ ಹೆಸರೇನು?



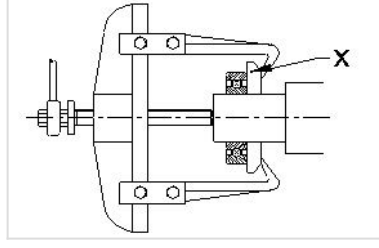
A. Parallel sunk key | ಪ್ಯಾರಲೆಲ್ ಸಂಕ್ ಕೀ

B. Gib head key | ಗಿಬ್ ಹೆಡ್ ಕೀ

C. Wood ruff key | ವುಡ್ ರಫ್ ಕೀ

D. Tapper sunk key | ಟೇಪರ್ ಸಂಕ್ ಕೀ

Q16 **CORRECT** What is the name of the part marked as X shown in the figure? **ಚಿತ್ರದಲ್ಲಿ ತೋರಿಸಿರುವ X ಯು ಗುರುತಿಸಲಾದ ಭಾಗದ ಹೆಸರೇನು?**



A. Leg | ಲೆಗ್

B. Puller | ಪುಲ್ಲರ್

C. Bearing | ಬೇರಿಂಗ್

D. Puller plate | ಪುಲ್ಲರ್ ಪ್ಲೇಟ್